

Question Paper Preview

Notations :

- 1.Options shown in green color and with ✓ icon are correct.
- 2.Options shown in red color and with ✗ icon are incorrect.

Subject Name :	TGT-Social Science(Female)
Creation Date :	2021-10-01 15:27:30
Duration :	120
Total Marks :	200
Display Marks:	Yes
Share Answer Key With Delivery Engine :	No
Actual Answer Key :	Yes
Calculator :	None
Magnifying Glass Required? :	No
Ruler Required? :	No
Eraser Required? :	No
Scratch Pad Required? :	No
Rough Sketch/Notepad Required? :	No
Protractor Required? :	No
Show Watermark on Console? :	Yes
Highlighter :	No
Auto Save on Console? (SA type of questions will be always auto saved) :	No

General Ability

Group Number :	1
Group Id :	976755660
Group Maximum Duration :	0
Group Minimum Duration :	0

Show Attended Group? :	No
Edit Attended Group? :	No
Break time :	0
Group Marks :	20
Is this Group for Examiner? :	No

General Ability

Section Id :	9767551090
Section Number :	1
Section type :	Online
Mandatory or Optional :	Mandatory
Number of Questions :	20
Number of Questions to be attempted :	20
Section Marks :	20
Enable Mark as Answered Mark for Review and Clear Response :	Yes
Sub-Section Number :	1
Sub-Section Id :	9767551265
Question Shuffling Allowed :	Yes

Question Number : 1 Question Id : 97675519805 Question Type : MCQ Option Shuffling : Yes Is Question Mandatory : No Option Orientation : Vertical

Correct Marks : 1 Wrong Marks : 0.25

A series is given with one term wrong. Select that wrong term from the given alternatives.

P5, J10, D20, X40, Q80

Options :

1. ✘ J10
2. ✘ D20
3. ✘ X40
4. ✔ Q80

Question Number : 1 Question Id : 97675519805 Question Type : MCQ Option Shuffling : Yes Is Question Mandatory : No Option

Orientation : Vertical

Correct Marks : 1 Wrong Marks : 0.25

एक अनुक्रम दिया गया है, जिसमें से एक पद गलत है। दिए गए विकल्पों में से उस गलत पद को चुनिए।

P5, J10, D20, X40, Q80

Options :

1. ✘ J10
2. ✘ D20
3. ✘ X40
4. ✔ Q80

Question Number : 2 Question Id : 97675519806 Question Type : MCQ Option Shuffling : Yes Is Question Mandatory : No Option Orientation : Vertical

Correct Marks : 1 Wrong Marks : 0.25

A series is given with one term wrong. Select that wrong term from the given alternatives.

IQ26, EU35, AY45, WC53, SG62

Options :

1. ✘ IQ26
2. ✘ EU35
3. ✔ AY45
4. ✘ SG62

Question Number : 2 Question Id : 97675519806 Question Type : MCQ Option Shuffling : Yes Is Question Mandatory : No Option Orientation : Vertical

Correct Marks : 1 Wrong Marks : 0.25

एक अनुक्रम दिया गया है, जिसमें से एक पद गलत है। दिए गए विकल्पों में से उस गलत पद को चुनिए।

IQ26, EU35, AY45, WC53, SG62

Options :

1. ✘ IQ26
2. ✘ EU35
3. ✔ AY45

4. ✖ SG62

Question Number : 3 Question Id : 97675519807 Question Type : MCQ Option Shuffling : Yes Is Question Mandatory : No Option Orientation : Vertical

Correct Marks : 1 Wrong Marks : 0.25

In the following question, select the odd word from the given alternatives.

Options :

1. ✔ Bat
2. ✖ Crow
3. ✖ Parrot
4. ✖ Pigeon

Question Number : 3 Question Id : 97675519807 Question Type : MCQ Option Shuffling : Yes Is Question Mandatory : No Option Orientation : Vertical

Correct Marks : 1 Wrong Marks : 0.25

निम्नलिखित प्रश्न में दिए गए विकल्पों में से विषम शब्द को चुनिए।

Options :

1. ✔ चमगादड़
2. ✖ कौआ
3. ✖ तोता
4. ✖ कबुतर

Question Number : 4 Question Id : 97675519808 Question Type : MCQ Option Shuffling : Yes Is Question Mandatory : No Option Orientation : Vertical

Correct Marks : 1 Wrong Marks : 0.25

In the following question, a group of letters is given. The letters of each group are related with the letters of the same group by some Logic/Rule/Relation. From the given alternatives, select a group of letters which follows the same Logic/Rule/Relation.

(LT, KU, JV)

Options :

1. ✖ (BD, AE, ZG)
2. ✖ (SF, TE, UD)

3. ✖ (NZ, MY, LX)

4. ✔ (QW, PX, OY)

Question Number : 4 Question Id : 97675519808 Question Type : MCQ Option Shuffling : Yes Is Question Mandatory : No Option Orientation : Vertical

Correct Marks : 1 Wrong Marks : 0.25

निम्नलिखित प्रश्न में, अक्षरों का एक समूह दिया गया है। प्रत्येक समूह के अक्षर उसी समूह के अक्षरों के साथ किस तर्क/नियम/संबंध से संबंधित है। दिये गए विकल्पों में से अक्षरों को एक समूह को चुनिए जो समान तर्क/नियम/संबंध का अनुसरण करता हो।

(LT, KU, JV)

Options :

1. ✖ (BD, AE, ZG)

2. ✖ (SF, TE, UD)

3. ✖ (NZ, MY, LX)

4. ✔ (QW, PX, OY)

Question Number : 5 Question Id : 97675519809 Question Type : MCQ Option Shuffling : Yes Is Question Mandatory : No Option Orientation : Vertical

Correct Marks : 1 Wrong Marks : 0.25

In the following question, select the related letter pair from the given alternatives.

BVL : EYP :: ?

Options :

1. ✖ DOW : GRB

2. ✔ XCJ : AFN

3. ✖ PYN : SCR

4. ✖ ZAQ : CDT

Question Number : 5 Question Id : 97675519809 Question Type : MCQ Option Shuffling : Yes Is Question Mandatory : No Option Orientation : Vertical

Correct Marks : 1 Wrong Marks : 0.25

निम्नलिखित प्रश्न में दिए गए विकल्पों में से संबंधित अक्षर युग्म को चुनिए।

BVL : EYP :: ?

Options :

1. ✘ DOW : GRB
2. ✔ XCJ : AFN
3. ✘ PYN : SCR
4. ✘ ZAQ : CDT

Question Number : 6 Question Id : 97675519810 Question Type : MCQ Option Shuffling : Yes Is Question Mandatory : No Option Orientation : Vertical

Correct Marks : 1 Wrong Marks : 0.25

In a certain code language, 'COURSES' is written as '315211819519'. What is the code for 'DIAGRAM' in that code language?

Options :

1. ✘ 481718113
2. ✘ 49171813
3. ✔ 491718113
4. ✘ 491818113

Question Number : 6 Question Id : 97675519810 Question Type : MCQ Option Shuffling : Yes Is Question Mandatory : No Option Orientation : Vertical

Correct Marks : 1 Wrong Marks : 0.25

एक विशिष्ट कोड भाषा में, 'COURSES' को '315211819519' लिखा जाता है। इस कोड भाषा में 'DIAGRAM' का कोड क्या है?

Options :

1. ✘ 481718113
2. ✘ 49171813
3. ✔ 491718113
4. ✘ 491818113

Question Number : 7 Question Id : 97675519811 Question Type : MCQ Option Shuffling : Yes Is Question Mandatory : No Option Orientation : Vertical

Correct Marks : 1 Wrong Marks : 0.25

Five persons P, Q, R, S and T have different salaries. The salary of S is more than the salaries of only two persons. The salary of R is more than the salary of T. The salary of P is more than the salary of Q, but less than the salary of T.

How many persons have less salary than the salary of R?

Options :

1. ✘ 1
2. ✘ 2
3. ✘ 3
4. ✔ 4

Question Number : 7 Question Id : 97675519811 Question Type : MCQ Option Shuffling : Yes Is Question Mandatory : No Option Orientation : Vertical

Correct Marks : 1 Wrong Marks : 0.25

पाँच व्यक्ति P, Q, R, S तथा T का विभिन्न वेतन है। S का वेतन केवल दो व्यक्तियों के वेतन से अधिक है। R का वेतन T के वेतन से अधिक है। P का वेतन Q के वेतन से अधिक है परन्तु T के वेतन से कम है।

कितने व्यक्तियों का वेतन R के वेतन से कम है?

Options :

1. ✘ 1
2. ✘ 2
3. ✘ 3
4. ✔ 4

Question Number : 8 Question Id : 97675519812 Question Type : MCQ Option Shuffling : Yes Is Question Mandatory : No Option Orientation : Vertical

Correct Marks : 1 Wrong Marks : 0.25

Seven persons A, B, C, D, E, F and G sit around a circular table facing towards the centre (not necessarily in the same order). Two persons sit between C and D. F sits second to the left of C. A sits to the immediate right of E. G sits third to the right of B.

How many persons sit between D and G?

Options :

1. ✘ 0
2. ✔ 1
3. ✘ 2
4. ✘ 3

Question Number : 8 Question Id : 97675519812 Question Type : MCQ Option Shuffling : Yes Is Question Mandatory : No Option Orientation : Vertical

Correct Marks : 1 Wrong Marks : 0.25

सात व्यक्ति A, B, C, D, E, F तथा G एक वृत्ताकार मेज के इर्द-गिर्द केंद्र की ओर मुख करके बैठते हैं (जरूरी नहीं की इसी क्रम में हो)। C तथा D के बीच में दो व्यक्ति बैठते हैं। F, C के बायीं ओर दूसरे स्थान पर बैठता है। A, E के तुरंत दायीं ओर बैठता है। G, B के दायीं ओर तीसरे स्थान पर बैठता है। D तथा G के बीच में कितने व्यक्ति बैठते हैं?

Options :

1. ✘ 0
2. ✔ 1
3. ✘ 2
4. ✘ 3

Question Number : 9 Question Id : 97675519813 Question Type : MCQ Option Shuffling : Yes Is Question Mandatory : No Option Orientation : Vertical

Correct Marks : 1 Wrong Marks : 0.25

Seven games G1, G2, G3, G4, G5, G6 and G7 were played on seven different days of the same week from Monday to Sunday (not necessarily in the same order). Three games were played between G2 and G5. Two games were played between G6 and G4. G3 was played on Tuesday. G2 was played after G4. G7 was played on Friday. G6 was played after G2.

Which of the following statement is correct?

- I. No game was played between G2 and G6.
- II. G1 was played just before G5.

Options :

1. ✘ Only I
2. ✘ Only II
3. ✔ Both I and II
4. ✘ Neither I nor II

Question Number : 9 Question Id : 97675519813 Question Type : MCQ Option Shuffling : Yes Is Question Mandatory : No Option Orientation : Vertical

Correct Marks : 1 Wrong Marks : 0.25

सात खेल G1, G2, G3, G4, G5, G6 तथा G7 को सोमवार से रविवार तक एक ही सप्ताह के सात विभिन्न दिनों में खेला गया था (जरूरी नहीं की इसी क्रम में

हो)। G2 तथा G5 के बीच में तीन खेल खेले गए थे। G6 तथा G4 के बीच में दो खेल खेले गए थे। G3 को मंगलवार को खेला गया था। G2, G4 के बाद खेला गया था। G7 को शुक्रवार को खेला गया था। G6, G2 के बाद खेला गया था।

निम्नलिखित में से कौन सा कथन सही है?

I. G2 तथा G6 के बीच कोई भी खेल नहीं खेला गया था।

II. G1, G5 के ठीक पहले खेला गया था।

Options :

1. ✖ केवल I
2. ✖ केवल II
3. ✔ I तथा II दोनों
4. ✖ ना ही I ना ही II

Question Number : 10 Question Id : 97675519814 Question Type : MCQ Option Shuffling : Yes Is Question Mandatory : No Option Orientation : Vertical

Correct Marks : 1 Wrong Marks : 0.25

In the following question below are given some statements followed by some conclusions based on those statements. Taking the given statements to be true even if they seem to be at variance from commonly known facts. Read all the conclusions and then decide which of the given conclusion logically follows the given statements.

Statements:

I. All E are F.

II. Some E are P.

Conclusions:

I. Some F are P.

II. Some P are not E.

Options :

1. ✔ Only conclusion I follows
2. ✖ Only conclusion II follows
3. ✖ Both conclusion I and II follows
4. ✖ Neither conclusion follows

Question Number : 10 Question Id : 97675519814 Question Type : MCQ Option Shuffling : Yes Is Question Mandatory : No Option Orientation : Vertical

Correct Marks : 1 Wrong Marks : 0.25

नीचे दिए गए प्रश्न में कुछ कथन और उनके बाद उन कथनों पर आधारित कुछ निष्कर्ष दिए गए हैं। दिए गए कथनों को सही माने, चाहे उनमें सामान्य ज्ञात तथ्यों से भिन्नता हो। सभी निष्कर्ष पढ़ें और फिर निर्धारित करें कि दिए गए कौन से निष्कर्ष, दिए गए कथनों के आधार पर युक्तिसंगत हैं।

कथन:

- I. सभी E, F हैं।
- II. कुछ E, P हैं।

निष्कर्ष:

- I. कुछ F, P हैं।
- II. कुछ P, E नहीं हैं।

Options :

1. ✓ केवल निष्कर्ष I अनुसरण करता है
2. ✗ केवल निष्कर्ष II अनुसरण करता है
3. ✗ दोनों निष्कर्ष I तथा II अनुसरण करते हैं
4. ✗ कोई भी निष्कर्ष अनुसरण नहीं करता है

Question Number : 11 Question Id : 97675519815 Question Type : MCQ Option Shuffling : Yes Is Question Mandatory : No Option Orientation : Vertical

Correct Marks : 1 Wrong Marks : 0.25

In the following question below are given some statements followed by some conclusions based on those statements. Taking the given statements to be true even if they seem to be at variance from commonly known facts. Read all the conclusions and then decide which of the given conclusion logically follows the given statements.

Statements:

- I. All D are G.
- II. No G is F.
- III. All F are C.

Conclusions:

- I. Some C are not G.
- II. No D is F.
- III. No D is C.

Options :

1. ✗ Only conclusion I follows

2. ✘ Both conclusion II and III follows
3. ✔ Both conclusion I and II follows
4. ✘ All conclusion follows

Question Number : 11 Question Id : 97675519815 Question Type : MCQ Option Shuffling : Yes Is Question Mandatory : No Option Orientation : Vertical

Correct Marks : 1 Wrong Marks : 0.25

नीचे दिए गए प्रश्न में कुछ कथन और उनके बाद उन कथनों पर आधारित कुछ निष्कर्ष दिए गए हैं। दिए गए कथनों को सही माने, चाहे उनमें सामान्य ज्ञात तथ्यों से भिन्नता हो। सभी निष्कर्ष पढ़ें और फिर निर्धारित करें कि दिए गए कौन से निष्कर्ष, दिए गए कथनों के आधार पर युक्तिसंगत हैं।

कथन:

- I. सभी D, G हैं।
- II. कोई भी G, F नहीं है।
- III. सभी F, C हैं।

निष्कर्ष:

- I. कुछ C, G नहीं हैं।
- II. कोई भी D, F नहीं है।
- III. कोई भी D, C नहीं है।

Options :

1. ✘ केवल निष्कर्ष I अनुसरण करता है
2. ✘ दोनों निष्कर्ष II तथा III अनुसरण करते हैं
3. ✔ दोनों निष्कर्ष I तथा II अनुसरण करते हैं
4. ✘ सभी निष्कर्ष अनुसरण करते हैं

Question Number : 12 Question Id : 97675519816 Question Type : MCQ Option Shuffling : Yes Is Question Mandatory : No Option Orientation : Vertical

Correct Marks : 1 Wrong Marks : 0.25

If $124 \text{ A } 80 \text{ B } 16 = 129$ and $88 \text{ A } 96 \text{ B } 8 = 100$, then $256 \text{ A } 45 \text{ B } 5 = ?$

Options :

1. ✘ 245
2. ✔ 265
3. ✘ 270

4. ✖ 280

Question Number : 12 Question Id : 97675519816 Question Type : MCQ Option Shuffling : Yes Is Question Mandatory : No Option Orientation : Vertical

Correct Marks : 1 Wrong Marks : 0.25

यदि $124 \text{ A } 80 \text{ B } 16 = 129$ तथा $88 \text{ A } 96 \text{ B } 8 = 100$ हो, तो $256 \text{ A } 45 \text{ B } 5 = ?$

Options :

1. ✖ 245

2. ✔ 265

3. ✖ 270

4. ✖ 280

Question Number : 13 Question Id : 97675519817 Question Type : MCQ Option Shuffling : Yes Is Question Mandatory : No Option Orientation : Vertical

Correct Marks : 1 Wrong Marks : 0.25

In the following question, select the number which can be placed at the sign of question mark (?) from the given alternatives.

6	9	15	10
12	4	6	18
16	8	16	?

Options :

1. ✖ 4

2. ✖ 28

3. ✔ 0

4. ✖ 36

Question Number : 13 Question Id : 97675519817 Question Type : MCQ Option Shuffling : Yes Is Question Mandatory : No Option Orientation : Vertical

Correct Marks : 1 Wrong Marks : 0.25

निम्नलिखित प्रश्न में दिए गए विकल्पों में से प्रश्न चिन्ह (?) के स्थान पर आने वाली संख्या को चुनिए।

6	9	15	10
12	4	6	18
16	8	16	?

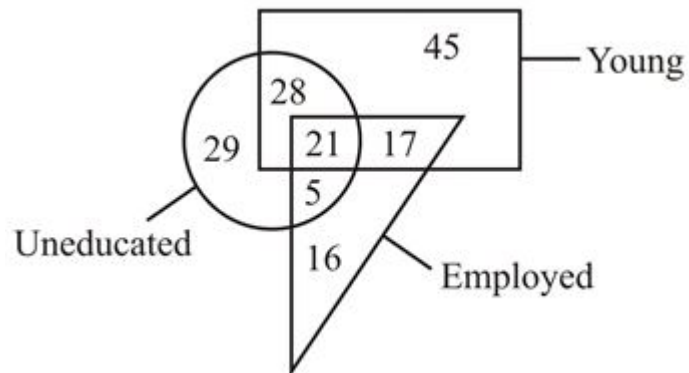
Options :

1. ✘ 4
2. ✘ 28
3. ✔ 0
4. ✘ 36

Question Number : 14 Question Id : 97675519818 Question Type : MCQ Option Shuffling : Yes Is Question Mandatory : No Option Orientation : Vertical

Correct Marks : 1 Wrong Marks : 0.25

How many uneducated are not young?



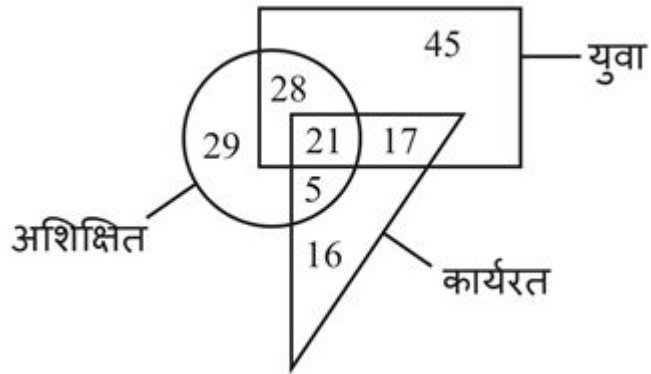
Options :

1. ✘ 5
2. ✘ 29
3. ✔ 34
4. ✘ 35

Question Number : 14 Question Id : 97675519818 Question Type : MCQ Option Shuffling : Yes Is Question Mandatory : No Option Orientation : Vertical

Correct Marks : 1 Wrong Marks : 0.25

कितने अशिक्षित, युवा नहीं हैं?



Options :

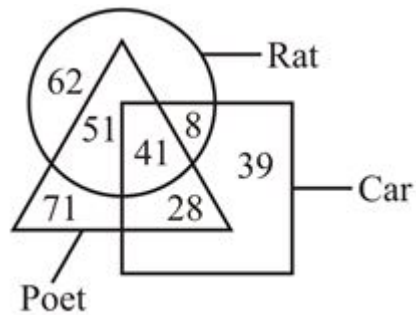
1. ✘ 5
2. ✘ 29
3. ✔ 34
4. ✘ 35

Question Number : 15 Question Id : 97675519819 Question Type : MCQ Option Shuffling : Yes Is Question Mandatory : No Option Orientation : Vertical

Correct Marks : 1 Wrong Marks : 0.25

Based on the given venn diagram, which of the following statement is correct?

- I. The total number of poets is 191.
- II. The number of cars which are rats is 41.



Options :

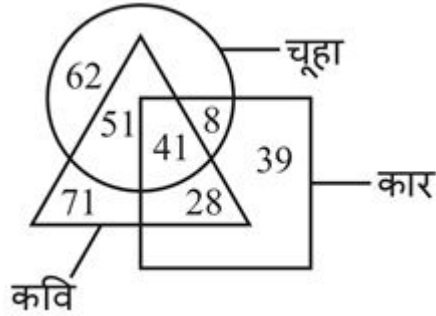
1. ✓ Only I
2. ✗ Only II
3. ✗ Both I and II
4. ✗ Neither I nor II

Question Number : 15 Question Id : 97675519819 Question Type : MCQ Option Shuffling : Yes Is Question Mandatory : No Option Orientation : Vertical

Correct Marks : 1 Wrong Marks : 0.25

दिए गए वेन आरेख के आधार पर, निम्नलिखित में से कौन सा कथन सही है?

- I. कवियों की कुल संख्या 191 है।
- II. वह कार जो चूहे हैं, की संख्या 41 है।



Options :

1. ✓ केवल I
2. ✗ केवल II
3. ✗ I तथा II दोनों
4. ✗ ना ही I ना ही II

Question Number : 16 Question Id : 97675519820 Question Type : MCQ Option Shuffling : Yes Is Question Mandatory : No Option Orientation : Vertical

Correct Marks : 1 Wrong Marks : 0.25

One morning, a person starts to walk towards the sun. He turns to the right. He again turns to the right. He turns to the left. Finally, he turns to the right. Which direction is he facing now?

Options :

1. ✘ East
2. ✔ West
3. ✘ North
4. ✘ South

Question Number : 16 Question Id : 97675519820 Question Type : MCQ Option Shuffling : Yes Is Question Mandatory : No Option Orientation : Vertical

Correct Marks : 1 Wrong Marks : 0.25

एक सुबह, एक व्यक्ति सूर्य की ओर चलना आरंभ करता है। वह दायीं ओर मुड़ता है। वह पुनः दायीं ओर मुड़ता है। वह बायीं ओर मुड़ता है। अंततः वह दायीं ओर मुड़ता है। अब वह किस दिशा की ओर देख रहा है?

Options :

1. ✘ पूर्व
2. ✔ पश्चिम
3. ✘ उत्तर
4. ✘ दक्षिण

Question Number : 17 Question Id : 97675519821 Question Type : MCQ Option Shuffling : Yes Is Question Mandatory : No Option Orientation : Vertical

Correct Marks : 1 Wrong Marks : 0.25

A, B, C, D and E are standing in a ground facing towards the north. A is at a distance of 70 metre to the right of B. E is at a distance of 20 metre to the right of A. B is at a distance of 100 metre to the left of D. C is at a distance of 60 metre to the left of E. What is the distance between B and C?

Options :

1. ✘ 20 metre
2. ✔ 30 metre
3. ✘ 40 metre
4. ✘ 50 metre

Question Number : 17 Question Id : 97675519821 Question Type : MCQ Option Shuffling : Yes Is Question Mandatory : No Option Orientation : Vertical

Correct Marks : 1 Wrong Marks : 0.25

A, B, C, D तथा E उत्तर की ओर मुख करके एक मैदान में खड़े हुए हैं। A, B से दायीं ओर 70 मीटर की दूरी पर है। E, A से दायीं ओर 20 मीटर की दूरी पर है।

B, D से बायीं ओर 100 मीटर की दूरी पर है। C, E से बायीं ओर 60 मीटर की दूरी पर है। B तथा C के बीच की दूरी क्या है?

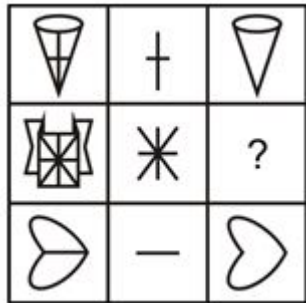
Options :

1. ✘ 20 मीटर
2. ✔ 30 मीटर
3. ✘ 40 मीटर
4. ✘ 50 मीटर

Question Number : 18 Question Id : 97675519822 Question Type : MCQ Option Shuffling : Yes Is Question Mandatory : No Option Orientation : Vertical

Correct Marks : 1 Wrong Marks : 0.25

Which answer figure will complete the pattern in the question figure?



Options :

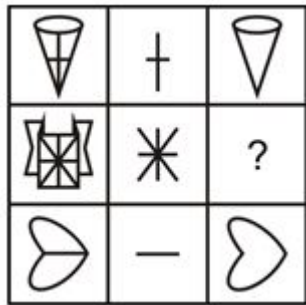
1. ✘ 
2. ✔ 
3. ✘ 



Question Number : 18 Question Id : 97675519822 Question Type : MCQ Option Shuffling : Yes Is Question Mandatory : No Option Orientation : Vertical

Correct Marks : 1 Wrong Marks : 0.25

कौन सी उत्तर आकृति प्रश्न आकृति के प्रतिरूप को पूरा करेगी?



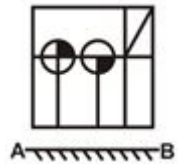
Options :



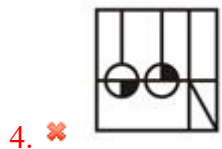
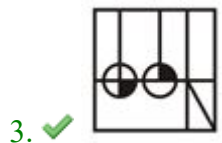
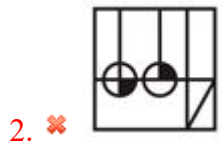
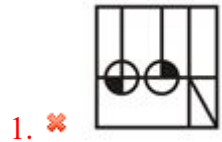
Question Number : 19 Question Id : 97675519823 Question Type : MCQ Option Shuffling : Yes Is Question Mandatory : No Option Orientation : Vertical

Correct Marks : 1 Wrong Marks : 0.25

If a mirror is placed on the line AB, then which of the answer figures is the right image of the given figure?



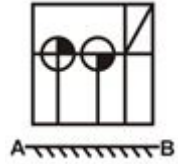
Options :



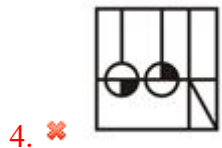
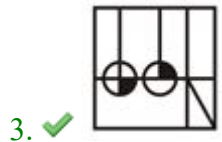
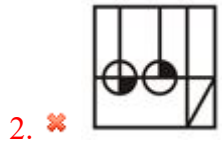
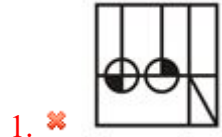
Question Number : 19 Question Id : 97675519823 Question Type : MCQ Option Shuffling : Yes Is Question Mandatory : No Option Orientation : Vertical

Correct Marks : 1 Wrong Marks : 0.25

यदि एक दर्पण को AB रेखा पर रखा जाए, तो दी गई उत्तर आकृतियों में से कौन सी आकृति प्रश्न आकृति की सही प्रतिबिंब होगी?



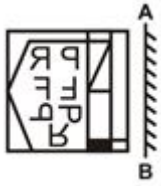
Options :



Question Number : 20 Question Id : 97675519824 Question Type : MCQ Option Shuffling : Yes Is Question Mandatory : No Option Orientation : Vertical

Correct Marks : 1 Wrong Marks : 0.25

If a mirror is placed on the line AB, then which of the answer figures is the right image of the given figure?



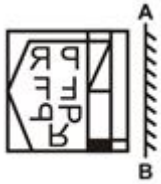
Options :



Question Number : 20 Question Id : 97675519824 Question Type : MCQ Option Shuffling : Yes Is Question Mandatory : No Option Orientation : Vertical

Correct Marks : 1 Wrong Marks : 0.25

यदि एक दर्पण को AB रेखा पर रखा जाए, तो दी गई उत्तर आकृतियों में से कौन सी आकृति प्रश्न आकृति की सही प्रतिबिंब होगी?



Options :



General Awareness

Group Number :

2

Group Id :

976755661

Group Maximum Duration :

0

Group Minimum Duration :

0

Show Attended Group? :

No

Edit Attended Group? :

No

Break time : 0
Group Marks : 20
Is this Group for Examiner? : No

General Awareness

Section Id : 9767551091
Section Number : 1
Section type : Online
Mandatory or Optional : Mandatory
Number of Questions : 20
Number of Questions to be attempted : 20
Section Marks : 20
Enable Mark as Answered Mark for Review and Clear Response : Yes
Sub-Section Number : 1
Sub-Section Id : 9767551266
Question Shuffling Allowed : Yes

Question Number : 21 Question Id : 97675519825 Question Type : MCQ Option Shuffling : Yes Is Question Mandatory : No Option Orientation : Vertical

Correct Marks : 1 Wrong Marks : 0.25

Meenakshi Temple is situated in which state of India?

Options :

1. ✓ Tamil Nadu
2. ✗ Karnataka
3. ✗ Kerala
4. ✗ Andhra Pradesh

Question Number : 21 Question Id : 97675519825 Question Type : MCQ Option Shuffling : Yes Is Question Mandatory : No Option Orientation : Vertical

Correct Marks : 1 Wrong Marks : 0.25

मीनाक्षी मंदिर भारत के किस राज्य में स्थित है?

Options :

1. ✓ तमिलनाडु
2. ✗ कर्नाटक
3. ✗ केरल
4. ✗ आंध्र प्रदेश

Question Number : 22 Question Id : 97675519826 Question Type : MCQ Option Shuffling : Yes Is Question Mandatory : No Option Orientation : Vertical

Correct Marks : 1 Wrong Marks : 0.25

“Tappa” is a regional music of which state?

Options :

1. ✗ Uttar Pradesh
2. ✓ Punjab
3. ✗ Himachal Pradesh
4. ✗ Rajasthan

Question Number : 22 Question Id : 97675519826 Question Type : MCQ Option Shuffling : Yes Is Question Mandatory : No Option Orientation : Vertical

Correct Marks : 1 Wrong Marks : 0.25

“टप्पा” किस राज्य का क्षेत्रीय संगीत है?

Options :

1. ✗ उत्तर प्रदेश
2. ✓ पंजाब
3. ✗ हिमाचल प्रदेश
4. ✗ राजस्थान

Question Number : 23 Question Id : 97675519827 Question Type : MCQ Option Shuffling : Yes Is Question Mandatory : No Option Orientation : Vertical

Correct Marks : 1 Wrong Marks : 0.25

What is present on the back side of Rs. 10 note of the new Mahatma Gandhi (New) Series?

Options :

1. ✓ Sun Temple, Konark
2. ✗ Rani ki Vav
3. ✗ Red Fort
4. ✗ Mangalyaan

Question Number : 23 Question Id : 97675519827 Question Type : MCQ Option Shuffling : Yes Is Question Mandatory : No Option Orientation : Vertical

Correct Marks : 1 Wrong Marks : 0.25

10 रुपये के महात्मा गांधी (नई) श्रृंखला के पीछे की तरफ क्या है?

Options :

1. ✓ सूर्य मंदिर, कोणार्क
2. ✗ रानी की वाव
3. ✗ लाल किला
4. ✗ मंगलयान

Question Number : 24 Question Id : 97675519828 Question Type : MCQ Option Shuffling : Yes Is Question Mandatory : No Option Orientation : Vertical

Correct Marks : 1 Wrong Marks : 0.25

Which of the following is correct regarding personal disposable income?

Options :

1. ✗ Personal income + personal tax payments + non tax payments
2. ✗ Personal income + personal tax payments – non tax payments
3. ✓ Personal income – personal tax payments – non tax payments
4. ✗ Personal income – personal tax payments + non tax payments

Question Number : 24 Question Id : 97675519828 Question Type : MCQ Option Shuffling : Yes Is Question Mandatory : No Option Orientation : Vertical

Correct Marks : 1 Wrong Marks : 0.25

वैयक्तिक प्रयोज्य आय के संदर्भ में निम्नलिखित में से कौन सा सही है?

Options :

1. ✗ वैयक्तिक आय + वैयक्तिक कर अदायगी + गैरकर अदायगी

2. ✘ वैयक्तिक आय + वैयक्तिक कर अदायगी - गैरकर अदायगी
3. ✔ वैयक्तिक आय - वैयक्तिक कर अदायगी - गैरकर अदायगी
4. ✘ वैयक्तिक आय - वैयक्तिक कर अदायगी + गैरकर अदायगी

Question Number : 25 Question Id : 97675519829 Question Type : MCQ Option Shuffling : Yes Is Question Mandatory : No Option Orientation : Vertical

Correct Marks : 1 Wrong Marks : 0.25

Burning of coal is an example of which reaction?

Options :

1. ✘ Decomposition reaction
2. ✘ Displacement reaction
3. ✘ Double displacement reaction
4. ✔ Combination reaction

Question Number : 25 Question Id : 97675519829 Question Type : MCQ Option Shuffling : Yes Is Question Mandatory : No Option Orientation : Vertical

Correct Marks : 1 Wrong Marks : 0.25

कोयले का दहन किस अभिक्रिया का उदाहरण है?

Options :

1. ✘ वियोजन अभिक्रिया
2. ✘ विस्थापन अभिक्रिया
3. ✘ द्विविस्थापन अभिक्रिया
4. ✔ संयोजन अभिक्रिया

Question Number : 26 Question Id : 97675519830 Question Type : MCQ Option Shuffling : Yes Is Question Mandatory : No Option Orientation : Vertical

Correct Marks : 1 Wrong Marks : 0.25

Which of the following statement is correct?

- I. $1 \text{ kwh} = 3.6 \times 10^6 \text{ KJ}$.
- II. The SI unit of electric current is ampere.

Options :

- ✘ Only I
- ✔ Only II
- ✘ Both I and II
- ✘ Neither I nor II

Question Number : 26 Question Id : 97675519830 Question Type : MCQ Option Shuffling : Yes Is Question Mandatory : No Option Orientation : Vertical

Correct Marks : 1 Wrong Marks : 0.25

निम्नलिखित में से कौन सा कथन सही है?

- I. $1 \text{ kwh} = 3.6 \times 10^6 \text{ KJ}$.
- II. विद्युत धारा का एस.आई. मात्रक ऐम्पियर है।

Options :

- ✘ केवल I
- ✔ केवल II
- ✘ I तथा II दोनों
- ✘ ना ही I ना ही II

Question Number : 27 Question Id : 97675519831 Question Type : MCQ Option Shuffling : Yes Is Question Mandatory : No Option Orientation : Vertical

Correct Marks : 1 Wrong Marks : 0.25

Which of the following statement is correct?

- I. CO_2 is not a greenhouse gas.
- II. Water which is purified and fit for drinking is known as potable water.

Options :

- ✘ Only I
- ✔ Only II
- ✘ Both I and II
- ✘ Neither I nor II

Question Number : 27 Question Id : 97675519831 Question Type : MCQ Option Shuffling : Yes Is Question Mandatory : No Option

Orientation : Vertical

Correct Marks : 1 Wrong Marks : 0.25

निम्नलिखित में से कौन सा कथन सही है?

I. CO₂ एक पौधा-घर गैस नहीं है।

II. स्वच्छ तथा पीने योग्य जल को पेय जल कहते हैं।

Options :

1. ✘ केवल I
2. ✔ केवल II
3. ✘ I तथा II दोनों
4. ✘ ना ही I ना ही II

Question Number : 28 Question Id : 97675519832 Question Type : MCQ Option Shuffling : Yes Is Question Mandatory : No Option

Orientation : Vertical

Correct Marks : 1 Wrong Marks : 0.25

Cultivation of grapes is called _____.

Options :

1. ✘ Sericulture
2. ✘ Horticulture
3. ✔ Viticulture
4. ✘ Mariculture

Question Number : 28 Question Id : 97675519832 Question Type : MCQ Option Shuffling : Yes Is Question Mandatory : No Option

Orientation : Vertical

Correct Marks : 1 Wrong Marks : 0.25

अंगूरों की खेती को _____ कहते हैं।

Options :

1. ✘ रेशम उत्पादन
2. ✘ उद्यान कृषि
3. ✔ द्राक्षा कृषि
4. ✘ मेरी कृषि

Question Number : 29 Question Id : 97675519833 Question Type : MCQ Option Shuffling : Yes Is Question Mandatory : No Option Orientation : Vertical

Correct Marks : 1 Wrong Marks : 0.25

As per 2011 census data, which of the following state in India has highest population?

Options :

1. ✘ Maharashtra
2. ✘ West Bengal
3. ✔ Uttar Pradesh
4. ✘ Bihar

Question Number : 29 Question Id : 97675519833 Question Type : MCQ Option Shuffling : Yes Is Question Mandatory : No Option Orientation : Vertical

Correct Marks : 1 Wrong Marks : 0.25

2011 के जनगणना के अनुसार, भारत में निम्नलिखित में से किस राज्य की जनसंख्या सबसे अधिक है?

Options :

1. ✘ महाराष्ट्र
2. ✘ पश्चिम बंगाल
3. ✔ उत्तर प्रदेश
4. ✘ बिहार

Question Number : 30 Question Id : 97675519834 Question Type : MCQ Option Shuffling : Yes Is Question Mandatory : No Option Orientation : Vertical

Correct Marks : 1 Wrong Marks : 0.25

Which of the following statement is correct?

- I. Godavari is the largest peninsular river.
- II. Total length of Kaveri river is about 760 km.

Note: For this question, discrepancy is found in question/answer. So, this question is ignored for all candidates.

Options :

1. Only I
2. Only II
3. Both I and II
4. Neither I nor II

Question Number : 30 Question Id : 97675519834 Question Type : MCQ Option Shuffling : Yes Is Question Mandatory : No Option Orientation : Vertical

Correct Marks : 1 Wrong Marks : 0.25

निम्नलिखित में से कौन सा कथन सही है?

- I. गोदावरी सबसे बड़ी प्रायद्वीपीय नदी है।
- II. कावेरी नदी की कुल लम्बाई लगभग 760 कि.मी. है।

Note: For this question, discrepancy is found in question/answer. So, this question is ignored for all candidates.

Options :

1. केवल I
2. केवल II
3. I तथा II दोनों
4. ना ही I ना ही II

Question Number : 31 Question Id : 97675519835 Question Type : MCQ Option Shuffling : Yes Is Question Mandatory : No Option Orientation : Vertical

Correct Marks : 1 Wrong Marks : 0.25

In which of the following archaeological site 'Great Bath' was found?

Options :

1. ✘ Harappa
2. ✔ Mohenjodaro
3. ✘ Kalibangan
4. ✘ Lothal

Question Number : 31 Question Id : 97675519835 Question Type : MCQ Option Shuffling : Yes Is Question Mandatory : No Option

Orientation : Vertical

Correct Marks : 1 Wrong Marks : 0.25

निम्नलिखित में से किस पुरातात्विक स्थल में 'महान स्नानागार' पाया गया था?

Options :

1. ✘ हड़प्पा
2. ✔ मोहनजोदड़ो
3. ✘ कालीबंगा
4. ✘ लोथल

Question Number : 32 Question Id : 97675519836 Question Type : MCQ Option Shuffling : Yes Is Question Mandatory : No Option

Orientation : Vertical

Correct Marks : 1 Wrong Marks : 0.25

Which of the following is the oldest Veda?

Options :

1. ✔ Rigveda
2. ✘ Samaveda
3. ✘ Yajurveda
4. ✘ Atharvaveda

Question Number : 32 Question Id : 97675519836 Question Type : MCQ Option Shuffling : Yes Is Question Mandatory : No Option

Orientation : Vertical

Correct Marks : 1 Wrong Marks : 0.25

निम्नलिखित में से कौन सबसे पुराना वेद है?

Options :

1. ✔ ऋग्वेद
2. ✘ सामवेद
3. ✘ यजुर्वेद
4. ✘ अथर्ववेद

Question Number : 33 Question Id : 97675519837 Question Type : MCQ Option Shuffling : Yes Is Question Mandatory : No Option

Orientation : Vertical

Correct Marks : 1 Wrong Marks : 0.25

Which of the following statement is correct?

- I. The Buddha taught that karma has no effect on our lives.
- II. The Buddha belonged to a small gana known as the Sakya gana.

Options :

- 1. ✘ Only I
- 2. ✔ Only II
- 3. ✘ Both I and II
- 4. ✘ Neither I nor II

Question Number : 33 Question Id : 97675519837 Question Type : MCQ Option Shuffling : Yes Is Question Mandatory : No Option Orientation : Vertical

Correct Marks : 1 Wrong Marks : 0.25

निम्नलिखित में से कौन सा कथन सही है?

- I. बुद्ध ने शिक्षा दी कि कर्म का हमारे जीवन पर कोई प्रभाव नहीं पड़ता।
- II. बुद्ध 'शाक्य' नामक एक छोटे से गण से संबंधित थे।

Options :

- 1. ✘ केवल I
- 2. ✔ केवल II
- 3. ✘ I तथा II दोनों
- 4. ✘ ना ही I ना ही II

Question Number : 34 Question Id : 97675519838 Question Type : MCQ Option Shuffling : Yes Is Question Mandatory : No Option Orientation : Vertical

Correct Marks : 1 Wrong Marks : 0.25

Which country hosted the G20 Culture Minister Meeting in July 2021?

Options :

- 1. ✘ Russia
- 2. ✘ India
- 3. ✘ Germany
- 4. ✔ Italy

Question Number : 34 Question Id : 97675519838 Question Type : MCQ Option Shuffling : Yes Is Question Mandatory : No Option Orientation : Vertical

Correct Marks : 1 Wrong Marks : 0.25

जुलाई 2021 में किस देश ने G20 संस्कृति मंत्रियों की बैठक की मेजबानी की?

Options :

1. ✘ रूस
2. ✘ भारत
3. ✘ जर्मनी
4. ✔ इटली

Question Number : 35 Question Id : 97675519839 Question Type : MCQ Option Shuffling : Yes Is Question Mandatory : No Option Orientation : Vertical

Correct Marks : 1 Wrong Marks : 0.25

Which of the following pair of Padma Awards 2021 – Number of awards is correct?

- I. Padma Vibhushan – 8
- II. Padma Shri – 100

Options :

1. ✘ Only I
2. ✘ Only II
3. ✘ Both I and II
4. ✔ Neither I nor II

Question Number : 35 Question Id : 97675519839 Question Type : MCQ Option Shuffling : Yes Is Question Mandatory : No Option Orientation : Vertical

Correct Marks : 1 Wrong Marks : 0.25

पद्म पुरस्कार 2021 – पुरस्कारों की संख्या का निम्नलिखित में से कौन सा युग्म सही है?

- I. पद्म विभूषण – 8
- II. पद्मश्री – 100

Options :

1. ✘ केवल I
2. ✘ केवल II
3. ✘ I तथा II दोनों
4. ✔ ना ही I ना ही II

Question Number : 36 Question Id : 97675519840 Question Type : MCQ Option Shuffling : Yes Is Question Mandatory : No Option Orientation : Vertical

Correct Marks : 1 Wrong Marks : 0.25

_____ has launched “Surakshit Hum Surakshit Tum” Abhiyaan.

Options :

1. ✘ RBI
2. ✘ IRDA
3. ✔ NITI Aayog
4. ✘ SBI

Question Number : 36 Question Id : 97675519840 Question Type : MCQ Option Shuffling : Yes Is Question Mandatory : No Option Orientation : Vertical

Correct Marks : 1 Wrong Marks : 0.25

“सुरक्षित हम सुरक्षित तुम” अभियान _____ ने शुरू किया है।

Options :

1. ✘ आर.बी.आई.
2. ✘ आई.आर.डी.ए.
3. ✔ नीति आयोग
4. ✘ एस.बी.आई.

Question Number : 37 Question Id : 97675519841 Question Type : MCQ Option Shuffling : Yes Is Question Mandatory : No Option Orientation : Vertical

Correct Marks : 1 Wrong Marks : 0.25

भारत के संविधान का भाग IV _____ से संबंधित है।

Options :

1. ✘ नागरिकता

2. ✘ मौलिक अधिकार
3. ✔ राज्य के नीति निर्देशक तत्व
4. ✘ संघ और उसके राज्यक्षेत्र

Question Number : 37 Question Id : 97675519841 Question Type : MCQ Option Shuffling : Yes Is Question Mandatory : No Option Orientation : Vertical

Correct Marks : 1 Wrong Marks : 0.25

Part IV of the constitution of India deals with _____.

Options :

1. ✘ Citizenship
2. ✘ Fundamental Right
3. ✔ Directive principles of state policy
4. ✘ Union and its territory

Question Number : 38 Question Id : 97675519842 Question Type : MCQ Option Shuffling : Yes Is Question Mandatory : No Option Orientation : Vertical

Correct Marks : 1 Wrong Marks : 0.25

The ninth schedule to the Indian constitution was added by _____.

Options :

1. ✘ 42nd Amendment
2. ✘ 8th Amendment
3. ✔ 1st Amendment
4. ✘ 9th Amendment

Question Number : 38 Question Id : 97675519842 Question Type : MCQ Option Shuffling : Yes Is Question Mandatory : No Option Orientation : Vertical

Correct Marks : 1 Wrong Marks : 0.25

भारतीय संविधान की नौवीं अनुसूची _____ के द्वारा जोड़ी गई थी।

Options :

1. ✘ 42 वां संशोधन
2. ✘ 8 वां संशोधन

3. ✓ प्रथम संशोधन

4. ✗ 9 वां संशोधन

Question Number : 39 Question Id : 97675519843 Question Type : MCQ Option Shuffling : Yes Is Question Mandatory : No Option Orientation : Vertical

Correct Marks : 1 Wrong Marks : 0.25

Karnam Malleswari is associated with which sports?

Options :

1. ✗ Boxing

2. ✓ Weightlifting

3. ✗ Football

4. ✗ Chess

Question Number : 39 Question Id : 97675519843 Question Type : MCQ Option Shuffling : Yes Is Question Mandatory : No Option Orientation : Vertical

Correct Marks : 1 Wrong Marks : 0.25

‘कर्णम मल्लेश्वरी’ किस खेल से संबंधित है?

Options :

1. ✗ बॉक्सिंग

2. ✓ भारोत्तोलन

3. ✗ फुटबॉल

4. ✗ शतरंज

Question Number : 40 Question Id : 97675519844 Question Type : MCQ Option Shuffling : Yes Is Question Mandatory : No Option Orientation : Vertical

Correct Marks : 1 Wrong Marks : 0.25

In which year did Leander Paes won bronze in Olympics?

Options :

1. ✗ 2000

2. ✗ 1988

3. ✓ 1996

4. ✘ 1992

Question Number : 40 Question Id : 97675519844 Question Type : MCQ Option Shuffling : Yes Is Question Mandatory : No Option Orientation : Vertical

Correct Marks : 1 Wrong Marks : 0.25

लिऐंडर पेस ने किस वर्ष में ओलंपिक्स में कांस्य पदक जीता था?

Options :

1. ✘ 2000

2. ✘ 1988

3. ✔ 1996

4. ✘ 1992

Arithmetic Ability

Group Number :	3
Group Id :	976755662
Group Maximum Duration :	0
Group Minimum Duration :	0
Show Attended Group? :	No
Edit Attended Group? :	No
Break time :	0
Group Marks :	20
Is this Group for Examiner? :	No

Arithmetic Ability

Section Id :	9767551092
Section Number :	1
Section type :	Online
Mandatory or Optional :	Mandatory
Number of Questions :	20
Number of Questions to be attempted :	20

Section Marks : 20
Enable Mark as Answered Mark for Review and Clear Response : Yes
Sub-Section Number : 1
Sub-Section Id : 9767551267
Question Shuffling Allowed : Yes

Question Number : 41 Question Id : 97675519845 Question Type : MCQ Option Shuffling : Yes Is Question Mandatory : No Option Orientation : Vertical

Correct Marks : 1 Wrong Marks : 0.25

What is the unit digit of 384^{221} ?

Options :

1. ✓ 4
2. ✗ 6
3. ✗ 2
4. ✗ 8

Question Number : 41 Question Id : 97675519845 Question Type : MCQ Option Shuffling : Yes Is Question Mandatory : No Option Orientation : Vertical

Correct Marks : 1 Wrong Marks : 0.25

384^{221} का ईकाई अंक क्या है?

Options :

1. ✓ 4
2. ✗ 6
3. ✗ 2
4. ✗ 8

Question Number : 42 Question Id : 97675519846 Question Type : MCQ Option Shuffling : Yes Is Question Mandatory : No Option Orientation : Vertical

Correct Marks : 1 Wrong Marks : 0.25

What is the value of

$$\sqrt{0.0196}$$

Options :

1. ✓ 0.14
2. ✗ 1.4
3. ✗ 0.014
4. ✗ 0.0014

Question Number : 42 Question Id : 97675519846 Question Type : MCQ Option Shuffling : Yes Is Question Mandatory : No Option Orientation : Vertical

Correct Marks : 1 Wrong Marks : 0.25

$$\sqrt{0.0196}$$

का मान क्या है?

Options :

1. ✓ 0.14
2. ✗ 1.4
3. ✗ 0.014
4. ✗ 0.0014

Question Number : 43 Question Id : 97675519847 Question Type : MCQ Option Shuffling : Yes Is Question Mandatory : No Option Orientation : Vertical

Correct Marks : 1 Wrong Marks : 0.25

If the number 8686A5 is divisible by 11, then what is the value of A?

Options :

1. ✗ 5
2. ✗ 0
3. ✓ 1
4. ✗ 3

Question Number : 43 Question Id : 97675519847 Question Type : MCQ Option Shuffling : Yes Is Question Mandatory : No Option Orientation : Vertical

Correct Marks : 1 Wrong Marks : 0.25

यदि संख्या 8686A5, 11 से विभाज्य है, तो A का मान क्या है?

Options :

1. ✖ 5
2. ✖ 0
3. ✔ 1
4. ✖ 3

Question Number : 44 Question Id : 97675519848 Question Type : MCQ Option Shuffling : Yes Is Question Mandatory : No Option Orientation : Vertical

Correct Marks : 1 Wrong Marks : 0.25

What is the value of

$$\frac{(7\sqrt{5} + 2\sqrt{5}) \times (5\sqrt{7} + 2\sqrt{7})}{\sqrt{140}}$$

Options :

1. ✖ 35/2
2. ✖ 63/4
3. ✔ 63/2
4. ✖ 35/4

Question Number : 44 Question Id : 97675519848 Question Type : MCQ Option Shuffling : Yes Is Question Mandatory : No Option Orientation : Vertical

Correct Marks : 1 Wrong Marks : 0.25

$$\frac{(7\sqrt{5} + 2\sqrt{5}) \times (5\sqrt{7} + 2\sqrt{7})}{\sqrt{140}}$$

का मान क्या है?

Options :

1. ✖ 35/2
2. ✖ 63/4
3. ✔ 63/2
4. ✖ 35/4

Question Number : 45 Question Id : 97675519849 Question Type : MCQ Option Shuffling : Yes Is Question Mandatory : No Option Orientation : Vertical

Correct Marks : 1 Wrong Marks : 0.25

A student was asked to multiply a number by $\frac{3}{5}$. By mistake he divided it by $\frac{3}{5}$. If the result was 576 more than the correct number, then what is the number?

Options :

1. ✘ 180
2. ✘ 360
3. ✔ 540
4. ✘ 720

Question Number : 45 Question Id : 97675519849 Question Type : MCQ Option Shuffling : Yes Is Question Mandatory : No Option Orientation : Vertical

Correct Marks : 1 Wrong Marks : 0.25

एक छात्र को एक संख्या को $\frac{3}{5}$ से गुणा करने को कहा गया था। गलती से उसने, उसे $\frac{3}{5}$ से विभाजित कर दिया। यदि परिणाम, सही संख्या से 576 अधिक था, तो संख्या क्या है?

Options :

1. ✘ 180
2. ✘ 360
3. ✔ 540
4. ✘ 720

Question Number : 46 Question Id : 97675519850 Question Type : MCQ Option Shuffling : Yes Is Question Mandatory : No Option Orientation : Vertical

Correct Marks : 1 Wrong Marks : 0.25

After a discount of 15 percent an article is sold for Rs. 2720. What is the marked price of the article?

Options :

1. ✘ Rs. 3300
2. ✘ Rs. 3400
3. ✘ Rs. 3000
4. ✔ Rs. 3200

Question Number : 46 Question Id : 97675519850 Question Type : MCQ Option Shuffling : Yes Is Question Mandatory : No Option Orientation : Vertical

Correct Marks : 1 Wrong Marks : 0.25

15 प्रतिशत की छूट के बाद एक वस्तु को 2720 रुपये में बेचा जाता है। वस्तु का अंकित मूल्य क्या है?

Options :

1. ✘ 3300 रुपये
2. ✘ 3400 रुपये
3. ✘ 3000 रुपये
4. ✔ 3200 रुपये

Question Number : 47 Question Id : 97675519851 Question Type : MCQ Option Shuffling : Yes Is Question Mandatory : No Option Orientation : Vertical

Correct Marks : 1 Wrong Marks : 0.25

If $M = 120$ and $N = 150$, then M is how much percentage less than N ?

Options :

1. ✘ 10 percent
2. ✘ 15 percent
3. ✔ 20 percent
4. ✘ 25 percent

Question Number : 47 Question Id : 97675519851 Question Type : MCQ Option Shuffling : Yes Is Question Mandatory : No Option Orientation : Vertical

Correct Marks : 1 Wrong Marks : 0.25

यदि $M = 120$ तथा $N = 150$ हैं, तो M , N से कितने प्रतिशत कम है?

Options :

1. ✘ 10 प्रतिशत
2. ✘ 15 प्रतिशत
3. ✔ 20 प्रतिशत
4. ✘ 25 प्रतिशत

Question Number : 48 Question Id : 97675519852 Question Type : MCQ Option Shuffling : Yes Is Question Mandatory : No Option Orientation : Vertical

Correct Marks : 1 Wrong Marks : 0.25

The radius of a circle is increased by 20 percent. What will be the percentage increase in its area?

Options :

1. ✓ 44 percent
2. ✗ 40 percent
3. ✗ 30 percent
4. ✗ 50 percent

Question Number : 48 Question Id : 97675519852 Question Type : MCQ Option Shuffling : Yes Is Question Mandatory : No Option Orientation : Vertical

Correct Marks : 1 Wrong Marks : 0.25

एक वृत्त की त्रिज्या को 20 प्रतिशत से बढ़ाया गया है। उसके क्षेत्रफल में कितने प्रतिशत की वृद्धि होगी?

Options :

1. ✓ 44 प्रतिशत
2. ✗ 40 प्रतिशत
3. ✗ 30 प्रतिशत
4. ✗ 50 प्रतिशत

Question Number : 49 Question Id : 97675519853 Question Type : MCQ Option Shuffling : Yes Is Question Mandatory : No Option Orientation : Vertical

Correct Marks : 1 Wrong Marks : 0.25

20 percent of selling price of a table is equal to $\frac{1}{5}$ of the cost price of the table. What is the loss percent?

Options :

1. ✗ 5 percent
2. ✗ 8 percent
3. ✗ 10 percent
4. ✓ 0 percent

Question Number : 49 Question Id : 97675519853 Question Type : MCQ Option Shuffling : Yes Is Question Mandatory : No Option Orientation : Vertical

Correct Marks : 1 Wrong Marks : 0.25

एक मेज के विक्रय मूल्य का 20 प्रतिशत मेज के क्रय मूल्य के $\frac{1}{5}$ के बराबर है। हानि प्रतिशत क्या है?

Options :

1. ✘ 5 प्रतिशत
2. ✘ 8 प्रतिशत
3. ✘ 10 प्रतिशत
4. ✔ 0 प्रतिशत

Question Number : 50 Question Id : 97675519854 Question Type : MCQ Option Shuffling : Yes Is Question Mandatory : No Option Orientation : Vertical

Correct Marks : 1 Wrong Marks : 0.25

The ratio of copper and zinc in brass is 15 : 10. How much amount of copper will be there in 250 kg of brass?

Options :

1. ✔ 150 kg
2. ✘ 145 kg
3. ✘ 120 kg
4. ✘ 130 kg

Question Number : 50 Question Id : 97675519854 Question Type : MCQ Option Shuffling : Yes Is Question Mandatory : No Option Orientation : Vertical

Correct Marks : 1 Wrong Marks : 0.25

पीतल में ताँबे तथा जस्ते का अनुपात 15 : 10 है। 250 कि.ग्रा. पीतल में ताँबे की मात्रा कितनी होगी?

Options :

1. ✔ 150 कि.ग्रा.
2. ✘ 145 कि.ग्रा.
3. ✘ 120 कि.ग्रा.
4. ✘ 130 कि.ग्रा.

Question Number : 51 Question Id : 97675519855 Question Type : MCQ Option Shuffling : Yes Is Question Mandatory : No Option Orientation : Vertical

Correct Marks : 1 Wrong Marks : 0.25

Three numbers A, B and C are in the ratio of 5 : 4 : 3 respectively. If the value of C is 18 less than the sum of A and B, then what is the value of B?

Options :

1. ✓ 12
2. ✗ 15
3. ✗ 9
4. ✗ 18

Question Number : 51 Question Id : 97675519855 Question Type : MCQ Option Shuffling : Yes Is Question Mandatory : No Option Orientation : Vertical

Correct Marks : 1 Wrong Marks : 0.25

तीन संख्याएं A, B तथा C का अनुपात क्रमशः 5 : 4 : 3 है। यदि C का मान, A तथा B के योग से 18 कम है, तो B का मान क्या है?

Options :

1. ✓ 12
2. ✗ 15
3. ✗ 9
4. ✗ 18

Question Number : 52 Question Id : 97675519856 Question Type : MCQ Option Shuffling : Yes Is Question Mandatory : No Option Orientation : Vertical

Correct Marks : 1 Wrong Marks : 0.25

If a certain sum of money becomes double of itself in 7 years 4 months at simple interest, then what will be the annual rate of interest?

Options :

1. ✓ 13.64 percent
2. ✗ 14.28 percent
3. ✗ 15.18 percent
4. ✗ 16.22 percent

Question Number : 52 Question Id : 97675519856 Question Type : MCQ Option Shuffling : Yes Is Question Mandatory : No Option Orientation : Vertical

Correct Marks : 1 Wrong Marks : 0.25

यदि 7 वर्ष 4 महिनों में साधारण ब्याज पर एक निश्चित राशि स्वयं की दोगुनी हो जाती है, तो ब्याज की वार्षिक दर क्या होगी?

Options :

1. ✓ 13.64 प्रतिशत
2. ✗ 14.28 प्रतिशत
3. ✗ 15.18 प्रतिशत
4. ✗ 16.22 प्रतिशत

Question Number : 53 Question Id : 97675519857 Question Type : MCQ Option Shuffling : Yes Is Question Mandatory : No Option Orientation : Vertical

Correct Marks : 1 Wrong Marks : 0.25

A bike covers a distance of 1152 km in 16 hours. What is its speed?

Options :

1. ✗ 10 metre/second
2. ✗ 16 metre/second
3. ✓ 20 metre/second
4. ✗ 30 metre/second

Question Number : 53 Question Id : 97675519857 Question Type : MCQ Option Shuffling : Yes Is Question Mandatory : No Option Orientation : Vertical

Correct Marks : 1 Wrong Marks : 0.25

एक बाइक 1152 कि.मी. की एक दूरी 16 घंटे में तय करती है। उसकी गति क्या है?

Options :

1. ✗ 10 मीटर/सेकण्ड
2. ✗ 16 मीटर/सेकण्ड
3. ✓ 20 मीटर/सेकण्ड
4. ✗ 30 मीटर/सेकण्ड

Question Number : 54 Question Id : 97675519858 Question Type : MCQ Option Shuffling : Yes Is Question Mandatory : No Option Orientation : Vertical

Correct Marks : 1 Wrong Marks : 0.25

A boat can row 25 km in 5 hours in still water. It can row 45 km downstream and 10 km upstream in 15 hours. What is the speed of the stream?

Options :

1. ✗ 5 km/hr

2. ✓ 4 km/hr
3. ✗ 3 km/hr
4. ✗ 2 km/hr

Question Number : 54 Question Id : 97675519858 Question Type : MCQ Option Shuffling : Yes Is Question Mandatory : No Option Orientation : Vertical

Correct Marks : 1 Wrong Marks : 0.25

एक नाव स्थिर जल में 5 घंटे में 25 कि.मी. चल सकती है। यह 15 घंटे में धारा के अनुकूल 45 कि.मी. तथा धारा के प्रतिकूल 10 कि.मी. चल सकती है। धारा की गति क्या है?

Options :

1. ✗ 5 कि.मी./घंटा
2. ✓ 4 कि.मी./घंटा
3. ✗ 3 कि.मी./घंटा
4. ✗ 2 कि.मी./घंटा

Question Number : 55 Question Id : 97675519859 Question Type : MCQ Option Shuffling : Yes Is Question Mandatory : No Option Orientation : Vertical

Correct Marks : 1 Wrong Marks : 0.25

X alone can do a work in 30 days. Y alone can do the same work in 48 days. They work on alternate days one at a time starting with X on the first day. In how many days the work will be completed?

Options :

1. ✓ 147/4 days
2. ✗ 480/13 days
3. ✗ 510/13 days
4. ✗ 148/5 days

Question Number : 55 Question Id : 97675519859 Question Type : MCQ Option Shuffling : Yes Is Question Mandatory : No Option Orientation : Vertical

Correct Marks : 1 Wrong Marks : 0.25

X अकेला एक कार्य को 30 दिन में कर सकता है। Y अकेला उसी कार्य को 48 दिन में कर सकता है। पहले दिन X से आरंभ करते हुए वह बारी-बारी से एक-एक दिन कार्य करते हैं। कार्य कितने दिन में पूरा हो जाएगा?

Options :

1. ✓ 147/4 दिन
2. ✗ 480/13 दिन
3. ✗ 510/13 दिन
4. ✗ 148/5 दिन

Question Number : 56 Question Id : 97675519860 Question Type : MCQ Option Shuffling : Yes Is Question Mandatory : No Option Orientation : Vertical

Correct Marks : 1 Wrong Marks : 0.25

The value of the area of a rectangle is 6 times of the value of its length. If length is 2 cm more than the breadth, then what is the area of this rectangle?

Options :

1. ✓ 48 cm²
2. ✗ 36 cm²
3. ✗ 42 cm²
4. ✗ 38 cm²

Question Number : 56 Question Id : 97675519860 Question Type : MCQ Option Shuffling : Yes Is Question Mandatory : No Option Orientation : Vertical

Correct Marks : 1 Wrong Marks : 0.25

एक आयत के क्षेत्रफल का मान उसकी लंबाई के मान का 6 गुना है। यदि लंबाई, चौड़ाई से 2 से.मी. अधिक है, तो आयत का क्षेत्रफल क्या है?

Options :

1. ✓ 48 से.मी.²
2. ✗ 36 से.मी.²
3. ✗ 42 से.मी.²
4. ✗ 38 से.मी.²

Question Number : 57 Question Id : 97675519861 Question Type : MCQ Option Shuffling : Yes Is Question Mandatory : No Option Orientation : Vertical

Correct Marks : 1 Wrong Marks : 0.25

Radius of base and height of a solid cone are 28 cm and 14 cm respectively. Cone is melted to form solid spherical balls whose diameter is 7 cm. How many solid balls can be made?

Options :

1. ✖ 32
2. ✔ 64
3. ✖ 16
4. ✖ 36

Question Number : 57 Question Id : 97675519861 Question Type : MCQ Option Shuffling : Yes Is Question Mandatory : No Option Orientation : Vertical

Correct Marks : 1 Wrong Marks : 0.25

एक ठोस शंकु के आधार की त्रिज्या तथा ऊँचाई क्रमशः 28 से.मी. तथा 14 से.मी. है। शंकु को पिघलाकर ठोस गोलाकार गेंद बनाई गई है जिसका व्यास 7 से.मी. है। कितनी ठोस गेंद बनाई जा सकती है?

Options :

1. ✖ 32
2. ✔ 64
3. ✖ 16
4. ✖ 36

Question Number : 58 Question Id : 97675519862 Question Type : MCQ Option Shuffling : Yes Is Question Mandatory : No Option Orientation : Vertical

Correct Marks : 1 Wrong Marks : 0.25

The table given below shows the income and saving of six companies.

Company	Income	Saving
P	200	100
Q	400	300
R	300	50
S	800	200
T	600	150
U	500	350

Expenditure = Income – Saving

Which of the following statement is correct?

- I. The average of expenditure of all companies is 275.
II. The ratio of expenditure of company P to the expenditure of company U is 3 : 2.

Options :

1. ✓ Only I
2. ✗ Only II
3. ✗ Both I and II
4. ✗ Neither I nor II

Question Number : 58 Question Id : 97675519862 Question Type : MCQ Option Shuffling : Yes Is Question Mandatory : No Option Orientation : Vertical

Correct Marks : 1 Wrong Marks : 0.25

नीचे दी गई तालिका छह कंपनियों की आय तथा बचत को दर्शाती है।

कंपनी	आय	बचत
P	200	100
Q	400	300
R	300	50
S	800	200
T	600	150
U	500	350

व्यय = आय – बचत

निम्नलिखित में से कौन सा कथन सही है?

- I. सभी कंपनियों का औसत व्यय 275 है।
- II. कंपनी P के व्यय का कंपनी U के व्यय से अनुपात 3 : 2 है।

Options :

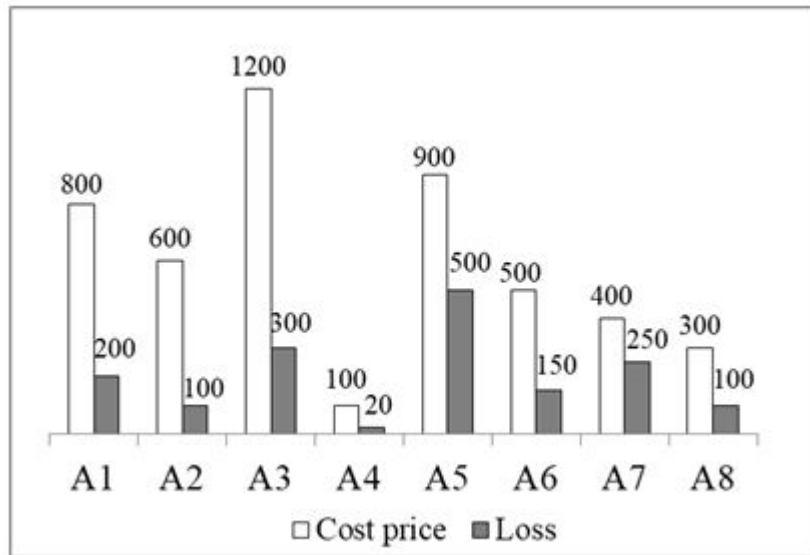
1. ✓ केवल I
2. ✗ केवल II
3. ✗ I तथा II दोनों
4. ✗ ना ही I ना ही II

Question Number : 59 Question Id : 97675519863 Question Type : MCQ Option Shuffling : Yes Is Question Mandatory : No Option

Orientation : Vertical

Correct Marks : 1 Wrong Marks : 0.25

The bar graph given below shows the cost price and value of loss of 8 article.



Selling Price = Cost Price – Loss

What is the average of selling price of articles A1, A5 and A8?

Options :

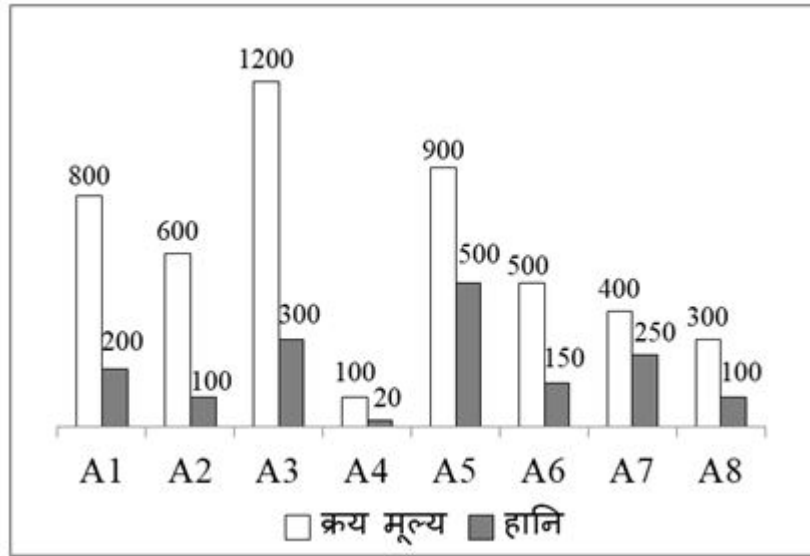
1. ✘ 350
2. ✘ 300
3. ✘ 250
4. ✔ 400

Question Number : 59 Question Id : 97675519863 Question Type : MCQ Option Shuffling : Yes Is Question Mandatory : No Option

Orientation : Vertical

Correct Marks : 1 Wrong Marks : 0.25

नीचे दिया गया दण्ड चित्र 8 वस्तुओं के क्रय मूल्य तथा हानि के मान को दर्शाता है।



विक्रय मूल्य = क्रय मूल्य - हानि

A1, A5 तथा A8 वस्तुओं के विक्रय मूल्य का औसत क्या है?

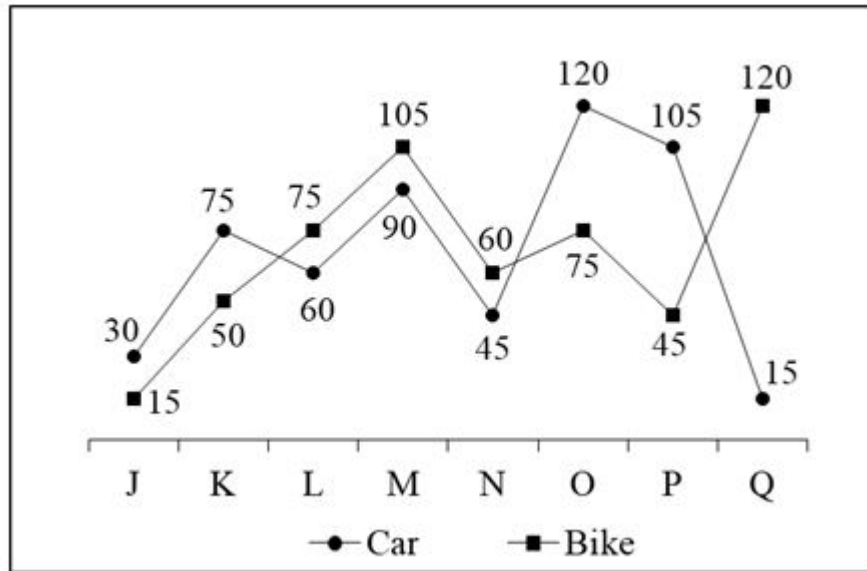
Options :

1. ✘ 350
2. ✘ 300
3. ✘ 250
4. ✔ 400

Question Number : 60 Question Id : 97675519864 Question Type : MCQ Option Shuffling : Yes Is Question Mandatory : No Option Orientation : Vertical

Correct Marks : 1 Wrong Marks : 0.25

The line chart given below shows the production of car and bike by 8 different companies.



T1 = The difference between total production of bike and total production of car of all the companies together

T2 = The average of the production of car and bike by company P

What is the value of T2/T1?

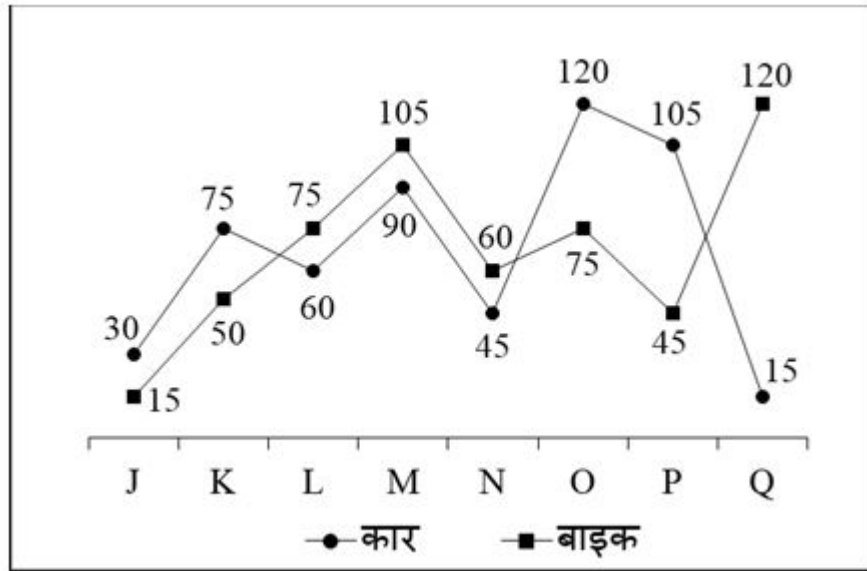
Options :

1. ✘ 25
2. ✔ 15
3. ✘ 20
4. ✘ 5

Question Number : 60 Question Id : 97675519864 Question Type : MCQ Option Shuffling : Yes Is Question Mandatory : No Option Orientation : Vertical

Correct Marks : 1 Wrong Marks : 0.25

नीचे दिया गया रेखा चित्र 8 विभिन्न कंपनियों द्वारा कार तथा बाइक के उत्पादन को दर्शाता है।



T1 = सभी कंपनियों द्वारा निर्मित कुल बाइक तथा कुल कार के बीच का अंतर
T2 = कंपनी P द्वारा बाइक तथा कार के उत्पादन का औसत
T2/T1 का मान क्या है?

Options :

1. ✘ 25
2. ✔ 15
3. ✘ 20
4. ✘ 5

General English

Group Number :	4
Group Id :	976755663
Group Maximum Duration :	0
Group Minimum Duration :	0
Show Attended Group? :	No
Edit Attended Group? :	No
Break time :	0

Group Marks : 20
Is this Group for Examiner? : No

General English

Section Id : 9767551093
Section Number : 1
Section type : Online
Mandatory or Optional : Mandatory
Number of Questions : 16
Number of Questions to be attempted : 16
Section Marks : 20
Enable Mark as Answered Mark for Review and Clear Response : Yes
Sub-Section Number : 1
Sub-Section Id : 9767551268
Question Shuffling Allowed : Yes

Question Number : 61 Question Id : 97675519865 Question Type : MCQ Option Shuffling : Yes Is Question Mandatory : No Option Orientation : Vertical

Correct Marks : 1 Wrong Marks : 0.25

Find the part of the given sentence that has an error in it. If there is no error, choose 'No error'.

The food supply chain rely(1)/ on a complex web (2)/of interconnected infrastructure (3)/.No error (4)

Options :

1. ✓ 1
2. ✗ 2
3. ✗ 3
4. ✗ 4

Question Number : 61 Question Id : 97675519865 Question Type : MCQ Option Shuffling : Yes Is Question Mandatory : No Option Orientation : Vertical

Correct Marks : 1 Wrong Marks : 0.25

Find the part of the given sentence that has an error in it. If there is no error, choose 'No error'.

The food supply chain rely(1)/ on a complex web (2)/of interconnected infrastructure (3)/.No error (4)

Options :

1. ✓ 1
2. ✗ 2
3. ✗ 3
4. ✗ 4

Question Number : 62 Question Id : 97675519866 Question Type : MCQ Option Shuffling : Yes Is Question Mandatory : No Option Orientation : Vertical

Correct Marks : 1 Wrong Marks : 0.25

Find the part of the given sentence that has an error in it. If there is no error, choose 'No error'.

An avoidance response (1)/ can do real damage (2)/to womens careers (3)/.No error (4)

Options :

1. ✗ 1
2. ✗ 2
3. ✓ 3
4. ✗ 4

Question Number : 62 Question Id : 97675519866 Question Type : MCQ Option Shuffling : Yes Is Question Mandatory : No Option Orientation : Vertical

Correct Marks : 1 Wrong Marks : 0.25

Find the part of the given sentence that has an error in it. If there is no error, choose 'No error'.

An avoidance response (1)/ can do real damage (2)/to womens careers (3)/.No error (4)

Options :

1. ✗ 1
2. ✗ 2
3. ✓ 3
4. ✗ 4

Question Number : 63 Question Id : 97675519867 Question Type : MCQ Option Shuffling : Yes Is Question Mandatory : No Option

Orientation : Vertical

Correct Marks : 1 Wrong Marks : 0.25

Select the most appropriate option to substitute the underlined segment in the given sentence. If no substitution is required, select 'No improvement' as your answer.

Much well-known writers in regional language got their works translated.

Options :

1. ✓ Many well-known
2. ✗ Much good-known
3. ✗ Many poorly-known
4. ✗ No improvement

Question Number : 63 Question Id : 97675519867 Question Type : MCQ Option Shuffling : Yes Is Question Mandatory : No Option Orientation : Vertical

Correct Marks : 1 Wrong Marks : 0.25

Select the most appropriate option to substitute the underlined segment in the given sentence. If no substitution is required, select 'No improvement' as your answer.

Much well-known writers in regional language got their works translated.

Options :

1. ✓ Many well-known
2. ✗ Much good-known
3. ✗ Many poorly-known
4. ✗ No improvement

Question Number : 64 Question Id : 97675519868 Question Type : MCQ Option Shuffling : Yes Is Question Mandatory : No Option Orientation : Vertical

Correct Marks : 1 Wrong Marks : 0.25

Select the most appropriate option to substitute the underlined segment in the given sentence. If no substitution is required, select 'No improvement' as your answer.

No sooner had she finished her dance when the audience clapped.

Options :

1. ✗ dance where the

2. ✘ dance then the
3. ✔ dance than the
4. ✘ No improvement

Question Number : 64 Question Id : 97675519868 Question Type : MCQ Option Shuffling : Yes Is Question Mandatory : No Option Orientation : Vertical

Correct Marks : 1 Wrong Marks : 0.25

Select the most appropriate option to substitute the underlined segment in the given sentence. If no substitution is required, select 'No improvement' as your answer.

No sooner had she finished her dance when the audience clapped.

Options :

1. ✘ dance where the
2. ✘ dance then the
3. ✔ dance than the
4. ✘ No improvement

Question Number : 65 Question Id : 97675519869 Question Type : MCQ Option Shuffling : Yes Is Question Mandatory : No Option Orientation : Vertical

Correct Marks : 1 Wrong Marks : 0.25

A sentence has been given with a blank to be filled with an appropriate word. Choose the correct alternative.

Your business plan is _____ and lacks a deep understanding.

Options :

1. ✘ logical
2. ✘ explicit
3. ✘ superior
4. ✔ superficial

Question Number : 65 Question Id : 97675519869 Question Type : MCQ Option Shuffling : Yes Is Question Mandatory : No Option Orientation : Vertical

Correct Marks : 1 Wrong Marks : 0.25

A sentence has been given with a blank to be filled with an appropriate word. Choose the correct alternative.

Your business plan is _____ and lacks a deep understanding.

Options :

1. ✘ logical
2. ✘ explicit
3. ✘ superior
4. ✔ superficial

Question Number : 66 Question Id : 97675519870 Question Type : MCQ Option Shuffling : Yes Is Question Mandatory : No Option Orientation : Vertical

Correct Marks : 1 Wrong Marks : 0.25

A sentence has been given with a blank to be filled with an appropriate word. Choose the correct alternative.

I did not find a correlation _____ lastic bag reuse and income or political leaning.

Options :

1. ✔ between
2. ✘ among
3. ✘ in
4. ✘ before

Question Number : 66 Question Id : 97675519870 Question Type : MCQ Option Shuffling : Yes Is Question Mandatory : No Option Orientation : Vertical

Correct Marks : 1 Wrong Marks : 0.25

A sentence has been given with a blank to be filled with an appropriate word. Choose the correct alternative.

I did not find a correlation _____ lastic bag reuse and income or political leaning.

Options :

1. ✔ between
2. ✘ among
3. ✘ in
4. ✘ before

Question Number : 67 Question Id : 97675519871 Question Type : MCQ Option Shuffling : Yes Is Question Mandatory : No Option

Orientation : Vertical

Correct Marks : 1 Wrong Marks : 0.25

Rearrange the parts of the sentence in correct order.

Never sponsored by great political

P: the millennium preceding the Common Era

Q: through inherent efficiency and because the Aramaeans

R: power, the Aramaic script and language succeeded

S: were vigorous traders and extensive travellers in

Options :

1. ✘ SQRP

2. ✔ RQSP

3. ✘ SPRQ

4. ✘ QSPR

Question Number : 67 Question Id : 97675519871 Question Type : MCQ Option Shuffling : Yes Is Question Mandatory : No Option

Orientation : Vertical

Correct Marks : 1 Wrong Marks : 0.25

Rearrange the parts of the sentence in correct order.

Never sponsored by great political

P: the millennium preceding the Common Era

Q: through inherent efficiency and because the Aramaeans

R: power, the Aramaic script and language succeeded

S: were vigorous traders and extensive travellers in

Options :

1. ✘ SQRP

2. ✔ RQSP

3. ✘ SPRQ

4. ✘ QSPR

Question Number : 68 Question Id : 97675519872 Question Type : MCQ Option Shuffling : Yes Is Question Mandatory : No Option

Orientation : Vertical

Correct Marks : 1 Wrong Marks : 0.25

Rearrange the parts of the sentence in the correct order.

P: at its peak, the Mongol Empire covered
Q: some 9 million square miles of
R: territory, making it the largest
S: contiguous land empire in world history

Options :

1. ✘ PRQS
2. ✔ PQRS
3. ✘ QPSR
4. ✘ QPRS

Question Number : 68 Question Id : 97675519872 Question Type : MCQ Option Shuffling : Yes Is Question Mandatory : No Option Orientation : Vertical

Correct Marks : 1 Wrong Marks : 0.25

Rearrange the parts of the sentence in the correct order.

P: at its peak, the Mongol Empire covered
Q: some 9 million square miles of
R: territory, making it the largest
S: contiguous land empire in world history

Options :

1. ✘ PRQS
2. ✔ PQRS
3. ✘ QPSR
4. ✘ QPRS

Question Number : 69 Question Id : 97675519873 Question Type : MCQ Option Shuffling : Yes Is Question Mandatory : No Option Orientation : Vertical

Correct Marks : 1 Wrong Marks : 0.25

Choose the word that means the same as the given word.

Humanity

Options :

1. ✔ Mankind

2. ✘ Notion
3. ✘ Apathy
4. ✘ Adulation

Question Number : 69 Question Id : 97675519873 Question Type : MCQ Option Shuffling : Yes Is Question Mandatory : No Option Orientation : Vertical

Correct Marks : 1 Wrong Marks : 0.25

Choose the word that means the same as the given word.

Humanity

Options :

1. ✔ Mankind
2. ✘ Notion
3. ✘ Apathy
4. ✘ Adulation

Question Number : 70 Question Id : 97675519874 Question Type : MCQ Option Shuffling : Yes Is Question Mandatory : No Option Orientation : Vertical

Correct Marks : 1 Wrong Marks : 0.25

Choose the word that is opposite in meaning to the given word.

Inevitable

Options :

1. ✔ Evadable
2. ✘ Obligatory
3. ✘ Fated
4. ✘ Voluntary

Question Number : 70 Question Id : 97675519874 Question Type : MCQ Option Shuffling : Yes Is Question Mandatory : No Option Orientation : Vertical

Correct Marks : 1 Wrong Marks : 0.25

Choose the word that is opposite in meaning to the given word.

Inevitable

Options :

1. ✓ Evadable
2. ✗ Obligatory
3. ✗ Fated
4. ✗ Voluntary

Question Number : 71 Question Id : 97675519875 Question Type : MCQ Option Shuffling : Yes Is Question Mandatory : No Option Orientation : Vertical

Correct Marks : 1 Wrong Marks : 0.25

In the given question, four words are given out of which one word is correctly spelt. Choose the correctly spelt word.

Options :

1. ✗ Rispect
2. ✓ Respect
3. ✗ Respectt
4. ✗ Recpect

Question Number : 71 Question Id : 97675519875 Question Type : MCQ Option Shuffling : Yes Is Question Mandatory : No Option Orientation : Vertical

Correct Marks : 1 Wrong Marks : 0.25

In the given question, four words are given out of which one word is correctly spelt. Choose the correctly spelt word.

Options :

1. ✗ Rispect
2. ✓ Respect
3. ✗ Respectt
4. ✗ Recpect

Question Number : 72 Question Id : 97675519876 Question Type : MCQ Option Shuffling : Yes Is Question Mandatory : No Option Orientation : Vertical

Correct Marks : 1 Wrong Marks : 0.25

In the given question, four words are given out of which one word is correctly spelt. Choose the correctly spelt word.

Options :

1. ✓ Tomorrow
2. ✗ Tomorow
3. ✗ Toomorrow
4. ✗ Tommorow

Question Number : 72 Question Id : 97675519876 Question Type : MCQ Option Shuffling : Yes Is Question Mandatory : No Option Orientation : Vertical

Correct Marks : 1 Wrong Marks : 0.25

In the given question, four words are given out of which one word is correctly spelt. Choose the correctly spelt word.

Options :

1. ✓ Tomorrow
2. ✗ Tomorow
3. ✗ Toomorrow
4. ✗ Tommorow

Question Number : 73 Question Id : 97675519877 Question Type : MCQ Option Shuffling : Yes Is Question Mandatory : No Option Orientation : Vertical

Correct Marks : 1 Wrong Marks : 0.25

In the following question, out of the given four alternatives, select the alternative which best expresses the meaning of the Idiom/Phrase.

Go under the knife

Options :

1. ✗ To play the fool
2. ✗ To harass
3. ✓ To have a medical operation
4. ✗ Pretend to not know something

Question Number : 73 Question Id : 97675519877 Question Type : MCQ Option Shuffling : Yes Is Question Mandatory : No Option Orientation : Vertical

Correct Marks : 1 Wrong Marks : 0.25

In the following question, out of the given four alternatives, select the alternative which best expresses the meaning of the Idiom/Phrase.

Go under the knife

Options :

1. ✘ To play the fool
2. ✘ To harass
3. ✔ To have a medical operation
4. ✘ Pretend to not know something

Question Number : 74 Question Id : 97675519878 Question Type : MCQ Option Shuffling : Yes Is Question Mandatory : No Option Orientation : Vertical

Correct Marks : 1 Wrong Marks : 0.25

In the following question, out of the given four alternatives, select the alternative which best expresses the meaning of the Idiom/Phrase.

To beat a retreat

Options :

1. ✘ To hide from what one has done
2. ✘ To take important decisions
3. ✔ To leave quickly
4. ✘ To ask for time to decide

Question Number : 74 Question Id : 97675519878 Question Type : MCQ Option Shuffling : Yes Is Question Mandatory : No Option Orientation : Vertical

Correct Marks : 1 Wrong Marks : 0.25

In the following question, out of the given four alternatives, select the alternative which best expresses the meaning of the Idiom/Phrase.

To beat a retreat

Options :

1. ✘ To hide from what one has done
2. ✘ To take important decisions
3. ✔ To leave quickly
4. ✘ To ask for time to decide

Question Number : 75 Question Id : 97675519879 Question Type : MCQ Option Shuffling : Yes Is Question Mandatory : No Option Orientation : Vertical

Correct Marks : 1 Wrong Marks : 0.25

Choose the word that can substitute the given sentence.

A study of interrelationship of organism and their environments

Options :

1. ✘ Biology
2. ✘ Biotech
3. ✘ Environment
4. ✔ Ecology

Question Number : 75 Question Id : 97675519879 Question Type : MCQ Option Shuffling : Yes Is Question Mandatory : No Option Orientation : Vertical

Correct Marks : 1 Wrong Marks : 0.25

Choose the word that can substitute the given sentence.

A study of interrelationship of organism and their environments

Options :

1. ✘ Biology
2. ✘ Biotech
3. ✘ Environment
4. ✔ Ecology

Sub-Section Number :

2

Sub-Section Id :

9767551269

Question Shuffling Allowed :

Yes

Question Id : 97675519880 Question Type : COMPREHENSION Sub Question Shuffling Allowed : Yes Group Comprehension Questions : No

Question Numbers : (76 to 80)

Read the following information carefully and answer the given questions.

Philosophy of education, philosophical reflection on the nature, aims, and problems of education. The philosophy of education is Janus-faced, looking both inward to the parent discipline of philosophy and outward to educational practice. (In this respect it is like other areas of “applied” philosophy, such as the philosophy of law, the philosophy of science, and the philosophy of medicine, including bioethics). This dual focus requires it to work on both sides of the traditional divide between theory and practice, taking as its subject matter both basic philosophical issues (e.g., the nature of knowledge) and more specific issues arising from educational practice (e.g., the desirability of standardized testing). These

practical issues, in turn, have implications for a variety of long-standing philosophical problems in epistemology, metaphysics, ethics, and political philosophy. In addressing these many issues and problems, the philosopher of education strives for conceptual clarity, argumentative rigour, and informed valuation.

The history of philosophy of education is an important source of concerns and issues—as is the history of education itself—for setting the intellectual agenda of contemporary philosophers of education. Equally relevant is the range of contemporary approaches to the subject. Although it is not possible here to review systematically either that history or those contemporary approaches, brief sketches of several key figures are offered next.

The Western philosophical tradition began in ancient Greece, and philosophy of education began with it. The major historical figures developed philosophical views of education that were embedded in their broader metaphysical, epistemological, ethical, and political theories. The introduction by Socrates of the “Socratic method” of questioning (see dialectic) began a tradition in which reasoning and the search for reasons that might justify beliefs, judgments, and actions was (and remains) fundamental; such questioning in turn eventually gave rise to the view that education should encourage in all students and persons, to the greatest extent possible, the pursuit of the life of reason. This view of the central place of reason in education has been shared by most of the major figures in the history of philosophy of education, despite the otherwise substantial differences in their other philosophical views.

Sub questions

Question Number : 76 Question Id : 97675519881 Question Type : MCQ Option Shuffling : Yes Is Question Mandatory : No Option Orientation : Vertical

Correct Marks : 1 Wrong Marks : 0.25

What can be the suitable title for the given passage?

Options :

1. ✓ Philosophy of education
2. ✗ What is philosophy?
3. ✗ Philosophical views
4. ✗ Philosophical tradition

Question Number : 77 Question Id : 97675519882 Question Type : MCQ Option Shuffling : Yes Is Question Mandatory : No Option Orientation : Vertical

Correct Marks : 1 Wrong Marks : 0.25

Why the history of philosophy of education is an important source of concerns and issues?

Options :

1. ✗ To get the brief sketches of several key figures.
2. ✗ To get conceptual clarity, argumentative rigour, and informed valuation.
3. ✓ For setting the intellectual agenda of contemporary philosophers of education.
4. ✗ Because analyzing the differences between two philosophical ideas can be challenging.

Question Number : 78 Question Id : 97675519883 Question Type : MCQ Option Shuffling : Yes Is Question Mandatory : No Option Orientation : Vertical

Correct Marks : 1 Wrong Marks : 0.25

Identify the correct synonym of the word 'rigour'?

Options :

1. ✘ Laxity
2. ✔ Precision
3. ✘ Omission
4. ✘ Benign

Question Number : 79 Question Id : 97675519884 Question Type : MCQ Option Shuffling : Yes Is Question Mandatory : No Option Orientation : Vertical

Correct Marks : 1 Wrong Marks : 0.25

Which of the following statements is/are true as per the given passage?

- I. The philosophy of education began with the western philosophical tradition which began in ancient Greece.
- II. The philosopher of education doesn't strive for conceptual clarity.

Options :

1. ✔ Only I
2. ✘ Only II
3. ✘ Both I and II
4. ✘ Neither I nor II

Question Number : 80 Question Id : 97675519885 Question Type : MCQ Option Shuffling : Yes Is Question Mandatory : No Option Orientation : Vertical

Correct Marks : 1 Wrong Marks : 0.25

What does the phrase 'Janus-faced' implies here?

Options :

1. ✘ Having no point of view on any matter
2. ✔ Having different faces for different approaches
3. ✘ Having more than one face
4. ✘ Having no real meaning

Question Id : 97675519880 Question Type : COMPREHENSION Sub Question Shuffling Allowed : Yes Group Comprehension Questions : No

Question Numbers : (76 to 80)

Read the following information carefully and answer the given questions.

Philosophy of education, philosophical reflection on the nature, aims, and problems of education. The philosophy of education is Janus-faced, looking both inward to the parent discipline of philosophy and outward to educational practice. (In this respect it is like other areas of “applied” philosophy, such as the philosophy of law, the philosophy of science, and the philosophy of medicine, including bioethics). This dual focus requires it to work on both sides of the traditional divide between theory and practice, taking as its subject matter both basic philosophical issues (e.g., the nature of knowledge) and more specific issues arising from educational practice (e.g., the desirability of standardized testing). These practical issues, in turn, have implications for a variety of long-standing philosophical problems in epistemology, metaphysics, ethics, and political philosophy. In addressing these many issues and problems, the philosopher of education strives for conceptual clarity, argumentative rigour, and informed valuation.

The history of philosophy of education is an important source of concerns and issues—as is the history of education itself—for setting the intellectual agenda of contemporary philosophers of education. Equally relevant is the range of contemporary approaches to the subject. Although it is not possible here to review systematically either that history or those contemporary approaches, brief sketches of several key figures are offered next.

The Western philosophical tradition began in ancient Greece, and philosophy of education began with it. The major historical figures developed philosophical views of education that were embedded in their broader metaphysical, epistemological, ethical, and political theories. The introduction by Socrates of the “Socratic method” of questioning (see dialectic) began a tradition in which reasoning and the search for reasons that might justify beliefs, judgments, and actions was (and remains) fundamental; such questioning in turn eventually gave rise to the view that education should encourage in all students and persons, to the greatest extent possible, the pursuit of the life of reason. This view of the central place of reason in education has been shared by most of the major figures in the history of philosophy of education, despite the otherwise substantial differences in their other philosophical views.

Sub questions

Question Number : 76 Question Id : 97675519881 Question Type : MCQ Option Shuffling : Yes Is Question Mandatory : No Option Orientation : Vertical

Correct Marks : 1 Wrong Marks : 0.25

What can be the suitable title for the given passage?

Options :

1. ✓ Philosophy of education
2. ✗ What is philosophy?
3. ✗ Philosophical views
4. ✗ Philosophical tradition

Question Number : 77 Question Id : 97675519882 Question Type : MCQ Option Shuffling : Yes Is Question Mandatory : No Option Orientation : Vertical

Correct Marks : 1 Wrong Marks : 0.25

Why the history of philosophy of education is an important source of concerns and issues?

Options :

1. ✘ To get the brief sketches of several key figures.
2. ✘ To get conceptual clarity, argumentative rigour, and informed valuation.
3. ✔ For setting the intellectual agenda of contemporary philosophers of education.
4. ✘ Because analyzing the differences between two philosophical ideas can be challenging.

Question Number : 78 Question Id : 97675519883 Question Type : MCQ Option Shuffling : Yes Is Question Mandatory : No Option Orientation : Vertical

Correct Marks : 1 Wrong Marks : 0.25

Identify the correct synonym of the word 'rigour'?

Options :

1. ✘ Laxity
2. ✔ Precision
3. ✘ Omission
4. ✘ Benign

Question Number : 79 Question Id : 97675519884 Question Type : MCQ Option Shuffling : Yes Is Question Mandatory : No Option Orientation : Vertical

Correct Marks : 1 Wrong Marks : 0.25

Which of the following statements is/are true as per the given passage?

- I. The philosophy of education began with the western philosophical tradition which began in ancient Greece.
- II. The philosopher of education doesn't strive for conceptual clarity.

Options :

1. ✔ Only I
2. ✘ Only II
3. ✘ Both I and II
4. ✘ Neither I nor II

Question Number : 80 Question Id : 97675519885 Question Type : MCQ Option Shuffling : Yes Is Question Mandatory : No Option Orientation : Vertical

Correct Marks : 1 Wrong Marks : 0.25

What does the phrase 'Janus-faced' implies here?

Options :

1. ✘ Having no point of view on any matter
2. ✔ Having different faces for different approaches
3. ✘ Having more than one face
4. ✘ Having no real meaning

General Hindi

Group Number :	5
Group Id :	976755664
Group Maximum Duration :	0
Group Minimum Duration :	0
Show Attended Group? :	No
Edit Attended Group? :	No
Break time :	0
Group Marks :	20
Is this Group for Examiner? :	No

General Hindi

Section Id :	9767551094
Section Number :	1
Section type :	Online
Mandatory or Optional :	Mandatory
Number of Questions :	16
Number of Questions to be attempted :	16
Section Marks :	20
Enable Mark as Answered Mark for Review and Clear Response :	Yes

Sub-Section Number :

1

Sub-Section Id :

9767551270

Question Shuffling Allowed :

Yes

Question Number : 81 Question Id : 97675519886 Question Type : MCQ Option Shuffling : Yes Is Question Mandatory : No Option Orientation : Vertical

Correct Marks : 1 Wrong Marks : 0.25

दिए गए शब्द का उपसर्ग ज्ञात कीजिए।

उपवन

Options :

1. ✘ अप
2. ✘ उ
3. ✔ उप
4. ✘ वन

Question Number : 81 Question Id : 97675519886 Question Type : MCQ Option Shuffling : Yes Is Question Mandatory : No Option Orientation : Vertical

Correct Marks : 1 Wrong Marks : 0.25

दिए गए शब्द का उपसर्ग ज्ञात कीजिए।

उपवन

Options :

1. ✘ अप
2. ✘ उ
3. ✔ उप
4. ✘ वन

Question Number : 82 Question Id : 97675519887 Question Type : MCQ Option Shuffling : Yes Is Question Mandatory : No Option Orientation : Vertical

Correct Marks : 1 Wrong Marks : 0.25

दिए गए वाक्य में क्रिया ज्ञात कीजिए।

राम विद्यालय से लौट आया।

Options :

1. ✘ सकर्मक
2. ✔ संयुक्त
3. ✘ अकर्मक
4. ✘ सामान्य

Question Number : 82 Question Id : 97675519887 Question Type : MCQ Option Shuffling : Yes Is Question Mandatory : No Option Orientation : Vertical

Correct Marks : 1 Wrong Marks : 0.25

दिए गए वाक्य में क्रिया ज्ञात कीजिए।

राम विद्यालय से लौट आया।

Options :

1. ✘ सकर्मक
2. ✔ संयुक्त
3. ✘ अकर्मक
4. ✘ सामान्य

Question Number : 83 Question Id : 97675519888 Question Type : MCQ Option Shuffling : Yes Is Question Mandatory : No Option Orientation : Vertical

Correct Marks : 1 Wrong Marks : 0.25

दिए गए शब्दों की संधि ज्ञात कीजिए।

विद्युत + शक्ति

Options :

1. ✘ विद्युतशक्ति
2. ✘ विदुतशक्ति
3. ✘ विद्युछशक्ति
4. ✔ विद्युच्छक्ति

Question Number : 83 Question Id : 97675519888 Question Type : MCQ Option Shuffling : Yes Is Question Mandatory : No Option Orientation : Vertical

Correct Marks : 1 Wrong Marks : 0.25

दिए गए शब्दों की संधि ज्ञात कीजिए।

विद्युत + शक्ति

Options :

1. ✘ विद्युतशक्ति
2. ✘ विदुतशक्ति
3. ✘ विद्युछशक्ति
4. ✔ विद्युच्छक्ति

Question Number : 84 Question Id : 97675519889 Question Type : MCQ Option Shuffling : Yes Is Question Mandatory : No Option Orientation : Vertical

Correct Marks : 1 Wrong Marks : 0.25

निम्नलिखित शब्द का पर्यायवाची नहीं है, ज्ञात कीजिए।

धन

Options :

1. ✘ दौलत
2. ✘ संपत्ति
3. ✔ रत्नवती
4. ✘ सम्पदा

Question Number : 84 Question Id : 97675519889 Question Type : MCQ Option Shuffling : Yes Is Question Mandatory : No Option Orientation : Vertical

Correct Marks : 1 Wrong Marks : 0.25

निम्नलिखित शब्द का पर्यायवाची नहीं है, ज्ञात कीजिए।

धन

Options :

1. ✘ दौलत

2. ✘ संपत्ति
3. ✔ रत्नवती
4. ✘ सम्पदा

Question Number : 85 Question Id : 97675519890 Question Type : MCQ Option Shuffling : Yes Is Question Mandatory : No Option Orientation : Vertical

Correct Marks : 1 Wrong Marks : 0.25

दिए गए शब्दों में शुद्ध वर्तनी का चयन कीजिए।

Options :

1. ✘ सामसन
2. ✘ स्मसान
3. ✘ शम्शान
4. ✔ श्मशान

Question Number : 85 Question Id : 97675519890 Question Type : MCQ Option Shuffling : Yes Is Question Mandatory : No Option Orientation : Vertical

Correct Marks : 1 Wrong Marks : 0.25

दिए गए शब्दों में शुद्ध वर्तनी का चयन कीजिए।

Options :

1. ✘ सामसन
2. ✘ स्मसान
3. ✘ शम्शान
4. ✔ श्मशान

Question Number : 86 Question Id : 97675519891 Question Type : MCQ Option Shuffling : Yes Is Question Mandatory : No Option Orientation : Vertical

Correct Marks : 1 Wrong Marks : 0.25

दिए गए शब्द का विलोम शब्द ज्ञात कीजिए।

गौण

Options :

1. ✘ अवगुण
2. ✘ अगुण
3. ✘ विगुण
4. ✔ प्रमुख

Question Number : 86 Question Id : 97675519891 Question Type : MCQ Option Shuffling : Yes Is Question Mandatory : No Option Orientation : Vertical

Correct Marks : 1 Wrong Marks : 0.25

दिए गए शब्द का विलोम शब्द ज्ञात कीजिए।

गौण

Options :

1. ✘ अवगुण
2. ✘ अगुण
3. ✘ विगुण
4. ✔ प्रमुख

Question Number : 87 Question Id : 97675519892 Question Type : MCQ Option Shuffling : Yes Is Question Mandatory : No Option Orientation : Vertical

Correct Marks : 1 Wrong Marks : 0.25

दिए गए शब्द युग्म का सही शब्द युग्म ज्ञात कीजिए।

अलि : आली

Options :

1. ✔ भौरा : सखी
2. ✘ टिकठी : भौरा
3. ✘ तुरंत : टिकठी
4. ✘ सखी : तुरंत

Question Number : 87 Question Id : 97675519892 Question Type : MCQ Option Shuffling : Yes Is Question Mandatory : No Option Orientation : Vertical

Correct Marks : 1 Wrong Marks : 0.25

दिए गए शब्द युग्म का सही शब्द युग्म ज्ञात कीजिए।

अलि : आली

Options :

1. ✓ भौरा : सखी
2. ✗ टिकठी : भौरा
3. ✗ तुरंत : टिकठी
4. ✗ सखी : तुरंत

Question Number : 88 Question Id : 97675519893 Question Type : MCQ Option Shuffling : Yes Is Question Mandatory : No Option Orientation : Vertical

Correct Marks : 1 Wrong Marks : 0.25

दिए गए वाक्य का काल ज्ञात कीजिए।

बस छूट गई होगी।

Options :

1. ✗ हेतु हेतु भूतकाल
2. ✗ अपूर्ण भूतकाल
3. ✗ पूर्ण भूतकाल
4. ✓ संदिग्ध भूतकाल

Question Number : 88 Question Id : 97675519893 Question Type : MCQ Option Shuffling : Yes Is Question Mandatory : No Option Orientation : Vertical

Correct Marks : 1 Wrong Marks : 0.25

दिए गए वाक्य का काल ज्ञात कीजिए।

बस छूट गई होगी।

Options :

1. ✗ हेतु हेतु भूतकाल
2. ✗ अपूर्ण भूतकाल
3. ✗ पूर्ण भूतकाल
4. ✓ संदिग्ध भूतकाल

Question Number : 89 Question Id : 97675519894 Question Type : MCQ Option Shuffling : Yes Is Question Mandatory : No Option Orientation : Vertical

Correct Marks : 1 Wrong Marks : 0.25

निम्नलिखित वाक्यों में से सरल वाक्य ज्ञात कीजिए।

Options :

1. ✓ सुषमा आकर चली गई।
2. ✗ सुषमा आई और चली गई।
3. ✗ जब सुषमा आई, वह चली गई।
4. ✗ सुषमा आई तो वह चली गई थी।

Question Number : 89 Question Id : 97675519894 Question Type : MCQ Option Shuffling : Yes Is Question Mandatory : No Option Orientation : Vertical

Correct Marks : 1 Wrong Marks : 0.25

निम्नलिखित वाक्यों में से सरल वाक्य ज्ञात कीजिए।

Options :

1. ✓ सुषमा आकर चली गई।
2. ✗ सुषमा आई और चली गई।
3. ✗ जब सुषमा आई, वह चली गई।
4. ✗ सुषमा आई तो वह चली गई थी।

Question Number : 90 Question Id : 97675519895 Question Type : MCQ Option Shuffling : Yes Is Question Mandatory : No Option Orientation : Vertical

Correct Marks : 1 Wrong Marks : 0.25

निम्नलिखित वाक्यों में से संयुक्त वाक्य ज्ञात कीजिए।

Options :

1. ✗ गार्ड के हरी झंडी दिखाने पर ट्रेन चल पड़ी।
2. ✗ जैसे ही गार्ड ने हरी झंडी दिखाई वैसे ही ट्रेन चल पड़ी।
3. ✗ जब गार्ड ने हरी झंडी दिखाई तब ट्रेन चल पड़ी।
4. ✓ गार्ड ने हरी झंडी दिखाई और ट्रेन चल पड़ी।

Question Number : 90 Question Id : 97675519895 Question Type : MCQ Option Shuffling : Yes Is Question Mandatory : No Option Orientation : Vertical

Correct Marks : 1 Wrong Marks : 0.25

निम्नलिखित वाक्यों में से संयुक्त वाक्य ज्ञात कीजिए।

Options :

1. ✘ गार्ड के हरी झंडी दिखाने पर ट्रेन चल पड़ी।
2. ✘ जैसे ही गार्ड ने हरी झंडी दिखाई वैसे ही ट्रेन चल पड़ी।
3. ✘ जब गार्ड ने हरी झंडी दिखाई तब ट्रेन चल पड़ी।
4. ✔ गार्ड ने हरी झंडी दिखाई और ट्रेन चल पड़ी।

Question Number : 91 Question Id : 97675519896 Question Type : MCQ Option Shuffling : Yes Is Question Mandatory : No Option Orientation : Vertical

Correct Marks : 1 Wrong Marks : 0.25

दिए गए वाक्य में उचित परसर्ग का चयन करके रिक्त स्थान की पूर्ति कीजिए।

लोटा छत _____ गिरा।

Options :

1. ✔ से
2. ✘ को
3. ✘ में
4. ✘ के लिए

Question Number : 91 Question Id : 97675519896 Question Type : MCQ Option Shuffling : Yes Is Question Mandatory : No Option Orientation : Vertical

Correct Marks : 1 Wrong Marks : 0.25

दिए गए वाक्य में उचित परसर्ग का चयन करके रिक्त स्थान की पूर्ति कीजिए।

लोटा छत _____ गिरा।

Options :

1. ✔ से
2. ✘ को
3. ✘ में

4. ✖ के लिए

Question Number : 92 Question Id : 97675519897 Question Type : MCQ Option Shuffling : Yes Is Question Mandatory : No Option Orientation : Vertical

Correct Marks : 1 Wrong Marks : 0.25

दिए गए वाक्य में उपयुक्त विराम चिह्न का चयन कीजिए।

अरे भाई तुम यहाँ बैठ जाओ।

Options :

1. ✖ ,
2. ✔ !
3. ✖ ;
4. ✖ –

Question Number : 92 Question Id : 97675519897 Question Type : MCQ Option Shuffling : Yes Is Question Mandatory : No Option Orientation : Vertical

Correct Marks : 1 Wrong Marks : 0.25

दिए गए वाक्य में उपयुक्त विराम चिह्न का चयन कीजिए।

अरे भाई तुम यहाँ बैठ जाओ।

Options :

1. ✖ ,
2. ✔ !
3. ✖ ;
4. ✖ –

Question Number : 93 Question Id : 97675519898 Question Type : MCQ Option Shuffling : Yes Is Question Mandatory : No Option Orientation : Vertical

Correct Marks : 1 Wrong Marks : 0.25

दिए गए वाक्य में उपयुक्त विराम चिह्न का चयन कीजिए।

तुम बैठे बैठे क्यों रो रहे हो

Options :

1. ✖ –;
2. ✖ ;?
3. ✔ –?
4. ✖ :- |

Question Number : 93 Question Id : 97675519898 Question Type : MCQ Option Shuffling : Yes Is Question Mandatory : No Option Orientation : Vertical

Correct Marks : 1 Wrong Marks : 0.25

दिए गए वाक्य में उपयुक्त विराम चिह्न का चयन कीजिए।

तुम बैठे बैठे क्यों रो रहे हो

Options :

1. ✖ –;
2. ✖ ;?
3. ✔ –?
4. ✖ :- |

Question Number : 94 Question Id : 97675519899 Question Type : MCQ Option Shuffling : Yes Is Question Mandatory : No Option Orientation : Vertical

Correct Marks : 1 Wrong Marks : 0.25

निम्नलिखित प्रश्न में, दिए गए चार विकल्पों में से, उस विकल्प का चयन करें जो दिए गए मुहावरे के अर्थ को सर्वश्रेष्ठ रूप से व्यक्त करता है।

गन्ध तक न आना

Options :

1. ✖ नष्ट करना
2. ✖ बात को बढ़ा-चढ़ाकर कहना
3. ✔ प्रकट न होना
4. ✖ ध्वस्त करना

Question Number : 94 Question Id : 97675519899 Question Type : MCQ Option Shuffling : Yes Is Question Mandatory : No Option Orientation : Vertical

Correct Marks : 1 Wrong Marks : 0.25

निम्नलिखित प्रश्न में, दिए गए चार विकल्पों में से, उस विकल्प का चयन करें जो दिए गए मुहावरे के अर्थ को सर्वश्रेष्ठ रूप से व्यक्त करता है।

गन्ध तक न आना

Options :

1. ✘ नष्ट करना
2. ✘ बात को बढ़ा-चढ़ाकर कहना
3. ✔ प्रकट न होना
4. ✘ ध्वस्त करना

Question Number : 95 Question Id : 97675519900 Question Type : MCQ Option Shuffling : Yes Is Question Mandatory : No Option Orientation : Vertical

Correct Marks : 1 Wrong Marks : 0.25

निम्नलिखित प्रश्न में, दिए गए चार विकल्पों में से, उस विकल्प का चयन करें जो दिए गए मुहावरे के अर्थ को सर्वश्रेष्ठ रूप से व्यक्त करता है।

काजल की कोठरी

Options :

1. ✘ शोभा बढ़ाना
2. ✘ बेचैनी से इंतजार करना
3. ✘ असमर्थता स्वीकार करना
4. ✔ कलंकित होने का स्थान

Question Number : 95 Question Id : 97675519900 Question Type : MCQ Option Shuffling : Yes Is Question Mandatory : No Option Orientation : Vertical

Correct Marks : 1 Wrong Marks : 0.25

निम्नलिखित प्रश्न में, दिए गए चार विकल्पों में से, उस विकल्प का चयन करें जो दिए गए मुहावरे के अर्थ को सर्वश्रेष्ठ रूप से व्यक्त करता है।

काजल की कोठरी

Options :

1. ✘ शोभा बढ़ाना
2. ✘ बेचैनी से इंतजार करना
3. ✘ असमर्थता स्वीकार करना

4. ✓ कलंकित होने का स्थान

Sub-Section Number :

2

Sub-Section Id :

9767551271

Question Shuffling Allowed :

Yes

Question Id : 97675519901 Question Type : COMPREHENSION Sub Question Shuffling Allowed : Yes Group Comprehension Questions : No

Question Numbers : (96 to 100)

एक गद्यांश दिया गया है। गद्यांश के आधार पर पाँच प्रश्न दिए गए हैं। गद्यांश को ध्यानपूर्वक पढ़ें तथा प्रत्येक प्रश्न में चार विकल्पों में से सही विकल्प चुने।

ध्वनि प्रदूषण वो औद्योगिक या गैर-औद्योगिक क्रियाएं हैं जो मनुष्य, पौधो और पशुओं के स्वास्थ्य पर बहुत से आयामों से विभिन्न ध्वनि स्रोतों के द्वारा आवाज पैदा करके प्रभावित करती है। ध्वनि प्रदूषण उस स्थिति में उत्पन्न होता है जब पर्यावरण में आवाज का स्तर सामान्य स्तर से बहुत अधिक होता है। ध्वनि का प्रसार औद्योगिक और गैर-औद्योगिक स्रोतों के कारण हुआ है। ध्वनि के औद्योगिक स्रोतों में तेज गति से काम करने वाली उच्च तकनीकी की बड़ी मशीनें और बहुत से उद्योगों में ऊंची आवाज पैदा करने वाली मशीनें शामिल हैं। भारत में बहुत अधिक ध्वनि प्रदूषण शहरीकरण, आधुनिक सभ्यता, औद्योगिकीकरण आदि के द्वारा बढ़ा है। आज शोरगुल के कई स्रोत हो जाने से ये हमारे मुख्य चिंता का विषय बन गया है। पर्यावरण सुरक्षा अधिनियम 1996 के अन्तर्गत ध्वनि प्रदूषण नियंत्रण नियम 2000 को ध्वनि प्रदूषण की बढ़ती हुई समस्या को नियंत्रित करने के लिये शामिल किया है। परिवहन के सभी साधन कम या अधिक मात्रा में ध्वनि उत्पन्न करते हैं। पश्चिमी देशों में ध्वनि-प्रदूषण रोकने के लिए ध्वनि-विहीन वाहन बनाए गए हैं। मनुष्य की श्रवण क्षमता 80 डेसिबल होती है इससे ज्यादा की आवाज मनुष्य बर्दास्त नहीं कर सकता है। 0 से 25 डेसिबल पर शांति तक की आवाज से शान्ति का वातावरण रहता है। ध्वनि प्रदूषण ने इसके स्रोत, प्रभाव और ध्वनि प्रदूषण को रोकने के उपायों के बारे में सामान्य जागरूकता की तत्काल आवश्यकता का निर्माण किया है।

Sub questions

Question Number : 96 Question Id : 97675519902 Question Type : MCQ Option Shuffling : Yes Is Question Mandatory : No Option Orientation : Vertical

Correct Marks : 1 Wrong Marks : 0.25

मनुष्य की श्रवण क्षमता कितनी डेसिबल होती है?

Options :

1. ✖ 24

2. ✓ 80

3. ✖ 0

4. ✖ 70

Question Number : 97 Question Id : 97675519903 Question Type : MCQ Option Shuffling : Yes Is Question Mandatory : No Option Orientation : Vertical

Correct Marks : 1 Wrong Marks : 0.25

किस स्थिति में ध्वनि प्रदूषण की स्थिति उत्पन्न होती है?

Options :

1. ✘ अधिक से सामान्य स्तर पर
2. ✔ सामान्य से अधिक स्तर
3. ✘ सामान्य से सामान्य स्तर
4. ✘ अधिक से अधिक स्तर

Question Number : 98 Question Id : 97675519904 Question Type : MCQ Option Shuffling : Yes Is Question Mandatory : No Option Orientation : Vertical

Correct Marks : 1 Wrong Marks : 0.25

किन देशों ने ध्वनि विहीन वाहन बनाये हैं?

Options :

1. ✘ उत्तरी देशों
2. ✘ दक्षिणी देशों
3. ✘ पूर्वी देशों
4. ✔ पश्चिमी देशों

Question Number : 99 Question Id : 97675519905 Question Type : MCQ Option Shuffling : Yes Is Question Mandatory : No Option Orientation : Vertical

Correct Marks : 1 Wrong Marks : 0.25

भारत में अधिक ध्वनि की स्थिति किसके कारण उत्पन्न हुई है?

Options :

1. ✔ औद्योगिकीकरण
2. ✘ आंदोलन
3. ✘ मनुष्य
4. ✘ पशु-पक्षी

Question Number : 100 Question Id : 97675519906 Question Type : MCQ Option Shuffling : Yes Is Question Mandatory : No Option Orientation : Vertical

Correct Marks : 1 Wrong Marks : 0.25

उपर्युक्त गद्यांश का उपयुक्त शीर्षक क्या होगा?

Options :

1. ✘ तत्काल आवश्यकता
2. ✘ सामान्य जागरुकता
3. ✔ ध्वनि प्रदूषण
4. ✘ आधुनिक सभ्यता

Question Id : 97675519901 Question Type : COMPREHENSION Sub Question Shuffling Allowed : Yes Group Comprehension Questions : No

Question Numbers : (96 to 100)

एक गद्यांश दिया गया है। गद्यांश के आधार पर पाँच प्रश्न दिए गए हैं। गद्यांश को ध्यानपूर्वक पढ़ें तथा प्रत्येक प्रश्न में चार विकल्पों में से सही विकल्प चुने।

ध्वनि प्रदूषण वो औद्योगिक या गैर-औद्योगिक क्रियाएं हैं जो मनुष्य, पौधों और पशुओं के स्वास्थ्य पर बहुत से आयामों से विभिन्न ध्वनि स्रोतों के द्वारा आवाज पैदा करके प्रभावित करती है। ध्वनि प्रदूषण उस स्थिति में उत्पन्न होता है जब पर्यावरण में आवाज का स्तर सामान्य स्तर से बहुत अधिक होता है। ध्वनि का प्रसार औद्योगिक और गैर-औद्योगिक स्रोतों के कारण हुआ है। ध्वनि के औद्योगिक स्रोतों में तेज गति से काम करने वाली उच्च तकनीकी की बड़ी मशीनें और बहुत से उद्योगों में ऊंची आवाज पैदा करने वाली मशीनें शामिल हैं। भारत में बहुत अधिक ध्वनि प्रदूषण शहरीकरण, आधुनिक सभ्यता, औद्योगिकीकरण आदि के द्वारा बढ़ा है। आज शोरगुल के कई स्रोत हो जाने से ये हमारे मुख्य चिंता का विषय बन गया है। पर्यावरण सुरक्षा अधिनियम 1996 के अन्तर्गत ध्वनि प्रदूषण नियंत्रण नियम 2000 को ध्वनि प्रदूषण की बढ़ती हुई समस्या को नियंत्रित करने के लिये शामिल किया है। परिवहन के सभी साधन कम या अधिक मात्रा में ध्वनि उत्पन्न करते हैं। पश्चिमी देशों में ध्वनि-प्रदूषण रोकने के लिए ध्वनि-विहीन वाहन बनाए गए हैं। मनुष्य की श्रवण क्षमता 80 डेसिबल होती है इससे ज्यादा की आवाज मनुष्य बर्दास्त नहीं कर सकता है। 0 से 25 डेसिबल पर शांति तक की आवाज से शान्ति का वातावरण रहता है। ध्वनि प्रदूषण ने इसके स्रोत, प्रभाव और ध्वनि प्रदूषण को रोकने के उपायों के बारे में सामान्य जागरुकता की तत्काल आवश्यकता का निर्माण किया है।

Sub questions

Question Number : 96 Question Id : 97675519902 Question Type : MCQ Option Shuffling : Yes Is Question Mandatory : No Option Orientation : Vertical

Correct Marks : 1 Wrong Marks : 0.25

मनुष्य की श्रवण क्षमता कितनी डेसिबल होती है?

Options :

1. ✘ 24
2. ✔ 80
3. ✘ 0
4. ✘ 70

Question Number : 97 Question Id : 97675519903 Question Type : MCQ Option Shuffling : Yes Is Question Mandatory : No Option

Orientation : Vertical

Correct Marks : 1 Wrong Marks : 0.25

किस स्थिति में ध्वनि प्रदूषण की स्थिति उत्पन्न होती है?

Options :

1. ✘ अधिक से सामान्य स्तर पर
2. ✔ सामान्य से अधिक स्तर
3. ✘ सामान्य से सामान्य स्तर
4. ✘ अधिक से अधिक स्तर

Question Number : 98 Question Id : 97675519904 Question Type : MCQ Option Shuffling : Yes Is Question Mandatory : No Option

Orientation : Vertical

Correct Marks : 1 Wrong Marks : 0.25

किन देशों ने ध्वनि विहीन वाहन बनाये हैं?

Options :

1. ✘ उत्तरी देशों
2. ✘ दक्षिणी देशों
3. ✘ पूर्वी देशों
4. ✔ पश्चिमी देशों

Question Number : 99 Question Id : 97675519905 Question Type : MCQ Option Shuffling : Yes Is Question Mandatory : No Option

Orientation : Vertical

Correct Marks : 1 Wrong Marks : 0.25

भारत में अधिक ध्वनि की स्थिति किसके कारण उत्पन्न हुई है?

Options :

1. ✔ औद्योगिकीकरण
2. ✘ आंदोलन
3. ✘ मनुष्य
4. ✘ पशु-पक्षी

Question Number : 100 Question Id : 97675519906 Question Type : MCQ Option Shuffling : Yes Is Question Mandatory : No Option

Orientation : Vertical

Correct Marks : 1 Wrong Marks : 0.25

उपर्युक्त गद्यांश का उपयुक्त शीर्षक क्या होगा?

Options :

1. ✘ तत्काल आवश्यकता
2. ✘ सामान्य जागरुकता
3. ✔ ध्वनि प्रदूषण
4. ✘ आधुनिक सभ्यता

Discipline1

Group Number :	6
Group Id :	976755665
Group Maximum Duration :	0
Group Minimum Duration :	0
Show Attended Group? :	No
Edit Attended Group? :	No
Break time :	0
Group Marks :	20
Is this Group for Examiner? :	No

Discipline1

Section Id :	9767551095
Section Number :	1
Section type :	Online
Mandatory or Optional :	Mandatory
Number of Questions :	20
Number of Questions to be attempted :	20
Section Marks :	20
Enable Mark as Answered Mark for Review and Clear Response :	Yes
Sub-Section Number :	1
Sub-Section Id :	9767551272
Question Shuffling Allowed :	Yes

Question Number : 101 Question Id : 97675519907 Question Type : MCQ Option Shuffling : Yes Is Question Mandatory : No Option Orientation : Vertical

Correct Marks : 1 Wrong Marks : 0.25

Which invention of James Hargreaves contributed to industrial revolution in the 18th century?

Options :

1. ✘ Electric grid
2. ✘ Flying shuttle
3. ✘ Steam engine
4. ✔ Spinning Jenny

Question Number : 101 Question Id : 97675519907 Question Type : MCQ Option Shuffling : Yes Is Question Mandatory : No Option Orientation : Vertical

Correct Marks : 1 Wrong Marks : 0.25

18वीं शताब्दी में जेम्स हारग्रीव्स के किस आविष्कार ने औद्योगिक क्रांति में योगदान दिया था?

Options :

1. ✘ विद्युत ग्रिड
2. ✘ फ्लाइंग शटल
3. ✘ भाप का इंजन
4. ✔ स्पिनिंग जेनी

Question Number : 102 Question Id : 97675519908 Question Type : MCQ Option Shuffling : Yes Is Question Mandatory : No Option Orientation : Vertical

Correct Marks : 1 Wrong Marks : 0.25

The Kisan Sabha movement started in Bihar under the leadership of _____.

Options :

1. ✘ Dayanand Saraswati
2. ✔ Swami Sahajanand Saraswati
3. ✘ N.G. Ranga
4. ✘ V.D. Sarvarkar

Question Number : 102 Question Id : 97675519908 Question Type : MCQ Option Shuffling : Yes Is Question Mandatory : No Option

Orientation : Vertical

Correct Marks : 1 Wrong Marks : 0.25

बिहार में किसान सभा आंदोलन _____ के नेतृत्व में शुरू हुआ था।

Options :

1. ✘ दयानंद सरस्वती
2. ✔ स्वामी सहजानंद सरस्वती
3. ✘ एन.जी. रंगा
4. ✘ वी.डी. सारवरकर

Question Number : 103 Question Id : 97675519909 Question Type : MCQ Option Shuffling : Yes Is Question Mandatory : No Option

Orientation : Vertical

Correct Marks : 1 Wrong Marks : 0.25

Which of the following statements is correct regarding the Santhal Rebellion of 1855?

- I. It was a rebellion against the British colonial authority and against the zamindars.
- II. It took place at present day Jharkhand and part of West Bengal.

Options :

1. ✘ Only I
2. ✘ Only II
3. ✔ Both I and II
4. ✘ Neither I nor II

Question Number : 103 Question Id : 97675519909 Question Type : MCQ Option Shuffling : Yes Is Question Mandatory : No Option

Orientation : Vertical

Correct Marks : 1 Wrong Marks : 0.25

1855 के संथाल विद्रोह के संदर्भ में निम्नलिखित में से कौन सा कथन सही है?

- I. यह ब्रिटिश उपनिवेशी प्राधिकरण के खिलाफ और जमींदारों के खिलाफ एक विद्रोह था।
- II. यह वर्तमान के झारखंड और पश्चिम बंगाल के हिस्से में घटित हुआ था।

Options :

1. ✘ केवल I
2. ✘ केवल II

3. ✓ I तथा II दोनों
4. ✗ ना ही I ना ही II

Question Number : 104 Question Id : 97675519910 Question Type : MCQ Option Shuffling : Yes Is Question Mandatory : No Option Orientation : Vertical

Correct Marks : 1 Wrong Marks : 0.25

In 1815, Napoleon was defeated at _____.

Options :

1. ✓ Waterloo
2. ✗ Cairo
3. ✗ Bassano del Grappa
4. ✗ Krasnoi

Question Number : 104 Question Id : 97675519910 Question Type : MCQ Option Shuffling : Yes Is Question Mandatory : No Option Orientation : Vertical

Correct Marks : 1 Wrong Marks : 0.25

1815 में, नेपोलियन को _____ में पराजित किया गया था।

Options :

1. ✓ वाटरलू
2. ✗ काहिरा
3. ✗ बासानो डेल ग्रैप्पा
4. ✗ क्रासोई

Question Number : 105 Question Id : 97675519911 Question Type : MCQ Option Shuffling : Yes Is Question Mandatory : No Option Orientation : Vertical

Correct Marks : 1 Wrong Marks : 0.25

Which country declared war on France in 1803?

Options :

1. ✓ Britain
2. ✗ Spain
3. ✗ Switzerland

4. ✖ Austria

Question Number : 105 Question Id : 97675519911 Question Type : MCQ Option Shuffling : Yes Is Question Mandatory : No Option Orientation : Vertical

Correct Marks : 1 Wrong Marks : 0.25

1803 में किस देश ने फ्रांस के खिलाफ युद्ध की घोषणा की थी?

Options :

1. ✔ ब्रिटेन
2. ✖ स्पेन
3. ✖ स्विट्ज़रलैंड
4. ✖ ऑस्ट्रिया

Question Number : 106 Question Id : 97675519912 Question Type : MCQ Option Shuffling : Yes Is Question Mandatory : No Option Orientation : Vertical

Correct Marks : 1 Wrong Marks : 0.25

The king Louis XVI call for Estates general was due to the financial crisis in the _____.

Options :

1. ✔ 1780s
2. ✖ 1790s
3. ✖ 1770s
4. ✖ 1760s

Question Number : 106 Question Id : 97675519912 Question Type : MCQ Option Shuffling : Yes Is Question Mandatory : No Option Orientation : Vertical

Correct Marks : 1 Wrong Marks : 0.25

राजा लुई XVI ने _____ में वित्तीय संकट के कारण सम्पदा जनरल की मांग की।

Options :

1. ✔ 1780 के दशक
2. ✖ 1790 के दशक
3. ✖ 1770 के दशक
4. ✖ 1760 के दशक

Question Number : 107 Question Id : 97675519913 Question Type : MCQ Option Shuffling : Yes Is Question Mandatory : No Option Orientation : Vertical

Correct Marks : 1 Wrong Marks : 0.25

किस वर्ष में, लुई XVI ने ट्रोयेस के शहर में कुलीन सदस्यों को निर्वासित किया था?

Options :

1. ✘ 1781
2. ✘ 1784
3. ✔ 1787
4. ✘ 1789

Question Number : 107 Question Id : 97675519913 Question Type : MCQ Option Shuffling : Yes Is Question Mandatory : No Option Orientation : Vertical

Correct Marks : 1 Wrong Marks : 0.25

In which year, did Louis XVI exile noble members to the town of Troyes?

Options :

1. ✘ 1781
2. ✘ 1784
3. ✔ 1787
4. ✘ 1789

Question Number : 108 Question Id : 97675519914 Question Type : MCQ Option Shuffling : Yes Is Question Mandatory : No Option Orientation : Vertical

Correct Marks : 1 Wrong Marks : 0.25

What among the following were the causes of the French Revolution?

- I. Financial Crisis
- II. Aristocratic Revolution
- III. Emergence of Marie Antoinette

Options :

1. ✘ Only I
2. ✔ I and II
3. ✘ II and III

4. ✖ Only III

Question Number : 108 Question Id : 97675519914 Question Type : MCQ Option Shuffling : Yes Is Question Mandatory : No Option Orientation : Vertical

Correct Marks : 1 Wrong Marks : 0.25

निम्नलिखित में से फ्रांसीसी क्रांति के कारण क्या थे?

- I. वित्तीय संकट
- II. कुलीन क्रांति
- III. मैरी एंटोनेट का उद्भव

Options :

- 1. ✖ केवल I
- 2. ✔ I तथा II
- 3. ✖ II तथा III
- 4. ✖ केवल III

Question Number : 109 Question Id : 97675519915 Question Type : MCQ Option Shuffling : Yes Is Question Mandatory : No Option Orientation : Vertical

Correct Marks : 1 Wrong Marks : 0.25

Who introduced "Doctrine of Lapse"?

Options :

- 1. ✖ Lord Hastings
- 2. ✖ Lord Irwin
- 3. ✖ Lord Clive
- 4. ✔ Lord Dalhousie

Question Number : 109 Question Id : 97675519915 Question Type : MCQ Option Shuffling : Yes Is Question Mandatory : No Option Orientation : Vertical

Correct Marks : 1 Wrong Marks : 0.25

“विलय नीति” किसने पेश की थी?

Options :

- 1. ✖ लॉर्ड हेस्टिंग्स

2. ✘ लॉर्ड इरविन
3. ✘ लॉर्ड क्लाइव
4. ✔ लॉर्ड डलहौजी

Question Number : 110 Question Id : 97675519916 Question Type : MCQ Option Shuffling : Yes Is Question Mandatory : No Option Orientation : Vertical

Correct Marks : 1 Wrong Marks : 0.25

When was Lucknow recaptured by the British?

Options :

1. ✔ March 1858
2. ✘ May 1857
3. ✘ June 1858
4. ✘ July 1857

Question Number : 110 Question Id : 97675519916 Question Type : MCQ Option Shuffling : Yes Is Question Mandatory : No Option Orientation : Vertical

Correct Marks : 1 Wrong Marks : 0.25

अंग्रेजो द्वारा लखनऊ पुनः अधिकार में कब लिया गया था।

Options :

1. ✔ मार्च 1858
2. ✘ मई 1857
3. ✘ जून 1858
4. ✘ जुलाई 1857

Question Number : 111 Question Id : 97675519917 Question Type : MCQ Option Shuffling : Yes Is Question Mandatory : No Option Orientation : Vertical

Correct Marks : 1 Wrong Marks : 0.25

At the time of announcement of partition of Bengal, who was the Viceroy of India?

Options :

1. ✘ Lord Irwin
2. ✔ Lord Curzon

3. ✘ Lord Dufferin
4. ✘ Lord Dalhousie

Question Number : 111 Question Id : 97675519917 Question Type : MCQ Option Shuffling : Yes Is Question Mandatory : No Option Orientation : Vertical

Correct Marks : 1 Wrong Marks : 0.25

बंगाल विभाजन की घोषणा के समय भारत के वायसराय कौन थे ?

Options :

1. ✘ लॉर्ड इरविन
2. ✔ लॉर्ड कर्जन
3. ✘ लॉर्ड डफरिन
4. ✘ लॉर्ड डलहौजी

Question Number : 112 Question Id : 97675519918 Question Type : MCQ Option Shuffling : Yes Is Question Mandatory : No Option Orientation : Vertical

Correct Marks : 1 Wrong Marks : 0.25

The Gandhi-Irwin Pact was signed in _____.

Options :

1. ✘ 1928
2. ✘ 1929
3. ✔ 1931
4. ✘ 1932

Question Number : 112 Question Id : 97675519918 Question Type : MCQ Option Shuffling : Yes Is Question Mandatory : No Option Orientation : Vertical

Correct Marks : 1 Wrong Marks : 0.25

गांधी-इरविन समझौते पर _____ में हस्ताक्षर किए गए थे।

Options :

1. ✘ 1928
2. ✘ 1929
3. ✔ 1931

4. ✖ 1932

Question Number : 113 Question Id : 97675519919 Question Type : MCQ Option Shuffling : Yes Is Question Mandatory : No Option Orientation : Vertical

Correct Marks : 1 Wrong Marks : 0.25

Who was the first female president of the Indian National Congress?

Options :

1. ✖ Sarojini Naidu
2. ✔ Annie Besant
3. ✖ Kasturba Gandhi
4. ✖ Aruna Ali

Question Number : 113 Question Id : 97675519919 Question Type : MCQ Option Shuffling : Yes Is Question Mandatory : No Option Orientation : Vertical

Correct Marks : 1 Wrong Marks : 0.25

भारतीय राष्ट्रीय कांग्रेस की पहली महिला अध्यक्ष कौन थी ?

Options :

1. ✖ सरोजिनी नायडू
2. ✔ एनी बेसेंट
3. ✖ कस्तूरबा गांधी
4. ✖ अरुणा अली

Question Number : 114 Question Id : 97675519920 Question Type : MCQ Option Shuffling : Yes Is Question Mandatory : No Option Orientation : Vertical

Correct Marks : 1 Wrong Marks : 0.25

Where was Bal Gangadhar Tilak imprisoned in 1908 where he served six years of imprisonment?

Options :

1. ✔ Mandalay
2. ✖ Rangoon
3. ✖ Kalapaani
4. ✖ Yerwada

Question Number : 114 Question Id : 97675519920 Question Type : MCQ Option Shuffling : Yes Is Question Mandatory : No Option Orientation : Vertical

Correct Marks : 1 Wrong Marks : 0.25

1908 में बाल गंगाधर तिलक को कहा कैद किया गया था, जहां उन्होंने छह वर्ष की सजा काटी थी?

Options :

1. ✓ मांडले
2. ✗ रंगून
3. ✗ कालापानी
4. ✗ यरवदा

Question Number : 115 Question Id : 97675519921 Question Type : MCQ Option Shuffling : Yes Is Question Mandatory : No Option Orientation : Vertical

Correct Marks : 1 Wrong Marks : 0.25

In which year, did the famous Surat Split of the Indian National Congress happen?

Options :

1. ✓ 1907
2. ✗ 1908
3. ✗ 1909
4. ✗ 1910

Question Number : 115 Question Id : 97675519921 Question Type : MCQ Option Shuffling : Yes Is Question Mandatory : No Option Orientation : Vertical

Correct Marks : 1 Wrong Marks : 0.25

किस वर्ष में भारतीय राष्ट्रीय कांग्रेस का प्रसिद्ध सूरत विभाजन हुआ था?

Options :

1. ✓ 1907
2. ✗ 1908
3. ✗ 1909
4. ✗ 1910

Question Number : 116 Question Id : 97675519922 Question Type : MCQ Option Shuffling : Yes Is Question Mandatory : No Option Orientation : Vertical

Correct Marks : 1 Wrong Marks : 0.25

Who was the founder of the Bolshevik party?

Options :

1. ✘ Lev Kamenev
2. ✘ Mikhail Olminsky
3. ✘ Anatoly Lunacharsky
4. ✔ Vladimir Lenin

Question Number : 116 Question Id : 97675519922 Question Type : MCQ Option Shuffling : Yes Is Question Mandatory : No Option Orientation : Vertical

Correct Marks : 1 Wrong Marks : 0.25

बोल्शेविक पार्टी के संस्थापक कौन थे?

Options :

1. ✘ लेव कामेनेव
2. ✘ मिखैल ओल्मिन्स्की
3. ✘ एनाटोली लुनाचास्की
4. ✔ व्लादमीर लेनिन

Question Number : 117 Question Id : 97675519923 Question Type : MCQ Option Shuffling : Yes Is Question Mandatory : No Option Orientation : Vertical

Correct Marks : 1 Wrong Marks : 0.25

During the Russian revolution, a Council of Workers' Deputies also named as _____.

Options :

1. ✔ Soviet
2. ✘ Duma
3. ✘ Zemstvos
4. ✘ Boyar

Question Number : 117 Question Id : 97675519923 Question Type : MCQ Option Shuffling : Yes Is Question Mandatory : No Option Orientation : Vertical

Correct Marks : 1 Wrong Marks : 0.25

रूसी क्रांति के दौरान, मजदूरों के प्रतिनिधियों की एक परिषद को _____ के रूप में भी नामित किया गया था।

Options :

1. ✓ सोवियत
2. ✗ ड्यूमा
3. ✗ ज़ेम्स्टवोस
4. ✗ बोयार

Question Number : 118 Question Id : 97675519924 Question Type : MCQ Option Shuffling : Yes Is Question Mandatory : No Option Orientation : Vertical

Correct Marks : 1 Wrong Marks : 0.25

The _____ revolution in Russia became a "dress rehearsal" for the 1917 Revolution.

Options :

1. ✗ 1912
2. ✓ 1905
3. ✗ 1910
4. ✗ 1907

Question Number : 118 Question Id : 97675519924 Question Type : MCQ Option Shuffling : Yes Is Question Mandatory : No Option Orientation : Vertical

Correct Marks : 1 Wrong Marks : 0.25

रूस में _____ की क्रांति, 1917 की क्रांति के लिए "ड्रेस रिहर्सल" बन गई।

Options :

1. ✗ 1912
2. ✓ 1905
3. ✗ 1910
4. ✗ 1907

Question Number : 119 Question Id : 97675519925 Question Type : MCQ Option Shuffling : Yes Is Question Mandatory : No Option Orientation : Vertical

Correct Marks : 1 Wrong Marks : 0.25

After 1905, revolution in Russia till when the time of great repression continued when many revolutionaries were arrested and workers

organization destroyed?

Options :

1. ✓ 1911
2. ✗ 1912
3. ✗ 1908
4. ✗ 1913

Question Number : 119 Question Id : 97675519925 Question Type : MCQ Option Shuffling : Yes Is Question Mandatory : No Option Orientation : Vertical

Correct Marks : 1 Wrong Marks : 0.25

रूस में 1905 की क्रांति के बाद, व्यापक दमन कब तक चलता रहा जब कई क्रांतिकारियों को गिरफ्तार कर लिया गया तथा मजदूरों की संख्या को तोड़ दिया गया?

Options :

1. ✓ 1911
2. ✗ 1912
3. ✗ 1908
4. ✗ 1913

Question Number : 120 Question Id : 97675519926 Question Type : MCQ Option Shuffling : Yes Is Question Mandatory : No Option Orientation : Vertical

Correct Marks : 1 Wrong Marks : 0.25

The book 'The Development of Capitalism in Russia' is written by _____.

Options :

1. ✗ Yuri Samarin
2. ✗ Fyodor Tyutchev
3. ✓ Vladimir Lenin
4. ✗ Aleksey Khomyakov

Question Number : 120 Question Id : 97675519926 Question Type : MCQ Option Shuffling : Yes Is Question Mandatory : No Option Orientation : Vertical

Correct Marks : 1 Wrong Marks : 0.25

पुस्तक 'द डेवलपमेंट ऑफ कैपिटलिज्म इन रशिया' _____ द्वारा लिखी गई है।

Options :

1. ✘ यूरी समरीन
2. ✘ फ्योदोर टयुटचेव
3. ✔ व्लादमीर लेनिन
4. ✘ अलेक्सी खोम्याकोव

Discipline2

Group Number :	7
Group Id :	976755666
Group Maximum Duration :	0
Group Minimum Duration :	0
Show Attended Group? :	No
Edit Attended Group? :	No
Break time :	0
Group Marks :	20
Is this Group for Examiner? :	No

Discipline2

Section Id :	9767551096
Section Number :	1
Section type :	Online
Mandatory or Optional :	Mandatory
Number of Questions :	20
Number of Questions to be attempted :	20
Section Marks :	20
Enable Mark as Answered Mark for Review and Clear Response :	Yes
Sub-Section Number :	1
Sub-Section Id :	9767551273
Question Shuffling Allowed :	Yes

Question Number : 121 Question Id : 97675519927 Question Type : MCQ Option Shuffling : Yes Is Question Mandatory : No Option Orientation : Vertical

Correct Marks : 1 Wrong Marks : 0.25

Five Year Plans (FYPs) is a centralized plan of which society?

Options :

1. ✓ Socialistic
2. ✗ Capitalistic
3. ✗ Mutualistic
4. ✗ Fascist

Question Number : 121 Question Id : 97675519927 Question Type : MCQ Option Shuffling : Yes Is Question Mandatory : No Option Orientation : Vertical

Correct Marks : 1 Wrong Marks : 0.25

पंचवर्षीय योजनाएँ (FYPs) किस समाज की केंद्रीकृत योजना है?

Options :

1. ✓ समाजवादी
2. ✗ पूंजीवादी
3. ✗ सहोपकारीवादी
4. ✗ फासीवादी

Question Number : 122 Question Id : 97675519928 Question Type : MCQ Option Shuffling : Yes Is Question Mandatory : No Option Orientation : Vertical

Correct Marks : 1 Wrong Marks : 0.25

_____ was the first successful revolution by the working class.

Options :

1. ✗ Compatriots revolution
2. ✗ Ionian revolution
3. ✓ Russian revolution
4. ✗ Nubian Revolution

Question Number : 122 Question Id : 97675519928 Question Type : MCQ Option Shuffling : Yes Is Question Mandatory : No Option Orientation : Vertical

Correct Marks : 1 Wrong Marks : 0.25

_____ मजदूर वर्ग द्वारा पहली सफल क्रांति थी।

Options :

1. ✘ समदेशी क्रांति
2. ✘ आयोनियन क्रांति
3. ✔ रूसी क्रांति
4. ✘ न्युबियन क्रांति

Question Number : 123 Question Id : 97675519929 Question Type : MCQ Option Shuffling : Yes Is Question Mandatory : No Option Orientation : Vertical

Correct Marks : 1 Wrong Marks : 0.25

Who believed that if the social environment could be reconstructed, then human nature could be transformed?

Options :

1. ✔ Robert Owen
2. ✘ Saint - Simon
3. ✘ Charles Fourier
4. ✘ Proudhon

Question Number : 123 Question Id : 97675519929 Question Type : MCQ Option Shuffling : Yes Is Question Mandatory : No Option Orientation : Vertical

Correct Marks : 1 Wrong Marks : 0.25

यह किसका विश्वास था कि यदि सामाजिक वातावरण का पुनर्निर्माण किया जा सकता है, तो मानव स्वभाव को बदला जा सकता है?

Options :

1. ✔ रॉबर्ट ओवेन
2. ✘ संत – साइमन
3. ✘ चार्ल्स फूरियर
4. ✘ प्रूधों

Question Number : 124 Question Id : 97675519930 Question Type : MCQ Option Shuffling : Yes Is Question Mandatory : No Option Orientation : Vertical

Correct Marks : 1 Wrong Marks : 0.25

Name the party that called for the establishment of a "dictatorship of the proletariat" in Italy.

Options :

1. ✓ Italian Socialist Party
2. ✗ Italian Democratic Party
3. ✗ Italian Republican Party
4. ✗ Italian Liberal Party

Question Number : 124 Question Id : 97675519930 Question Type : MCQ Option Shuffling : Yes Is Question Mandatory : No Option Orientation : Vertical

Correct Marks : 1 Wrong Marks : 0.25

उस पार्टी का नाम बताइए जिसने इटली में "सर्वहारा वर्ग की तानाशाही" की स्थापना का आह्वान किया था।

Options :

1. ✓ इतालवी समाजवादी पार्टी
2. ✗ इतालवी लोकतांत्रिक पार्टी
3. ✗ इतालवी गणतंत्रवादी पार्टी
4. ✗ इतालवी लिबरल पार्टी

Question Number : 125 Question Id : 97675519931 Question Type : MCQ Option Shuffling : Yes Is Question Mandatory : No Option Orientation : Vertical

Correct Marks : 1 Wrong Marks : 0.25

What are the causes for the Rise of Fascism in Italy?

- I. Italians were disappointed by the Treaty of Versailles.
- II. The socio-economic conditions of Italy after the First World War.
- III. Fascists were influenced by the spreading ideology of Socialism and Communism.

Options :

1. ✓ I and II
2. ✗ II and III
3. ✗ I and III
4. ✗ I, II and III

Question Number : 125 Question Id : 97675519931 Question Type : MCQ Option Shuffling : Yes Is Question Mandatory : No Option

Orientation : Vertical

Correct Marks : 1 Wrong Marks : 0.25

इटली में फासीवाद के उदय के कारण क्या हैं?

- I. वर्साय की संधि से इतालवी निराश थे।
- II. प्रथम विश्व युद्ध के बाद इटली की सामाजिक-आर्थिक स्थिति।
- III. फासीवादी समाजवाद और साम्यवाद की फैलती विचारधारा से प्रभावित थे।

Options :

1. ✓ I तथा II
2. ✗ II तथा III
3. ✗ I तथा III
4. ✗ I, II तथा III

Question Number : 126 Question Id : 97675519932 Question Type : MCQ Option Shuffling : Yes Is Question Mandatory : No Option

Orientation : Vertical

Correct Marks : 1 Wrong Marks : 0.25

Name the organization that killed Archduke Francis Ferdinand.

Options :

1. ✗ Straight Hand
2. ✓ Black Hand
3. ✗ White Hand
4. ✗ Upper Hand

Question Number : 126 Question Id : 97675519932 Question Type : MCQ Option Shuffling : Yes Is Question Mandatory : No Option

Orientation : Vertical

Correct Marks : 1 Wrong Marks : 0.25

उस संगठन का नाम बताइए जिसने आर्कड्यूक फ्रांसिस फर्डिनेंड की हत्या की थी।

Options :

1. ✗ स्ट्रेट हैंड
2. ✓ ब्लैक हैंड
3. ✗ व्हाइट हैंड
4. ✗ अप्पर हैंड

Question Number : 127 Question Id : 97675519933 Question Type : MCQ Option Shuffling : Yes Is Question Mandatory : No Option Orientation : Vertical

Correct Marks : 1 Wrong Marks : 0.25

Which of the following is the long term cause of French revolution?

- I. Increasing prevalence of language of enlightenment.
- II. Financial crises.
- III. Apposition from oldest noble families.

Options :

- 1. ✘ I and II
- 2. ✘ II and III
- 3. ✔ I and III
- 4. ✘ Only I

Question Number : 127 Question Id : 97675519933 Question Type : MCQ Option Shuffling : Yes Is Question Mandatory : No Option Orientation : Vertical

Correct Marks : 1 Wrong Marks : 0.25

निम्नलिखित में से कौन सा फ्रांसीसी क्रांति का दीर्घ-कालिक कारण है?

- I. ज्ञान की भाषा का बढ़ता प्रचलन।
- II. वित्तीय संकट।
- III. सबसे पुराने महान परिवारों की तरफ से विरोध।

Options :

- 1. ✘ I तथा II
- 2. ✘ II तथा III
- 3. ✔ I तथा III
- 4. ✘ केवल I

Question Number : 128 Question Id : 97675519934 Question Type : MCQ Option Shuffling : Yes Is Question Mandatory : No Option Orientation : Vertical

Correct Marks : 1 Wrong Marks : 0.25

In 1893, which countries formed an entente to counter the Triple Alliance?

Options :

1. ✓ France-Russia
2. ✗ Spain- Hungary
3. ✗ Portugal- Ireland
4. ✗ Austria- Belgium

Question Number : 128 Question Id : 97675519934 Question Type : MCQ Option Shuffling : Yes Is Question Mandatory : No Option Orientation : Vertical

Correct Marks : 1 Wrong Marks : 0.25

1893 में, किने देशों ने ट्रिपल एलायंस का विरोध करने के लिए एक समझौता गठित किया था?

Options :

1. ✓ फ्रांस -रूस
2. ✗ स्पेन - हंगरी
3. ✗ पुर्तगाल - आयरलैंड
4. ✗ ऑस्ट्रिया - बेल्जियम

Question Number : 129 Question Id : 97675519935 Question Type : MCQ Option Shuffling : Yes Is Question Mandatory : No Option Orientation : Vertical

Correct Marks : 1 Wrong Marks : 0.25

Many treaties were signed during the World War I. Which of the following is correctly matched?

- I. St. Germain Treaty-Austria
- II. Versailles treaty- Germany
- III. Neuilly Treaty- Hungary
- IV. Trianon Treaty- Turkey

Options :

1. ✓ I and II
2. ✗ I and III
3. ✗ I, II and III
4. ✗ I, III and IV

Question Number : 129 Question Id : 97675519935 Question Type : MCQ Option Shuffling : Yes Is Question Mandatory : No Option Orientation : Vertical

Correct Marks : 1 Wrong Marks : 0.25

विश्व युद्ध के दौरान कई संधियों पर हस्ताक्षर किए गए थे। निम्नलिखित में से कौन सा सही ढंग से सुमेलित है?

- I. सेंट जर्मेन संधि- ऑस्ट्रिया
- II. वर्साय संधि – जर्मनी
- III. न्यूली संधि- हंगरी
- IV. त्रियांन संधि- तुर्की

Options :

- 1. ✓ I तथा II
- 2. ✗ I तथा III
- 3. ✗ I, II तथा III
- 4. ✗ I, III तथा IV

Question Number : 130 Question Id : 97675519936 Question Type : MCQ Option Shuffling : Yes Is Question Mandatory : No Option Orientation : Vertical

Correct Marks : 1 Wrong Marks : 0.25

In 1992, more than 100 heads of state met in Rio de Janeiro, Brazil for the first international Earth Summit. This summit was also called _____.

Options :

- 1. ✓ United Nations Conference on Environment and Development
- 2. ✗ World Wide Fund For Nature
- 3. ✗ United Nations World Tourism Organisation
- 4. ✗ United Nations High Commission for Refugees

Question Number : 130 Question Id : 97675519936 Question Type : MCQ Option Shuffling : Yes Is Question Mandatory : No Option Orientation : Vertical

Correct Marks : 1 Wrong Marks : 0.25

1992 में, पहले अंतर्राष्ट्रीय पृथ्वी शिखर सम्मेलन के लिए ब्राजील के रियो डी जनेरियो में 100 से अधिक राष्ट्राध्यक्ष मिले। इस शिखर सम्मेलन को _____ भी कहा जाता था।

Options :

- 1. ✓ संयुक्त राष्ट्र पर्यावरण एवं विकास सम्मेलन
- 2. ✗ प्रकृति के लिए विश्वव्यापी निधि
- 3. ✗ संयुक्त राष्ट्र विश्व पर्यटन संगठन

4. ✖ संयुक्त राष्ट्र शरणार्थियों के लिए उच्चायुक्त

Question Number : 131 Question Id : 97675519937 Question Type : MCQ Option Shuffling : Yes Is Question Mandatory : No Option Orientation : Vertical

Correct Marks : 1 Wrong Marks : 0.25

A mechanical stability between the upstanding parts and low lying basins on a rotating earth is called _____.

Options :

1. ✖ Isonyet
2. ✖ Isobar
3. ✓ Isostasy
4. ✖ Isohaline

Question Number : 131 Question Id : 97675519937 Question Type : MCQ Option Shuffling : Yes Is Question Mandatory : No Option Orientation : Vertical

Correct Marks : 1 Wrong Marks : 0.25

एक घूर्णन पृथ्वी पर ऊपर वाले हिस्से और निचली स्थित घाटियों के बीच एक यांत्रिक स्थिरता को _____ कहा जाता है।

Options :

1. ✖ आईसोनयेत
2. ✖ आईसोबार
3. ✓ आईसोस्टेसी
4. ✖ आईसोहलाइन

Question Number : 132 Question Id : 97675519938 Question Type : MCQ Option Shuffling : Yes Is Question Mandatory : No Option Orientation : Vertical

Correct Marks : 1 Wrong Marks : 0.25

Which of the following is the correct example of intrusive igneous rock?

Options :

1. ✖ Obsidian
2. ✖ Andesite
3. ✓ Granite
4. ✖ Basalt

Question Number : 132 Question Id : 97675519938 Question Type : MCQ Option Shuffling : Yes Is Question Mandatory : No Option Orientation : Vertical

Correct Marks : 1 Wrong Marks : 0.25

निम्नलिखित में से कौन सा अंतर्वेधी आग्नेय चट्टान का सही उदाहरण है?

Options :

1. ✘ ओब्सीडियन
2. ✘ एन्डेसाइट
3. ✔ ग्रेनाइट
4. ✘ बेसाल्ट

Question Number : 133 Question Id : 97675519939 Question Type : MCQ Option Shuffling : Yes Is Question Mandatory : No Option Orientation : Vertical

Correct Marks : 1 Wrong Marks : 0.25

The whole earth experiences equal days and equal nights on _____.

Options :

1. ✘ 21st June
2. ✘ 22nd December
3. ✔ 21st March
4. ✘ 20th January

Question Number : 133 Question Id : 97675519939 Question Type : MCQ Option Shuffling : Yes Is Question Mandatory : No Option Orientation : Vertical

Correct Marks : 1 Wrong Marks : 0.25

पूरी पृथ्वी _____ को समान दिनों और समान रातों का अनुभव करती है।

Options :

1. ✘ 21 जून
2. ✘ 22 दिसम्बर
3. ✔ 21 मार्च
4. ✘ 20 जनवरी

Question Number : 134 Question Id : 97675519940 Question Type : MCQ Option Shuffling : Yes Is Question Mandatory : No Option Orientation : Vertical

Correct Marks : 1 Wrong Marks : 0.25

Which of the following scientists is associated with the 'supernova hypothesis' related to the origin of the earth?

Options :

1. ✘ H.N. Russell
2. ✔ F. Hoyle
3. ✘ Bernhardus Varenius
4. ✘ B. Levin

Question Number : 134 Question Id : 97675519940 Question Type : MCQ Option Shuffling : Yes Is Question Mandatory : No Option Orientation : Vertical

Correct Marks : 1 Wrong Marks : 0.25

निम्नलिखित में से कौन सा वैज्ञानिक पृथ्वी की उत्पत्ति से संबंधित 'सुपरनोवा परिकल्पना' से संबंधित है?

Options :

1. ✘ एच.एन. रसेल
2. ✔ एफ. हॉयल
3. ✘ बर्नहार्डस वारेनियस
4. ✘ बी. लेविन

Question Number : 135 Question Id : 97675519941 Question Type : MCQ Option Shuffling : Yes Is Question Mandatory : No Option Orientation : Vertical

Correct Marks : 1 Wrong Marks : 0.25

Which of the following statements is correct regarding the constructive plate margins?

- I. These plate margins are also called divergent plate margins.
- II. New oceanic crust is continuously formed.

Options :

1. ✘ Only I
2. ✘ Only II
3. ✔ Both I and II
4. ✘ Neither I nor II

Question Number : 135 Question Id : 97675519941 Question Type : MCQ Option Shuffling : Yes Is Question Mandatory : No Option Orientation : Vertical

Correct Marks : 1 Wrong Marks : 0.25

रचनात्मक प्लेट मार्जिन के संदर्भ में निम्नलिखित में से कौन सा कथन सही है?

- I. इन प्लेट मार्जिन को अपसारी प्लेट मार्जिन भी कहा जाता है।
- II. नयी समुद्री भूपर्पटी लगातार बनती हैं।

Options :

1. ✘ केवल I
2. ✘ केवल II
3. ✔ I तथा II दोनों
4. ✘ ना ही I ना ही II

Question Number : 136 Question Id : 97675519942 Question Type : MCQ Option Shuffling : Yes Is Question Mandatory : No Option Orientation : Vertical

Correct Marks : 1 Wrong Marks : 0.25

Which of the following is characterized as a cold wind?

Options :

1. ✘ Harmattan
2. ✘ Sirocco
3. ✔ Mistral
4. ✘ Zonda

Question Number : 136 Question Id : 97675519942 Question Type : MCQ Option Shuffling : Yes Is Question Mandatory : No Option Orientation : Vertical

Correct Marks : 1 Wrong Marks : 0.25

निम्नलिखित में से किसे ठंडी हवा के रूप में अभिलक्षित किया जाता है?

Options :

1. ✘ हरमट्टन
2. ✘ सिरोक्को
3. ✔ मिस्ट्राल

4. ✖ ज़ोंडा

Question Number : 137 Question Id : 97675519943 Question Type : MCQ Option Shuffling : Yes Is Question Mandatory : No Option Orientation : Vertical

Correct Marks : 1 Wrong Marks : 0.25

Fogs formed due to transport of cold air over a warm surface are _____.

Options :

1. ✖ Ground fogs
2. ✔ Steam fogs
3. ✖ Tropical fogs
4. ✖ Sea fogs

Question Number : 137 Question Id : 97675519943 Question Type : MCQ Option Shuffling : Yes Is Question Mandatory : No Option Orientation : Vertical

Correct Marks : 1 Wrong Marks : 0.25

गर्म सतह पर ठंडी हवा के परिवहन के कारण बनने वाले कोहरा _____ होता है।

Options :

1. ✖ धरातलीय कोहरा
2. ✔ भाप कोहरा
3. ✖ उष्णकटिबंधीय कोहरा
4. ✖ समुद्री कोहरा

Question Number : 138 Question Id : 97675519944 Question Type : MCQ Option Shuffling : Yes Is Question Mandatory : No Option Orientation : Vertical

Correct Marks : 1 Wrong Marks : 0.25

Which type of climate is characterized by general absence of insolation and very low temperature throughout the year?

Options :

1. ✖ Savanna climate
2. ✖ Mediterranean climate
3. ✖ Monsoon climate
4. ✔ Tundra climate

Question Number : 138 Question Id : 97675519944 Question Type : MCQ Option Shuffling : Yes Is Question Mandatory : No Option Orientation : Vertical

Correct Marks : 1 Wrong Marks : 0.25

किस प्रकार की जलवायु को वर्ष भर सूर्यातप और बहुत कम तापमान की सामान्य अनुपस्थिति द्वारा अभिलक्षित किया जाता है?

Options :

1. ✘ सवाना जलवायु
2. ✘ भूमध्यसागरीय जलवायु
3. ✘ मानसून जलवायु
4. ✔ टुंड्रा जलवायु

Question Number : 139 Question Id : 97675519945 Question Type : MCQ Option Shuffling : Yes Is Question Mandatory : No Option Orientation : Vertical

Correct Marks : 1 Wrong Marks : 0.25

Which of the following techniques is used to represent relief on topographical maps?

- I. Hachures
- II. Hill shading

Options :

1. ✘ Only I
2. ✘ Only II
3. ✔ Both I and II
4. ✘ Neither I nor II

Question Number : 139 Question Id : 97675519945 Question Type : MCQ Option Shuffling : Yes Is Question Mandatory : No Option Orientation : Vertical

Correct Marks : 1 Wrong Marks : 0.25

स्थलाकृतिक मानचित्रों पर उच्चावच का प्रतिनिधित्व करने के लिए निम्नलिखित में से किस तकनीक का उपयोग किया जाता है?

- I. हचूर
- II. पहाड़ी छायाकरण

Options :

1. ✘ केवल I

2. ✘ केवल II
3. ✔ I तथा II दोनों
4. ✘ ना ही I ना ही II

Question Number : 140 Question Id : 97675519946 Question Type : MCQ Option Shuffling : Yes Is Question Mandatory : No Option Orientation : Vertical

Correct Marks : 1 Wrong Marks : 0.25

When the earth is nearest to the sun, then the northern hemisphere will receive _____.

- I. low amount of insolation
- II. summer season

Options :

1. ✔ Only I
2. ✘ Only II
3. ✘ Both I and II
4. ✘ Neither I nor II

Question Number : 140 Question Id : 97675519946 Question Type : MCQ Option Shuffling : Yes Is Question Mandatory : No Option Orientation : Vertical

Correct Marks : 1 Wrong Marks : 0.25

जब पृथ्वी सूर्य के सबसे निकट होगी, तो उत्तरी गोलार्द्ध _____ प्राप्त करेगा।

- I. कम मात्रा में सूर्यातप
- II. गर्मी का मौसम

Options :

1. ✔ केवल I
2. ✘ केवल II
3. ✘ I तथा II दोनों
4. ✘ ना ही I ना ही II

Group Number :	8
Group Id :	976755667
Group Maximum Duration :	0
Group Minimum Duration :	0
Show Attended Group? :	No
Edit Attended Group? :	No
Break time :	0
Group Marks :	20
Is this Group for Examiner? :	No

Discipline3

Section Id :	9767551097
Section Number :	1
Section type :	Online
Mandatory or Optional :	Mandatory
Number of Questions :	20
Number of Questions to be attempted :	20
Section Marks :	20
Enable Mark as Answered Mark for Review and Clear Response :	Yes
Sub-Section Number :	1
Sub-Section Id :	9767551274
Question Shuffling Allowed :	Yes

Question Number : 141 Question Id : 97675519947 Question Type : MCQ Option Shuffling : Yes Is Question Mandatory : No Option Orientation : Vertical

Correct Marks : 1 Wrong Marks : 0.25

North East to South West diagonally oriented climograph represents _____ type of climate.

Options :

1. ✘ Dry
2. ✔ Monsoon
3. ✘ Mediterranean
4. ✘ British

Question Number : 141 Question Id : 97675519947 Question Type : MCQ Option Shuffling : Yes Is Question Mandatory : No Option Orientation : Vertical

Correct Marks : 1 Wrong Marks : 0.25

उत्तर पूर्व से दक्षिण पश्चिम तिरछे उन्मुख क्लाइमोग्राफ _____ प्रकार की जलवायु का प्रतिनिधित्व करता है।

Options :

1. ✖ शुष्क
2. ✔ मानसून
3. ✖ भूमध्यसागरीय
4. ✖ ब्रिटिश

Question Number : 142 Question Id : 97675519948 Question Type : MCQ Option Shuffling : Yes Is Question Mandatory : No Option Orientation : Vertical

Correct Marks : 1 Wrong Marks : 0.25

Which of the following is an anthropogenic cause of biodiversity loss?

- I. Fragmentation of habitats of species of plants and animals due to deforestation and construction work.
- II. Intentional or unintentional introduction of exotic species in an entirely different ecosystem.

Options :

1. ✖ Only I
2. ✖ Only II
3. ✔ Both I and II
4. ✖ Neither I nor II

Question Number : 142 Question Id : 97675519948 Question Type : MCQ Option Shuffling : Yes Is Question Mandatory : No Option Orientation : Vertical

Correct Marks : 1 Wrong Marks : 0.25

निम्नलिखित में से कौन सा एक जैव विविधता हानि का मानवजनित कारण है?

- I. वनों की कटाई और निर्माण कार्य के कारण पौधों और जानवरों की प्रजातियों के आवासों का विखंडन।
- II. पूरी तरह से अलग पारिस्थितिकी तंत्र में विदेशज प्रजातियों का साभिप्राय या अज्ञानकृत परिचय।

Options :

1. ✘ केवल I
2. ✘ केवल II
3. ✔ I तथा II दोनों
4. ✘ ना ही I ना ही II

Question Number : 143 Question Id : 97675519949 Question Type : MCQ Option Shuffling : Yes Is Question Mandatory : No Option Orientation : Vertical

Correct Marks : 1 Wrong Marks : 0.25

Which of the following combination of salts is correctly sequenced in the descending order of their percentage in the sea water?

Options :

1. ✘ Calcium sulphate, Sodium chloride, Magnesium chloride
2. ✘ Calcium carbonate, Potassium Sulphate, Sodium chloride
3. ✘ Sodium chloride, Magnesium bromide, Magnesium chloride
4. ✔ Sodium chloride, Magnesium chloride, Calcium carbonate

Question Number : 143 Question Id : 97675519949 Question Type : MCQ Option Shuffling : Yes Is Question Mandatory : No Option Orientation : Vertical

Correct Marks : 1 Wrong Marks : 0.25

निम्नलिखित में से लवणों का कौन सा संयोजन समुद्र के पानी में उनके प्रतिशत के अवरोही क्रम में सही ढंग से अनुक्रमित है?

Options :

1. ✘ कैल्शियम सल्फेट, सोडियम क्लोराइड, मैग्नीशियम क्लोराइड
2. ✘ कैल्शियम कार्बोनेट, पोटेशियम सल्फेट, सोडियम क्लोराइड
3. ✘ सोडियम क्लोराइड, मैग्नीशियम ब्रोमाइड, मैग्नीशियम क्लोराइड
4. ✔ सोडियम क्लोराइड, मैग्नीशियम क्लोराइड, कैल्शियम कार्बोनेट

Question Number : 144 Question Id : 97675519950 Question Type : MCQ Option Shuffling : Yes Is Question Mandatory : No Option Orientation : Vertical

Correct Marks : 1 Wrong Marks : 0.25

The Deccan trap started to form in which of the following periods?

Options :

1. ✘ Silurian period

2. ✘ Cambrian period
3. ✘ Carboniferous period
4. ✔ Cretaceous period

Question Number : 144 Question Id : 97675519950 Question Type : MCQ Option Shuffling : Yes Is Question Mandatory : No Option Orientation : Vertical

Correct Marks : 1 Wrong Marks : 0.25

डेक्कन ट्रैप निम्नलिखित में से किस कालखंड में बनना शुरू हुआ था?

Options :

1. ✘ सिलुरियन काल
2. ✘ कैम्ब्रियन काल
3. ✘ कार्बोनिफेरस काल
4. ✔ क्रीटेशस काल

Question Number : 145 Question Id : 97675519951 Question Type : MCQ Option Shuffling : Yes Is Question Mandatory : No Option Orientation : Vertical

Correct Marks : 1 Wrong Marks : 0.25

The river Alaknanda originates from which glacier?

Options :

1. ✔ Satopanth glacier
2. ✘ Siachen glacier
3. ✘ Gangotri glacier
4. ✘ Pindari glacier

Question Number : 145 Question Id : 97675519951 Question Type : MCQ Option Shuffling : Yes Is Question Mandatory : No Option Orientation : Vertical

Correct Marks : 1 Wrong Marks : 0.25

अलकनंदा नदी किस ग्लेशियर से निकलती है?

Options :

1. ✔ सतोपंथ ग्लेशियर
2. ✘ सियाचिन ग्लेशियर

3. ✘ गंगोत्री ग्लेशियर
4. ✘ पिंडारी ग्लेशियर

Question Number : 146 Question Id : 97675519952 Question Type : MCQ Option Shuffling : Yes Is Question Mandatory : No Option Orientation : Vertical

Correct Marks : 1 Wrong Marks : 0.25

Which horizon in the soil profile is called the topsoil?

Options :

1. ✘ E-horizon
2. ✘ B-horizon
3. ✔ A-horizon
4. ✘ C-horizon

Question Number : 146 Question Id : 97675519952 Question Type : MCQ Option Shuffling : Yes Is Question Mandatory : No Option Orientation : Vertical

Correct Marks : 1 Wrong Marks : 0.25

मिट्टी परिच्छेदिका में किस संस्तर स्थिति को शीर्षमिट्टी कहा जाता है?

Options :

1. ✘ E-संस्तर स्थिति
2. ✘ B-संस्तर स्थिति
3. ✔ A-संस्तर स्थिति
4. ✘ C-संस्तर स्थिति

Question Number : 147 Question Id : 97675519953 Question Type : MCQ Option Shuffling : Yes Is Question Mandatory : No Option Orientation : Vertical

Correct Marks : 1 Wrong Marks : 0.25

Which Indian forest has the lowest forest area in the country?

Options :

1. ✘ Tropical thorny forest
2. ✔ Mangrove forest
3. ✘ Tropical evergreen forest

4. ✘ Alpine and sub-alpine forest

Question Number : 147 Question Id : 97675519953 Question Type : MCQ Option Shuffling : Yes Is Question Mandatory : No Option Orientation : Vertical

Correct Marks : 1 Wrong Marks : 0.25

देश में किस भारतीय वन का सबसे कम वन क्षेत्र है?

Options :

1. ✘ उष्णकटिबंधीय कंटकी वन
2. ✔ मैनग्रोव वन
3. ✘ उष्णकटिबंधीय सदाबहार वन
4. ✘ अल्पाइन और उप-अल्पाइन वन

Question Number : 148 Question Id : 97675519954 Question Type : MCQ Option Shuffling : Yes Is Question Mandatory : No Option Orientation : Vertical

Correct Marks : 1 Wrong Marks : 0.25

In which of the following states/union territory of India, Karewa soil is found?

Options :

1. ✘ West Bengal
2. ✘ Jharkhand
3. ✘ Tamil Nadu
4. ✔ Jammu and Kashmir

Question Number : 148 Question Id : 97675519954 Question Type : MCQ Option Shuffling : Yes Is Question Mandatory : No Option Orientation : Vertical

Correct Marks : 1 Wrong Marks : 0.25

भारत में निम्नलिखित में से किस राज्य/केंद्रशासित प्रदेश में, करेवा मिट्टी पायी जाती है?

Options :

1. ✘ पश्चिम बंगाल
2. ✘ झारखंड
3. ✘ तमिलनाडु
4. ✔ जम्मू और कश्मीर

Question Number : 149 Question Id : 97675519955 Question Type : MCQ Option Shuffling : Yes Is Question Mandatory : No Option Orientation : Vertical

Correct Marks : 1 Wrong Marks : 0.25

Which of the following statements is correct regarding the Greater Himalayas?

- I. They receive less rainfall as compared to the Lesser Himalaya and the Shiwaliks.
- II. Dhaulagiri mountain range lies in this region.
- III. It lies in the south of the Lesser Himalayas.

Options :

- 1. ✘ Only I
- 2. ✔ I and II
- 3. ✘ Only III
- 4. ✘ I, II and III

Question Number : 149 Question Id : 97675519955 Question Type : MCQ Option Shuffling : Yes Is Question Mandatory : No Option Orientation : Vertical

Correct Marks : 1 Wrong Marks : 0.25

ग्रेटर हिमालय के संदर्भ में निम्नलिखित में से कौन सा कथन सही है?

- I. वे लघु हिमालय और शिवालिक की तुलना में कम वर्षा प्राप्त करते हैं।
- II. धौलागिरी पर्वत श्रृंखला इसी क्षेत्र में स्थित है।
- III. यह लघु हिमालय के दक्षिण में स्थित है।

Options :

- 1. ✘ केवल I
- 2. ✔ I तथा II
- 3. ✘ केवल III
- 4. ✘ I, II तथा III

Question Number : 150 Question Id : 97675519956 Question Type : MCQ Option Shuffling : Yes Is Question Mandatory : No Option Orientation : Vertical

Correct Marks : 1 Wrong Marks : 0.25

Which of the following is an economic attribute of population composition?

Options :

1. ✘ Literacy
2. ✘ Sex ratio
3. ✘ Ageing
4. ✔ Occupational structure

Question Number : 150 Question Id : 97675519956 Question Type : MCQ Option Shuffling : Yes Is Question Mandatory : No Option Orientation : Vertical

Correct Marks : 1 Wrong Marks : 0.25

निम्नलिखित में से कौन सा जनसंख्या संरचना का आर्थिक गुण है?

Options :

1. ✘ साक्षरता
2. ✘ लिंग अनुपात
3. ✘ आयुवृद्धि
4. ✔ व्यावसायिक संरचना

Question Number : 151 Question Id : 97675519957 Question Type : MCQ Option Shuffling : Yes Is Question Mandatory : No Option Orientation : Vertical

Correct Marks : 1 Wrong Marks : 0.25

Which country is the largest exporter of cotton?

Options :

1. ✘ China
2. ✘ Japan
3. ✔ United States of America
4. ✘ France

Question Number : 151 Question Id : 97675519957 Question Type : MCQ Option Shuffling : Yes Is Question Mandatory : No Option Orientation : Vertical

Correct Marks : 1 Wrong Marks : 0.25

कपास का सबसे बड़ा निर्यातक कौन सा देश है?

Options :

1. ✘ चीन
2. ✘ जापान
3. ✔ संयुक्त राज्य अमेरिका
4. ✘ फ्रांस

Question Number : 152 Question Id : 97675519958 Question Type : MCQ Option Shuffling : Yes Is Question Mandatory : No Option Orientation : Vertical

Correct Marks : 1 Wrong Marks : 0.25

Which of the following statements is correct regarding the Losch theory of profit maximisation?

- I. Industrial location is characterized by conditions of monopolistic competition.
- II. Demand is considered the most important variable in the location of an industry.

Options :

1. ✘ Only I
2. ✘ Only II
3. ✔ Both I and II
4. ✘ Neither I nor II

Question Number : 152 Question Id : 97675519958 Question Type : MCQ Option Shuffling : Yes Is Question Mandatory : No Option Orientation : Vertical

Correct Marks : 1 Wrong Marks : 0.25

लाभ अधिकतमकरण के लॉश सिद्धांत के संदर्भ में निम्नलिखित में से कौन सा कथन सही है?

- I. औद्योगिक अवस्थिति एकाधिकारी प्रतियोगिता की स्थितियों द्वारा अभिलक्षित होती है।
- II. किसी उद्योग की अवस्थिति में मांग को सबसे महत्वपूर्ण चर माना जाता है।

Options :

1. ✘ केवल I
2. ✘ केवल II
3. ✔ I तथा II दोनों
4. ✘ ना ही I ना ही II

Question Number : 153 Question Id : 97675519959 Question Type : MCQ Option Shuffling : Yes Is Question Mandatory : No Option

Orientation : Vertical

Correct Marks : 1 Wrong Marks : 0.25

Which country is the largest producer of rice?

Options :

1. ✘ Brazil
2. ✔ China
3. ✘ India
4. ✘ Russia

Question Number : 153 Question Id : 97675519959 Question Type : MCQ Option Shuffling : Yes Is Question Mandatory : No Option Orientation : Vertical

Correct Marks : 1 Wrong Marks : 0.25

चावल का सबसे बड़ा उत्पादक कौन सा देश है?

Options :

1. ✘ ब्राज़िल
2. ✔ चीन
3. ✘ भारत
4. ✘ रूस

Question Number : 154 Question Id : 97675519960 Question Type : MCQ Option Shuffling : Yes Is Question Mandatory : No Option Orientation : Vertical

Correct Marks : 1 Wrong Marks : 0.25

भारत की निम्नलिखित में से कौन सी रेशेवाली फसल काली मिट्टी पर उगाई जाती है?

Options :

1. ✘ जूट
2. ✘ भांग
3. ✔ कपास
4. ✘ अलसी

Question Number : 154 Question Id : 97675519960 Question Type : MCQ Option Shuffling : Yes Is Question Mandatory : No Option Orientation : Vertical

Correct Marks : 1 Wrong Marks : 0.25

Which of the following fibre crops of India is grown on black soil?

Options :

1. ✘ Jute
2. ✘ Hemp
3. ✔ Cotton
4. ✘ Flax

Question Number : 155 Question Id : 97675519961 Question Type : MCQ Option Shuffling : Yes Is Question Mandatory : No Option Orientation : Vertical

Correct Marks : 1 Wrong Marks : 0.25

Which of the following statements is correct regarding the intensive subsistence farming?

- I. It is practised in areas of high population pressure on land.
- II. All work is done with hand implements.

Options :

1. ✘ Only I
2. ✘ Only II
3. ✔ Both I and II
4. ✘ Neither I nor II

Question Number : 155 Question Id : 97675519961 Question Type : MCQ Option Shuffling : Yes Is Question Mandatory : No Option Orientation : Vertical

Correct Marks : 1 Wrong Marks : 0.25

गहन निर्वाह कृषि के संदर्भ में निम्नलिखित में से कौन सा कथन सही है?

- I. यह भूमि पर उच्च जनसंख्या दबाव वाले क्षेत्रों में प्रचलित है।
- II. सारा काम हाथ के औजारों से होता है।

Options :

1. ✘ केवल I
2. ✘ केवल II
3. ✔ I तथा II दोनों
4. ✘ ना ही I ना ही II

Question Number : 156 Question Id : 97675519962 Question Type : MCQ Option Shuffling : Yes Is Question Mandatory : No Option Orientation : Vertical

Correct Marks : 1 Wrong Marks : 0.25

Which of the following is one of the Special Economic Zones (SEZ) in India?

Options :

1. ✓ Kandla Special Economic Zone
2. ✗ Ahmedabad Special Economic Zone
3. ✗ Srinagar Special Economic Zone
4. ✗ Chennai Special Economic Zone

Question Number : 156 Question Id : 97675519962 Question Type : MCQ Option Shuffling : Yes Is Question Mandatory : No Option Orientation : Vertical

Correct Marks : 1 Wrong Marks : 0.25

निम्नलिखित में से कौन सा भारत में विशेष आर्थिक क्षेत्र (एस.ई.जेड) में से एक है?

Options :

1. ✓ कांडला विशेष आर्थिक क्षेत्र
2. ✗ अहमदाबाद विशेष आर्थिक क्षेत्र
3. ✗ श्रीनगर विशेष आर्थिक क्षेत्र
4. ✗ चेन्नई विशेष आर्थिक क्षेत्र

Question Number : 157 Question Id : 97675519963 Question Type : MCQ Option Shuffling : Yes Is Question Mandatory : No Option Orientation : Vertical

Correct Marks : 1 Wrong Marks : 0.25

National highway 1 (NH 1) passes through which state/union territory of India?

Options :

1. ✗ Delhi
2. ✗ Mizoram
3. ✓ Jammu and Kashmir
4. ✗ Haryana

Question Number : 157 Question Id : 97675519963 Question Type : MCQ Option Shuffling : Yes Is Question Mandatory : No Option Orientation : Vertical

Correct Marks : 1 Wrong Marks : 0.25

राष्ट्रीय राजमार्ग 1 (NH 1) भारत के किस राज्य /केंद्र शासित प्रदेश से होकर गुजरता है?

Options :

1. ✘ दिल्ली
2. ✘ मिजोरम
3. ✔ जम्मू और कश्मीर
4. ✘ हरियाणा

Question Number : 158 Question Id : 97675519964 Question Type : MCQ Option Shuffling : Yes Is Question Mandatory : No Option Orientation : Vertical

Correct Marks : 1 Wrong Marks : 0.25

The Pacific Tsunami Warning System (PTWS) was set up in _____.

Options :

1. ✔ 1965
2. ✘ 1970
3. ✘ 1955
4. ✘ 1960

Question Number : 158 Question Id : 97675519964 Question Type : MCQ Option Shuffling : Yes Is Question Mandatory : No Option Orientation : Vertical

Correct Marks : 1 Wrong Marks : 0.25

प्रशांत सुनामी चेतावनी प्रणाली (पी.टी.डब्ल्यू.एस) _____ में स्थापित की गई थी।

Options :

1. ✔ 1965
2. ✘ 1970
3. ✘ 1955
4. ✘ 1960

Question Number : 159 Question Id : 97675519965 Question Type : MCQ Option Shuffling : Yes Is Question Mandatory : No Option Orientation : Vertical

Correct Marks : 1 Wrong Marks : 0.25

Which of the following is a type of rapid movement landslide?

- I. Rock slides
- II. Mudflow

Options :

- 1. ✘ Only I
- 2. ✔ Only II
- 3. ✘ Both I and II
- 4. ✘ Neither I nor II

Question Number : 159 Question Id : 97675519965 Question Type : MCQ Option Shuffling : Yes Is Question Mandatory : No Option Orientation : Vertical

Correct Marks : 1 Wrong Marks : 0.25

निम्नलिखित में से कौन सा तीव्र गति वाले भूस्खलन का एक प्रकार है?

- I. रॉक स्लाइड
- II. मडफ्लो

Options :

- 1. ✘ केवल I
- 2. ✔ केवल II
- 3. ✘ I तथा II दोनों
- 4. ✘ ना ही I ना ही II

Question Number : 160 Question Id : 97675519966 Question Type : MCQ Option Shuffling : Yes Is Question Mandatory : No Option Orientation : Vertical

Correct Marks : 1 Wrong Marks : 0.25

Which of the following is an endogenous hazards?

- I. Volcanic disaster
- II. Tsunami
- III. Earthquake

Options :

- 1. ✘ Only III

2. ✘ I and II
3. ✘ I and III
4. ✔ I, II and III

Question Number : 160 Question Id : 97675519966 Question Type : MCQ Option Shuffling : Yes Is Question Mandatory : No Option Orientation : Vertical

Correct Marks : 1 Wrong Marks : 0.25

निम्नलिखित में से कौन सा एक अंतर्जात खतरा है?

- I. ज्वालामुखी आपदा
- II. सुनामी
- III. भूकंप

Options :

1. ✘ केवल III
2. ✘ I तथा II
3. ✘ I तथा III
4. ✔ I, II तथा III

Discipline4

Group Number :	9
Group Id :	976755668
Group Maximum Duration :	0
Group Minimum Duration :	0
Show Attended Group? :	No
Edit Attended Group? :	No
Break time :	0
Group Marks :	20
Is this Group for Examiner? :	No

Discipline4

Section Id :	9767551098
Section Number :	1
Section type :	Online
Mandatory or Optional :	Mandatory
Number of Questions :	20
Number of Questions to be attempted :	20
Section Marks :	20
Enable Mark as Answered Mark for Review and Clear Response :	Yes
Sub-Section Number :	1
Sub-Section Id :	9767551275
Question Shuffling Allowed :	Yes

Question Number : 161 Question Id : 97675519967 Question Type : MCQ Option Shuffling : Yes Is Question Mandatory : No Option Orientation : Vertical

Correct Marks : 1 Wrong Marks : 0.25

A typical Community Contingency Plan for disaster management involves which of the following steps?

- I. Initial awareness and rapport building
- II. Outlining the profile of the community
- III. Capacity building of Task Forces

Options :

- 1. ✘ I and II
- 2. ✘ Only II
- 3. ✔ I, II and III
- 4. ✘ I and III

Question Number : 161 Question Id : 97675519967 Question Type : MCQ Option Shuffling : Yes Is Question Mandatory : No Option Orientation : Vertical

Correct Marks : 1 Wrong Marks : 0.25

आपदा प्रबंधन के लिए एक प्ररूपी समुदाय आकस्मिकता योजना में निम्नलिखित में से कौन से चरण शामिल होते हैं?

- I. प्रारंभिक जागरूकता और घनिष्ठता निर्माण
- II. समुदाय की रूपरेखा को रेखांकित करना
- III. कार्यबलों का क्षमता निर्माण

Options :

1. ✘ I तथा II
2. ✘ केवल II
3. ✔ I, II तथा III
4. ✘ I तथा III

Question Number : 162 Question Id : 97675519968 Question Type : MCQ Option Shuffling : Yes Is Question Mandatory : No Option Orientation : Vertical

Correct Marks : 1 Wrong Marks : 0.25

Which type of unemployment is present in a rural area?

- I. Seasonal unemployment
- II. Educated unemployment

Options :

1. ✔ Only I
2. ✘ Only II
3. ✘ Both I and II
4. ✘ Neither I nor II

Question Number : 162 Question Id : 97675519968 Question Type : MCQ Option Shuffling : Yes Is Question Mandatory : No Option Orientation : Vertical

Correct Marks : 1 Wrong Marks : 0.25

एक ग्रामीण क्षेत्र में किस प्रकार की बेरोजगारी विद्यमान है?

- I. मौसमी बेरोजगारी
- II. शिक्षित बेरोजगारी

Options :

1. ✔ केवल I
2. ✘ केवल II
3. ✘ I तथा II दोनों
4. ✘ ना ही I ना ही II

Question Number : 163 Question Id : 97675519969 Question Type : MCQ Option Shuffling : Yes Is Question Mandatory : No Option Orientation : Vertical

Correct Marks : 1 Wrong Marks : 0.25

Sustainable agriculture integrates which of the following goals?

- I. Environmental health
- II. Economic profitability

Options :

- 1. ✘ Only I
- 2. ✘ Only II
- 3. ✔ Both I and II
- 4. ✘ Neither I nor II

Question Number : 163 Question Id : 97675519969 Question Type : MCQ Option Shuffling : Yes Is Question Mandatory : No Option Orientation : Vertical

Correct Marks : 1 Wrong Marks : 0.25

संधारणीय कृषि निम्नलिखित में से किस लक्ष्य को एकीकृत करती है?

- I. पर्यावरणीय स्वास्थ्य
- II. आर्थिक लाभप्रदता

Options :

- 1. ✘ केवल I
- 2. ✘ केवल II
- 3. ✔ I तथा II दोनों
- 4. ✘ ना ही I ना ही II

Question Number : 164 Question Id : 97675519970 Question Type : MCQ Option Shuffling : Yes Is Question Mandatory : No Option Orientation : Vertical

Correct Marks : 1 Wrong Marks : 0.25

Non-economic factor which influence economic development is _____.

Options :

- 1. ✔ Entrepreneurship
- 2. ✘ Mechanization of Agriculture

3. ✖ Capital Formation
4. ✖ Market Imperfection

Question Number : 164 Question Id : 97675519970 Question Type : MCQ Option Shuffling : Yes Is Question Mandatory : No Option Orientation : Vertical

Correct Marks : 1 Wrong Marks : 0.25

आर्थिक विकास को प्रभावित करने वाला लाभहीन कारक _____ है।

Options :

1. ✔ उद्यमिता
2. ✖ कृषि का मशीनीकरण
3. ✖ पूंजी निर्माण
4. ✖ बाजार अपूर्णता

Question Number : 165 Question Id : 97675519971 Question Type : MCQ Option Shuffling : Yes Is Question Mandatory : No Option Orientation : Vertical

Correct Marks : 1 Wrong Marks : 0.25

Which of the following features of Indian economy at the time of Independence is correct?

- I. Indian economy was a dependent economy.
- II. It carried all the marks of colonialism and imperialism.
- III. Agriculture was overcrowded.

Options :

1. ✖ I and II
2. ✖ II and III
3. ✖ Only I
4. ✔ I, II and III

Question Number : 165 Question Id : 97675519971 Question Type : MCQ Option Shuffling : Yes Is Question Mandatory : No Option Orientation : Vertical

Correct Marks : 1 Wrong Marks : 0.25

स्वतंत्रता के समय भारतीय अर्थव्यवस्था की निम्नलिखित में से कौन-सी विशेषता सही है?

- I. भारतीय अर्थव्यवस्था एक आश्रित अर्थव्यवस्था थी।

- II. इसमें उपनिवेशवाद और साम्राज्यवाद के सभी निशान थे।
III. कृषि अतिसंकुलित थी।

Options :

1. ✘ I तथा II
2. ✘ II तथा III
3. ✘ केवल I
4. ✔ I, II तथा III

Question Number : 166 Question Id : 97675519972 Question Type : MCQ Option Shuffling : Yes Is Question Mandatory : No Option Orientation : Vertical

Correct Marks : 1 Wrong Marks : 0.25

The primary sector includes economic activities like _____.

- I. Forestry
II. Mining

Options :

1. ✘ Only I
2. ✘ Only II
3. ✔ Both I and II
4. ✘ Neither I nor II

Question Number : 166 Question Id : 97675519972 Question Type : MCQ Option Shuffling : Yes Is Question Mandatory : No Option Orientation : Vertical

Correct Marks : 1 Wrong Marks : 0.25

प्राथमिक क्षेत्र में _____ के जैसे आर्थिक क्रियाकलाप शामिल होते हैं।

- I. वानिकी
II. खनन

Options :

1. ✘ केवल I
2. ✘ केवल II
3. ✔ I तथा II दोनों

4. ✖ ना ही I ना ही II

Question Number : 167 Question Id : 97675519973 Question Type : MCQ Option Shuffling : Yes Is Question Mandatory : No Option Orientation : Vertical

Correct Marks : 1 Wrong Marks : 0.25

The rate of interest at which the central bank makes advances to commercial banks is called _____.

Options :

1. ✖ Exchange rate
2. ✔ Bank rate
3. ✖ Borrowing rate
4. ✖ Repo rate

Question Number : 167 Question Id : 97675519973 Question Type : MCQ Option Shuffling : Yes Is Question Mandatory : No Option Orientation : Vertical

Correct Marks : 1 Wrong Marks : 0.25

वह ब्याज दर जिस पर केंद्रीय बैंक वाणिज्यिक बैंकों को अग्रिम देता है, उसे _____ कहा जाता है।

Options :

1. ✖ विनिमय दर
2. ✔ बैंक दर
3. ✖ उधार संबंधी दर
4. ✖ रेपो दर

Question Number : 168 Question Id : 97675519974 Question Type : MCQ Option Shuffling : Yes Is Question Mandatory : No Option Orientation : Vertical

Correct Marks : 1 Wrong Marks : 0.25

Which of the following is a qualitative instrument of credit control?

Options :

1. ✖ Cash reserve ratio
2. ✔ Selective credit control
3. ✖ Marginal standing facility
4. ✖ Open Market Operations

Question Number : 168 Question Id : 97675519974 Question Type : MCQ Option Shuffling : Yes Is Question Mandatory : No Option Orientation : Vertical

Correct Marks : 1 Wrong Marks : 0.25

निम्नलिखित में से कौन सी क्रेडिट नियंत्रण की गुणात्मक लिखता है?

Options :

1. ✘ नकदी आरक्षित निधि अनुपात
2. ✔ चयनात्मक क्रेडिट नियंत्रण
3. ✘ सीमांत स्थायी सुविधा
4. ✘ खुला बाजार परिचालन

Question Number : 169 Question Id : 97675519975 Question Type : MCQ Option Shuffling : Yes Is Question Mandatory : No Option Orientation : Vertical

Correct Marks : 1 Wrong Marks : 0.25

All the given banks are public sector banks except _____.

Options :

1. ✘ Punjab and Sind Bank
2. ✘ Bank of India
3. ✘ Indian bank
4. ✔ Yes bank

Question Number : 169 Question Id : 97675519975 Question Type : MCQ Option Shuffling : Yes Is Question Mandatory : No Option Orientation : Vertical

Correct Marks : 1 Wrong Marks : 0.25

_____ के अलावा दिए गए सभी बैंक सार्वजनिक क्षेत्र बैंक हैं।

Options :

1. ✘ पंजाब एंड सिंध बैंक
2. ✘ बैंक ऑफ इंडिया
3. ✘ इंडियन बैंक
4. ✔ यैस बैंक

Question Number : 170 Question Id : 97675519976 Question Type : MCQ Option Shuffling : Yes Is Question Mandatory : No Option Orientation : Vertical

Correct Marks : 1 Wrong Marks : 0.25

Which of the following statements is correct regarding the treasury bills?

- I. It is a long term borrowing instruments of the Central Government of India.
- II. They mature in less than one year.
- III. They are issued through the commercial banks of India.

Options :

- 1. ✘ I and II
- 2. ✘ II and III
- 3. ✔ Only II
- 4. ✘ I, II and III

Question Number : 170 Question Id : 97675519976 Question Type : MCQ Option Shuffling : Yes Is Question Mandatory : No Option Orientation : Vertical

Correct Marks : 1 Wrong Marks : 0.25

ट्रेज़री बिल के संदर्भ में निम्नलिखित में से कौन सा कथन सही है?

- I. भारतीय केंद्र सरकार का दीर्घ कालीन उधार ग्रहण (Borrowing) साधन है।
- II. वे एक वर्ष से भी कम समय में परिपक्व हो जाते हैं।
- III. वे भारत के वाणिज्यिक बैंकों के माध्यम से जारी किए जाते हैं।

Options :

- 1. ✘ I तथा II
- 2. ✘ II तथा III
- 3. ✔ केवल II
- 4. ✘ I, II तथा III

Question Number : 171 Question Id : 97675519977 Question Type : MCQ Option Shuffling : Yes Is Question Mandatory : No Option Orientation : Vertical

Correct Marks : 1 Wrong Marks : 0.25

Which of the following are the lists that were mentioned in the British Indian Constitution Act of 1935?

- I. Concurrent list

II. Provincial list

III. Union list

Options :

1. ✓ I and II
2. ✗ II and III
3. ✗ I and III
4. ✗ I, II and III

Question Number : 171 Question Id : 97675519977 Question Type : MCQ Option Shuffling : Yes Is Question Mandatory : No Option Orientation : Vertical

Correct Marks : 1 Wrong Marks : 0.25

निम्नलिखित में से कौन सी वह सूचियाँ हैं जिनका उल्लेख ब्रिटिश भारतीय संविधान अधिनियम 1935 में किया गया था?

I. समवर्ती सूची

II. प्रांतीय सूची

III. संघ सूची

Options :

1. ✓ I तथा II
2. ✗ II तथा III
3. ✗ I तथा III
4. ✗ I, II तथा III

Question Number : 172 Question Id : 97675519978 Question Type : MCQ Option Shuffling : Yes Is Question Mandatory : No Option Orientation : Vertical

Correct Marks : 1 Wrong Marks : 0.25

Which of the following pair of item-list of Indian Constitution is correct?

I. Corporation tax - State list

II. Census - Union list

Options :

1. ✗ Only I
2. ✓ Only II
3. ✗ Both I and II

4. ✖ Neither I nor II

Question Number : 172 Question Id : 97675519978 Question Type : MCQ Option Shuffling : Yes Is Question Mandatory : No Option Orientation : Vertical

Correct Marks : 1 Wrong Marks : 0.25

मद-सूची का निम्नलिखित में से कौन सा युग्म सही है?

- I. निगम कर - राज्य सूचि
- II. जनगणना - संघ सूचि

Options :

- 1. ✖ केवल I
- 2. ✔ केवल II
- 3. ✖ I तथा II दोनों
- 4. ✖ ना ही I ना ही II

Question Number : 173 Question Id : 97675519979 Question Type : MCQ Option Shuffling : Yes Is Question Mandatory : No Option Orientation : Vertical

Correct Marks : 1 Wrong Marks : 0.25

In India, both the President and the Governors are advised by their _____.

Options :

- 1. ✖ speakers
- 2. ✖ administrators
- 3. ✔ councils of ministers
- 4. ✖ chief electoral officers

Question Number : 173 Question Id : 97675519979 Question Type : MCQ Option Shuffling : Yes Is Question Mandatory : No Option Orientation : Vertical

Correct Marks : 1 Wrong Marks : 0.25

भारत में, राष्ट्रपति और राज्यपाल दोनों को उनके _____ द्वारा सलाह दी जाती है।

Options :

- 1. ✖ अध्यक्ष
- 2. ✖ प्रशासकों

3. ✓ मंत्रिपरिषद
4. ✗ मुख्य चुनाव अधिकारी

Question Number : 174 Question Id : 97675519980 Question Type : MCQ Option Shuffling : Yes Is Question Mandatory : No Option Orientation : Vertical

Correct Marks : 1 Wrong Marks : 0.25

The President in India is elected by _____.

Options :

1. ✓ the members of an electoral college
2. ✗ the prime minister only
3. ✗ the speaker of House of the People
4. ✗ chief ministers of the states

Question Number : 174 Question Id : 97675519980 Question Type : MCQ Option Shuffling : Yes Is Question Mandatory : No Option Orientation : Vertical

Correct Marks : 1 Wrong Marks : 0.25

भारत में राष्ट्रपति निर्वाचन _____ द्वारा किया जाता है।

Options :

1. ✓ निर्वाचकगण के सदस्य
2. ✗ केवल प्रधानमंत्री
3. ✗ लोक सभा के अध्यक्ष
4. ✗ राज्यों के मुख्यमंत्री

Question Number : 175 Question Id : 97675519981 Question Type : MCQ Option Shuffling : Yes Is Question Mandatory : No Option Orientation : Vertical

Correct Marks : 1 Wrong Marks : 0.25

What is the symbol of 'Indian National Lok Dal' party?

Options :

1. ✓ Spectacles
2. ✗ Lotus
3. ✗ Clock

4. ✖ Hand

Question Number : 175 Question Id : 97675519981 Question Type : MCQ Option Shuffling : Yes Is Question Mandatory : No Option Orientation : Vertical

Correct Marks : 1 Wrong Marks : 0.25

‘इंडियन नेशनल लोक दल’ पार्टी का प्रतीक चिन्ह क्या है?

Options :

1. ✔ चश्मा
2. ✖ कमल
3. ✖ घड़ी
4. ✖ हाथ

Question Number : 176 Question Id : 97675519982 Question Type : MCQ Option Shuffling : Yes Is Question Mandatory : No Option Orientation : Vertical

Correct Marks : 1 Wrong Marks : 0.25

Which of the following statements is NOT correct regarding Bharatiya Janata Party (BJP)?

Options :

1. ✖ Its roots can be traced to the Bharatiya Jana Sangh.
2. ✔ BJP was formed in 1990
3. ✖ Atal Bihari Vajpayee was its first President.
4. ✖ The BJP as a major member of the National Democratic Alliance (NDA) has been heading the central government since 2014.

Question Number : 176 Question Id : 97675519982 Question Type : MCQ Option Shuffling : Yes Is Question Mandatory : No Option Orientation : Vertical

Correct Marks : 1 Wrong Marks : 0.25

भारतीय जनता पार्टी (भाजपा) के संदर्भ में निम्नलिखित में से कौन सा कथन सही नहीं है ?

Options :

1. ✖ इसकी जड़ें भारतीय जनसंघ तक जाती हैं।
2. ✔ भाजपा का गठन 1990 में हुआ था।
3. ✖ अटल बिहारी वाजपेयी इसके पहले अध्यक्ष थे।
4. ✖ राष्ट्रीय जनतांत्रिक गठबंधन (एन.डी.ए.) के एक प्रमुख सदस्य के रूप में भाजपा 2014 से केंद्र सरकार का नेतृत्व कर रही है।

Question Number : 177 Question Id : 97675519983 Question Type : MCQ Option Shuffling : Yes Is Question Mandatory : No Option Orientation : Vertical

Correct Marks : 1 Wrong Marks : 0.25

Sharad Pawar is the founding member of _____.

Options :

1. ✘ Samajwadi Party
2. ✘ Bahujan Samaj Party
3. ✘ Rashtriya Janata Dal
4. ✔ Nationalist Congress Party

Question Number : 177 Question Id : 97675519983 Question Type : MCQ Option Shuffling : Yes Is Question Mandatory : No Option Orientation : Vertical

Correct Marks : 1 Wrong Marks : 0.25

शरद पवार _____ के संस्थापक सदस्य हैं।

Options :

1. ✘ समाजवादी पार्टी
2. ✘ बहुजन समाज पार्टी
3. ✘ राष्ट्रीय जनता दल
4. ✔ राष्ट्रवादी कांग्रेस पार्टी

Question Number : 178 Question Id : 97675519984 Question Type : MCQ Option Shuffling : Yes Is Question Mandatory : No Option Orientation : Vertical

Correct Marks : 1 Wrong Marks : 0.25

In the first four general elections in India, which of the following parties has obtained an absolute majority of seats in the parliament?

Options :

1. ✔ Indian National Congress
2. ✘ Bahujan Samaj party
3. ✘ Bharatiya Janata party
4. ✘ Janata party

Question Number : 178 Question Id : 97675519984 Question Type : MCQ Option Shuffling : Yes Is Question Mandatory : No Option

Orientation : Vertical

Correct Marks : 1 Wrong Marks : 0.25

भारत में पहले चार आम चुनावों में, निम्नलिखित में से किस पार्टी ने संसद में पूर्ण बहुमत प्राप्त किया है?

Options :

1. ✓ भारतीय राष्ट्रीय कांग्रेस
2. ✗ बहुजन समाज पार्टी
3. ✗ भारतीय जनता पार्टी
4. ✗ जनता पार्टी

Question Number : 179 Question Id : 97675519985 Question Type : MCQ Option Shuffling : Yes Is Question Mandatory : No Option

Orientation : Vertical

Correct Marks : 1 Wrong Marks : 0.25

From late 1960s, non-congress parties formed government in the centre and several states which signify the presence of which of the following party systems in India?

Options :

1. ✗ One-party system
2. ✗ Two-party system
3. ✓ Multi-party system
4. ✗ Bi-polar system

Question Number : 179 Question Id : 97675519985 Question Type : MCQ Option Shuffling : Yes Is Question Mandatory : No Option

Orientation : Vertical

Correct Marks : 1 Wrong Marks : 0.25

1960 के दशक के उत्तरार्ध से, गैर-कांग्रेसी पार्टियों ने केंद्र और कई राज्यों में सरकारें बनाईं जो भारत में निम्नलिखित में से किस पार्टी प्रणाली की उपस्थिति को दर्शाती हैं?

Options :

1. ✗ एक दलीय प्रणाली
2. ✗ दो दलीय प्रणाली
3. ✓ बहुदलीय प्रणाली
4. ✗ बाई-पोलर प्रणाली

Question Number : 180 Question Id : 97675519986 Question Type : MCQ Option Shuffling : Yes Is Question Mandatory : No Option Orientation : Vertical

Correct Marks : 1 Wrong Marks : 0.25

'हाउस ऑफ कॉमन्स' निम्नलिखित में से किस देश से संबंधित है?

Options :

1. ✘ दक्षिण अफ्रीका
2. ✔ ब्रिटेन
3. ✘ ब्राज़िल
4. ✘ वेनेजुएला

Question Number : 180 Question Id : 97675519986 Question Type : MCQ Option Shuffling : Yes Is Question Mandatory : No Option Orientation : Vertical

Correct Marks : 1 Wrong Marks : 0.25

'House of Commons' is associated with which of the following countries?

Options :

1. ✘ South Africa
2. ✔ Britain
3. ✘ Brazil
4. ✘ Venezuela

Discipline5

Group Number :	10
Group Id :	976755669
Group Maximum Duration :	0
Group Minimum Duration :	0
Show Attended Group? :	No
Edit Attended Group? :	No
Break time :	0
Group Marks :	10
Is this Group for Examiner? :	No

Discipline5

Section Id :	9767551099
Section Number :	1
Section type :	Online
Mandatory or Optional :	Mandatory
Number of Questions :	10
Number of Questions to be attempted :	10
Section Marks :	10
Enable Mark as Answered Mark for Review and Clear Response :	Yes
Sub-Section Number :	1
Sub-Section Id :	9767551276
Question Shuffling Allowed :	Yes

Question Number : 181 Question Id : 97675519987 Question Type : MCQ Option Shuffling : Yes Is Question Mandatory : No Option Orientation : Vertical

Correct Marks : 1 Wrong Marks : 0.25

In India, the councillors of the General body of the municipal corporation are elected for a term of _____ years.

Options :

1. ✘ six
2. ✘ two
3. ✘ three
4. ✔ five

Question Number : 181 Question Id : 97675519987 Question Type : MCQ Option Shuffling : Yes Is Question Mandatory : No Option Orientation : Vertical

Correct Marks : 1 Wrong Marks : 0.25

भारत में, नगर निगम के सामान्य निकाय के पार्षदों को _____ वर्षों की अवधि के लिए चुना जाता है।

Options :

1. ✘ छह
2. ✘ दो
3. ✘ तीन

4. ✓ पांच

Question Number : 182 Question Id : 97675519988 Question Type : MCQ Option Shuffling : Yes Is Question Mandatory : No Option Orientation : Vertical

Correct Marks : 1 Wrong Marks : 0.25

Which of the following is NOT a type of Municipal Revenue?

Options :

1. ✘ Tax revenue
2. ✘ Octroi
3. ✘ Grants-in-aid
4. ✓ Depository receipt

Question Number : 182 Question Id : 97675519988 Question Type : MCQ Option Shuffling : Yes Is Question Mandatory : No Option Orientation : Vertical

Correct Marks : 1 Wrong Marks : 0.25

निम्नलिखित में से कौन सा नगरपालिका राजस्व का एक प्रकार नहीं है?

Options :

1. ✘ टैक्स राजस्व
2. ✘ चुंगी
3. ✘ सहायता अनुदान
4. ✓ डिपॉजिटरी रसीद

Question Number : 183 Question Id : 97675519989 Question Type : MCQ Option Shuffling : Yes Is Question Mandatory : No Option Orientation : Vertical

Correct Marks : 1 Wrong Marks : 0.25

Which of the following types of urban local bodies are found in India?

- I. Town Area Committee
- II. Containment Boards
- III. Municipalities

Options :

1. ✘ I and II

2. ✘ II and III
3. ✘ I and III
4. ✔ I, II and III

Question Number : 183 Question Id : 97675519989 Question Type : MCQ Option Shuffling : Yes Is Question Mandatory : No Option Orientation : Vertical

Correct Marks : 1 Wrong Marks : 0.25

भारत में निम्नलिखित में से किस प्रकार के शहरी स्थानीय निकाय पाए जाते हैं?

- I. नगर क्षेत्र समिति
- II. कंटेनमेंट बोर्ड
- III. नगर पालिकाएं

Options :

1. ✘ I तथा II
2. ✘ II तथा III
3. ✘ I तथा III
4. ✔ I, II तथा III

Question Number : 184 Question Id : 97675519990 Question Type : MCQ Option Shuffling : Yes Is Question Mandatory : No Option Orientation : Vertical

Correct Marks : 1 Wrong Marks : 0.25

The first national elections in the history of Nepal held in _____.

Options :

1. ✘ 1966
2. ✘ 1940
3. ✔ 1959
4. ✘ 1950

Question Number : 184 Question Id : 97675519990 Question Type : MCQ Option Shuffling : Yes Is Question Mandatory : No Option Orientation : Vertical

Correct Marks : 1 Wrong Marks : 0.25

नेपाल के इतिहास में पहला राष्ट्रीय चुनावों का आयोजन _____ में किया गया था।

Options :

1. ✘ 1966
2. ✘ 1940
3. ✔ 1959
4. ✘ 1950

Question Number : 185 Question Id : 97675519991 Question Type : MCQ Option Shuffling : Yes Is Question Mandatory : No Option Orientation : Vertical

Correct Marks : 1 Wrong Marks : 0.25

By April 1963, the Panchayat system in Nepal became fully operational. Which of the following statements are correct regarding this system?

- I. It was established by King Mahendra after a royal coup.
- II. It was a party-less system.
- III. It was a two-tier system.

Options :

1. ✔ I and II
2. ✘ Only III
3. ✘ Only II
4. ✘ I and III

Question Number : 185 Question Id : 97675519991 Question Type : MCQ Option Shuffling : Yes Is Question Mandatory : No Option Orientation : Vertical

Correct Marks : 1 Wrong Marks : 0.25

अप्रैल 1963 तक , नेपाल में पंचायत प्रणाली पूरी तरह से शुरू हो गई थी। इस प्रणाली के संदर्भ में निम्नलिखित में से कौन सा कथन सही है?

- I. इसे राजा महेन्द्र ने शाही तख्तापलट के बाद स्थापित किया था।
- II. यह दलविहीन प्रणाली थी।
- III. यह दो स्तरीय प्रणाली थी।

Options :

1. ✔ I तथा II
2. ✘ केवल III
3. ✘ केवल II
4. ✘ I तथा III

Question Number : 186 Question Id : 97675519992 Question Type : MCQ Option Shuffling : Yes Is Question Mandatory : No Option Orientation : Vertical

Correct Marks : 1 Wrong Marks : 0.25

Which article talks about the application of the 'Directive Principles' in the Indian constitution?

Options :

1. ✘ Article 29
2. ✔ Article 37
3. ✘ Article 40
4. ✘ Article 39

Question Number : 186 Question Id : 97675519992 Question Type : MCQ Option Shuffling : Yes Is Question Mandatory : No Option Orientation : Vertical

Correct Marks : 1 Wrong Marks : 0.25

भारतीय संविधान का कौन सा अनुच्छेद में 'निदेशक तत्वों' के प्रयोग के बारे में बताता है ?

Options :

1. ✘ अनुच्छेद 29
2. ✔ अनुच्छेद 37
3. ✘ अनुच्छेद 40
4. ✘ अनुच्छेद 39

Question Number : 187 Question Id : 97675519993 Question Type : MCQ Option Shuffling : Yes Is Question Mandatory : No Option Orientation : Vertical

Correct Marks : 1 Wrong Marks : 0.25

A finance commission in India is constituted after the expiration of every _____ years.

Options :

1. ✘ second
2. ✘ fourth
3. ✔ fifth
4. ✘ third

Question Number : 187 Question Id : 97675519993 Question Type : MCQ Option Shuffling : Yes Is Question Mandatory : No Option Orientation : Vertical

Correct Marks : 1 Wrong Marks : 0.25

भारत में प्रत्येक _____ वर्ष की समाप्ति के बाद एक वित्त आयोग का गठन किया जाता है।

Options :

1. ✘ दूसरे
2. ✘ चौथे
3. ✔ पांचवे
4. ✘ तीसरे

Question Number : 188 Question Id : 97675519994 Question Type : MCQ Option Shuffling : Yes Is Question Mandatory : No Option Orientation : Vertical

Correct Marks : 1 Wrong Marks : 0.25

Which article of the Indian constitution give its citizens freedom to manage religious affairs?

Options :

1. ✘ Article 20
2. ✘ Article 17
3. ✔ Article 26
4. ✘ Article 24

Question Number : 188 Question Id : 97675519994 Question Type : MCQ Option Shuffling : Yes Is Question Mandatory : No Option Orientation : Vertical

Correct Marks : 1 Wrong Marks : 0.25

भारतीय संविधान का कौन सा अनुच्छेद अपने नागरिकों को धार्मिक कार्यों के प्रबंध की स्वतंत्रता देता है?

Options :

1. ✘ अनुच्छेद 20
2. ✘ अनुच्छेद 17
3. ✔ अनुच्छेद 26
4. ✘ अनुच्छेद 24

Question Number : 189 Question Id : 97675519995 Question Type : MCQ Option Shuffling : Yes Is Question Mandatory : No Option Orientation : Vertical

Correct Marks : 1 Wrong Marks : 0.25

Which constitutional amendment act deleted 'right to property' from the fundamental rights?

Options :

1. ✘ 52nd
2. ✔ 44th
3. ✘ 86th
4. ✘ 46th

Question Number : 189 Question Id : 97675519995 Question Type : MCQ Option Shuffling : Yes Is Question Mandatory : No Option Orientation : Vertical

Correct Marks : 1 Wrong Marks : 0.25

किस सांविधानिक संशोधन अधिनियम ने मूल अधिकारों से 'संपत्ति के अधिकार' को हटा दिया था?

Options :

1. ✘ 52वां
2. ✔ 44वां
3. ✘ 86वां
4. ✘ 46वां

Question Number : 190 Question Id : 97675519996 Question Type : MCQ Option Shuffling : Yes Is Question Mandatory : No Option Orientation : Vertical

Correct Marks : 1 Wrong Marks : 0.25

In India, a parliament for the Union consists of _____.

- I. President of India
- II. The Council of states
- III. The House of the people

Options :

1. ✘ II and III
2. ✘ I and II
3. ✔ I, II and III
4. ✘ Only I

Question Number : 190 Question Id : 97675519996 Question Type : MCQ Option Shuffling : Yes Is Question Mandatory : No Option Orientation : Vertical

Correct Marks : 1 Wrong Marks : 0.25

भारत में, संघ के लिए एक संसद में _____ होते हैं।

- I. भारत के राष्ट्रपति
- II. राज्यसभा
- III. लोकसभा

Options :

- 1. ✘ II तथा III
- 2. ✘ I तथा II
- 3. ✔ I, II तथा III
- 4. ✘ केवल I

Teaching Methodology

Group Number :	11
Group Id :	976755670
Group Maximum Duration :	0
Group Minimum Duration :	120
Show Attended Group? :	No
Edit Attended Group? :	No
Break time :	0
Group Marks :	10
Is this Group for Examiner? :	No

Teaching Methodology

Section Id :	9767551100
Section Number :	1
Section type :	Online
Mandatory or Optional :	Mandatory

Number of Questions :	10
Number of Questions to be attempted :	10
Section Marks :	10
Enable Mark as Answered Mark for Review and Clear Response :	Yes
Sub-Section Number :	1
Sub-Section Id :	9767551277
Question Shuffling Allowed :	Yes

Question Number : 191 Question Id : 97675519997 Question Type : MCQ Option Shuffling : Yes Is Question Mandatory : No Option Orientation : Vertical

Correct Marks : 1 Wrong Marks : 0.25

Who founded the Asiatic Society of Bengal and embarked on the task of writing Indian History?

Options :

1. ✘ James Prinsep
2. ✔ William Jones
3. ✘ Charles Masson
4. ✘ John Marshall

Question Number : 191 Question Id : 97675519997 Question Type : MCQ Option Shuffling : Yes Is Question Mandatory : No Option Orientation : Vertical

Correct Marks : 1 Wrong Marks : 0.25

किसने बंगाल की एशियाटिक सोसाइटी की स्थापना और भारतीय इतिहास लिखने के कार्य की शुरुआत की?

Options :

1. ✘ जेम्स प्रिंसेप
2. ✔ विलियम जोन्स
3. ✘ चार्ल्स मेसन
4. ✘ जॉन मार्शल

Question Number : 192 Question Id : 97675519998 Question Type : MCQ Option Shuffling : Yes Is Question Mandatory : No Option Orientation : Vertical

Correct Marks : 1 Wrong Marks : 0.25

Which of the following combination of activity – Teaching Learning Strategy is correct?

- I. You may take children to Panchayat office, Dam, Factory etc. – Field Trip
II. Play the role of a Panchayat President who is addressing the members of Gram Sabha – Role play

Options :

1. ✘ Only I
2. ✘ Only II
3. ✔ Both I and II
4. ✘ Neither I nor II

Question Number : 192 Question Id : 97675519998 Question Type : MCQ Option Shuffling : Yes Is Question Mandatory : No Option Orientation : Vertical

Correct Marks : 1 Wrong Marks : 0.25

निम्नलिखित में से क्रिया – शिक्षण अधिगम रणनीति का कौन सा संयोजन सही है?

- I. आप बच्चों को पंचायत कार्यालय, बांध, फैक्ट्री आदि ले जा सकते हैं - फील्ड ट्रिप
II एक पंचायत अध्यक्ष की भूमिका निभाएं जो ग्राम सभा के सदस्यों को संबोधित कर रहा हो - रोल प्ले

Options :

1. ✘ केवल I
2. ✘ केवल II
3. ✔ I तथा II दोनों
4. ✘ ना ही I ना ही II

Question Number : 193 Question Id : 97675519999 Question Type : MCQ Option Shuffling : Yes Is Question Mandatory : No Option Orientation : Vertical

Correct Marks : 1 Wrong Marks : 0.25

Which of the following statement is NOT correct regarding Formative Assessment?

Options :

1. ✔ It is conducted at regular intervals on formal basis.
2. ✘ It encourages intrinsic motivation and self-esteem of students.
3. ✘ It incorporates varied learning styles to decide how and what to teach.
4. ✘ It encourages students to understand the criteria that will be used to judge their work.

Question Number : 193 Question Id : 97675519999 Question Type : MCQ Option Shuffling : Yes Is Question Mandatory : No Option Orientation : Vertical

Correct Marks : 1 Wrong Marks : 0.25

सृजनात्मक आकलन के संदर्भ में निम्नलिखित में से कौन सा कथन सही नहीं है?

Options :

1. ✓ इसे औपचारिक आधार पर नियमित अंतराल पर संचालित किया जाता है।
2. ✗ यह छात्रों के आत्म-सम्मान और आंतरिक प्रेरणा को प्रोत्साहित करता है।
3. ✗ यह कैसे और क्या पढ़ाना है, को तय करने के लिए विभिन्न शिक्षण शैलियों को शामिल करता है।
4. ✗ यह छात्रों को उन मानदंडों को समझने के लिए प्रोत्साहित करता है जिनका उपयोग उनके कार्य पर निर्णय लेने के लिए किया जाएगा।

Question Number : 194 Question Id : 97675520000 Question Type : MCQ Option Shuffling : Yes Is Question Mandatory : No Option Orientation : Vertical

Correct Marks : 1 Wrong Marks : 0.25

To create a learning friendly humane environment, as a teacher which of the following things you shouldn't have to keep in mind?

Options :

1. ✗ Be always proactive to student's cause
2. ✗ Be patient and sympathetic while dealing with problems of children in the classroom
3. ✗ Use pleasant words with firmness while handling indiscipline activities
4. ✓ Encourage cooperation but not collaboration among students

Question Number : 194 Question Id : 97675520000 Question Type : MCQ Option Shuffling : Yes Is Question Mandatory : No Option Orientation : Vertical

Correct Marks : 1 Wrong Marks : 0.25

एक शिक्षक के रूप में अधिगम के अनुकूल मानवीय वातावरण बनाने के लिए आपको निम्नलिखित में से किन बातों का ध्यान नहीं रखना चाहिए?

Options :

1. ✗ छात्र हित के लिए हमेशा सक्रिय रहें
2. ✗ कक्षा में बच्चों की समस्याओं से निपटने के दौरान धैर्य और सहानुभूति रखें
3. ✗ अनुशासनहीनता के क्रियाकलापों को संभालते हुए दृढ़ता के साथ मधुर शब्दों का उपयोग करें
4. ✓ छात्रों के बीच सहकारिता को प्रोत्साहित करें लेकिन सहयोग को नहीं

Question Number : 195 Question Id : 97675520001 Question Type : MCQ Option Shuffling : Yes Is Question Mandatory : No Option Orientation : Vertical

Correct Marks : 1 Wrong Marks : 0.25

_____ एक ऐसा तरीका है जहां एक आकर्षक संपूर्ण चित्र प्रस्तुत करने के लिए प्रभावों को जोड़ा जाता है और _____ एक रचना के बाएँ और दाएँ पक्षों की तुलना करने का एक तरीका है।

Options :

1. ✘ परिदृश्य और सामंजस्य
2. ✔ सामंजस्य और संतुलन
3. ✘ लय और संतुलन
4. ✘ सामंजस्य और लय

Question Number : 195 Question Id : 97675520001 Question Type : MCQ Option Shuffling : Yes Is Question Mandatory : No Option Orientation : Vertical

Correct Marks : 1 Wrong Marks : 0.25

_____ is a way where effects are joined to produce an attractive whole picture and _____ is a way to compare left and right sides of a composition.

Options :

1. ✘ Perspective and Harmony
2. ✔ Harmony and Balance
3. ✘ Rhythm and Balance
4. ✘ Harmony and Rhythm

Question Number : 196 Question Id : 97675520002 Question Type : MCQ Option Shuffling : Yes Is Question Mandatory : No Option Orientation : Vertical

Correct Marks : 1 Wrong Marks : 0.25

Through which of the following means and mediums, value education can be provided to the students?

- I. Declamation contests
- II. Use of mass-media
- III. Celebration of birthdays and international days

Options :

1. ✘ II and III
2. ✘ Only III
3. ✘ I and II
4. ✔ I, II and III

Question Number : 196 Question Id : 97675520002 Question Type : MCQ Option Shuffling : Yes Is Question Mandatory : No Option Orientation : Vertical

Correct Marks : 1 Wrong Marks : 0.25

निम्नलिखित में से किन उपायों और माध्यमों से छात्रों को मूल्य शिक्षा प्रदान की जा सकती है?

- I. भाषण प्रतियोगिता
- II. मास-मीडिया का उपयोग
- III. जन्मदिन और अंतर्राष्ट्रीय दिवसों का उत्सव

Options :

1. ✘ II तथा III
2. ✘ केवल III
3. ✘ I तथा II
4. ✔ I, II तथा III

Question Number : 197 Question Id : 97675520003 Question Type : MCQ Option Shuffling : Yes Is Question Mandatory : No Option Orientation : Vertical

Correct Marks : 1 Wrong Marks : 0.25

Which category is not posing a threat to children in the process of their education?

Options :

1. ✘ Sensory impairment
2. ✘ Problem with language and communication
3. ✔ Children having neither cognitive nor learning disabilities
4. ✘ Physical deviations

Question Number : 197 Question Id : 97675520003 Question Type : MCQ Option Shuffling : Yes Is Question Mandatory : No Option Orientation : Vertical

Correct Marks : 1 Wrong Marks : 0.25

कौन सी श्रेणी बच्चों के लिए उनकी शिक्षा की प्रक्रिया में खतरा पैदा नहीं कर रही हैं?

Options :

1. ✘ संवेदी क्षति
2. ✘ भाषा और संचार के साथ समस्या

3. ✓ जिन बच्चों में न तो संज्ञानात्मक और न ही सीखने की अक्षमता है

4. ✗ शारीरिक विचलन

Question Number : 198 Question Id : 97675520004 Question Type : MCQ Option Shuffling : Yes Is Question Mandatory : No Option Orientation : Vertical

Correct Marks : 1 Wrong Marks : 0.25

Which of the following statement is correct?

I. Gender differences are culturally influenced and socially constructed.

II. Gender – segregated activities create belief that gender differences are essential nature of males and females.

Options :

1. ✗ Only I

2. ✗ Only II

3. ✓ Both I and II

4. ✗ Neither I nor II

Question Number : 198 Question Id : 97675520004 Question Type : MCQ Option Shuffling : Yes Is Question Mandatory : No Option Orientation : Vertical

Correct Marks : 1 Wrong Marks : 0.25

निम्नलिखित में से कौन सा कथन सही है?

I. जेन्डर भेदभाव सांस्कृतिक रूप से प्रभावित और सामाजिक रूप से निर्मित होते हैं।

II. जेन्डर विभाजित क्रियाकलाप यह विश्वास उत्पन्न करता है कि जेन्डर भेदभाव पुरुषों और महिलाओं की आवश्यक प्रकृति है।

Options :

1. ✗ केवल I

2. ✗ केवल II

3. ✓ I तथा II दोनों

4. ✗ ना ही I ना ही II

Question Number : 199 Question Id : 97675520005 Question Type : MCQ Option Shuffling : Yes Is Question Mandatory : No Option Orientation : Vertical

Correct Marks : 1 Wrong Marks : 0.25

Phrases like 'change of heart', 'each and every' are found in _____.

Options :

1. ✘ Australian English
2. ✘ British English
3. ✘ Indigenous English
4. ✔ Indian English

Question Number : 199 Question Id : 97675520005 Question Type : MCQ Option Shuffling : Yes Is Question Mandatory : No Option Orientation : Vertical

Correct Marks : 1 Wrong Marks : 0.25

‘चेज ऑफ हार्ट’, ‘इच एंड एवरी’, जैसे वाक्यांश _____ में पाए जाते हैं।

Options :

1. ✘ ऑस्ट्रेलियाई अंग्रेजी
2. ✘ ब्रिटिश अंग्रेजी
3. ✘ देशज अंग्रेजी
4. ✔ भारतीय अंग्रेजी

Question Number : 200 Question Id : 97675520006 Question Type : MCQ Option Shuffling : Yes Is Question Mandatory : No Option Orientation : Vertical

Correct Marks : 1 Wrong Marks : 0.25

To foster creativity in the children, which of the following instructional materials are used?

- I. Puzzle solving
- II. Riddle solving
- III. Poem writing

Options :

1. ✘ II and III
2. ✘ Only I
3. ✘ Only III
4. ✔ I, II and III

Question Number : 200 Question Id : 97675520006 Question Type : MCQ Option Shuffling : Yes Is Question Mandatory : No Option Orientation : Vertical

Correct Marks : 1 Wrong Marks : 0.25

बच्चों में रचनात्मकता को प्रोत्साहित करने के लिए, निम्नलिखित में से कौन सी निर्देशात्मक सामग्री का उपयोग किया जाता है?

I. पहेली (पजल) हल करना

II रिड्डल हल करना

III. कविता लेखन

Options :

1. ✘ II तथा III

2. ✘ केवल I

3. ✘ केवल III

4. ✔ I, II तथा III